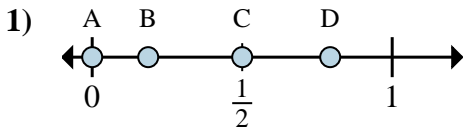
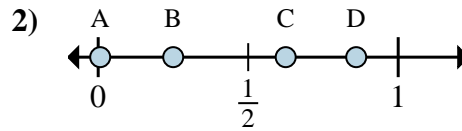




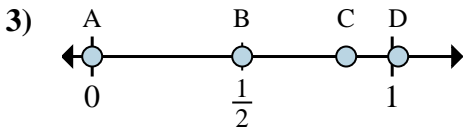
Stelle fest, welcher Buchstabe die richtige Lage auf dem Zahlenstrahl darstellt.

Antworten

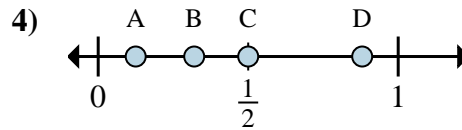
- a. Welcher Buchstabe zeigt die richtige Lage von $\frac{0}{2}$
- b. Welcher Buchstabe zeigt die richtige Lage von $\frac{1}{2}$



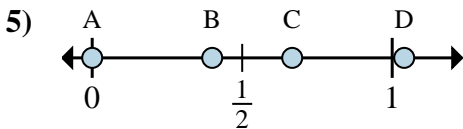
- a. Welcher Buchstabe zeigt die richtige Lage von $\frac{2}{8}$
- b. Welcher Buchstabe zeigt die richtige Lage von $\frac{5}{8}$



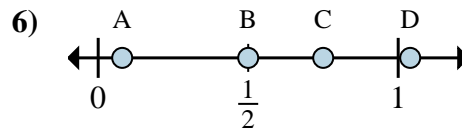
- a. Welcher Buchstabe zeigt die richtige Lage von $\frac{0}{6}$
- b. Welcher Buchstabe zeigt die richtige Lage von $\frac{3}{6}$



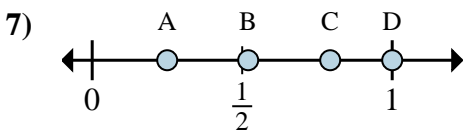
- a. Welcher Buchstabe zeigt die richtige Lage von $\frac{1}{8}$
- b. Welcher Buchstabe zeigt die richtige Lage von $\frac{4}{8}$



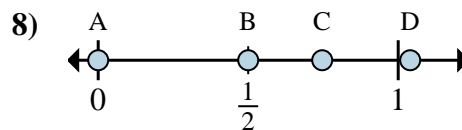
- a. Welcher Buchstabe zeigt die richtige Lage von $\frac{0}{3}$
- b. Welcher Buchstabe zeigt die richtige Lage von $\frac{2}{3}$



- a. Welcher Buchstabe zeigt die richtige Lage von $\frac{2}{4}$
- b. Welcher Buchstabe zeigt die richtige Lage von $\frac{3}{4}$



- a. Welcher Buchstabe zeigt die richtige Lage von $\frac{1}{4}$
- b. Welcher Buchstabe zeigt die richtige Lage von $\frac{4}{4}$



- a. Welcher Buchstabe zeigt die richtige Lage von $\frac{0}{2}$
- b. Welcher Buchstabe zeigt die richtige Lage von $\frac{1}{2}$

1. _____

2. _____

3. _____

4. _____

5. _____

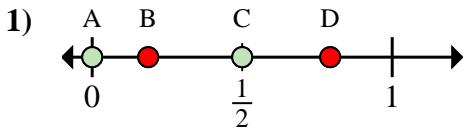
6. _____

7. _____

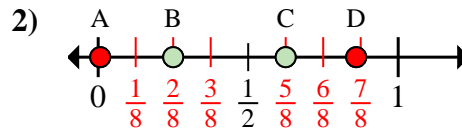
8. _____



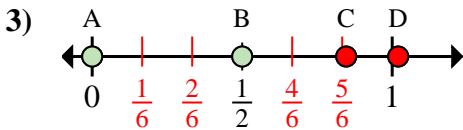
Stelle fest, welcher Buchstabe die richtige Lage auf dem Zahlenstrahl darstellt.

Antworten

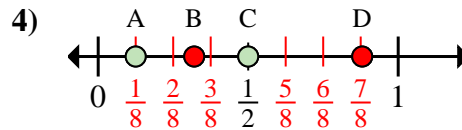
- a. Welcher Buchstabe zeigt die richtige Lage von $\frac{0}{2}$
- b. Welcher Buchstabe zeigt die richtige Lage von $\frac{1}{2}$



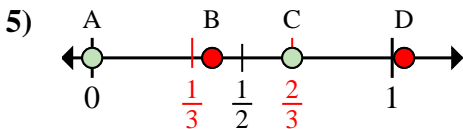
- a. Welcher Buchstabe zeigt die richtige Lage von $\frac{2}{8}$
- b. Welcher Buchstabe zeigt die richtige Lage von $\frac{5}{8}$



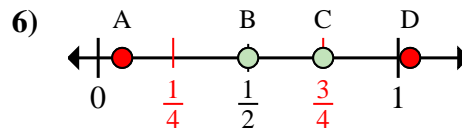
- a. Welcher Buchstabe zeigt die richtige Lage von $\frac{0}{6}$
- b. Welcher Buchstabe zeigt die richtige Lage von $\frac{3}{6}$



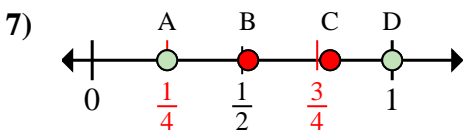
- a. Welcher Buchstabe zeigt die richtige Lage von $\frac{1}{8}$
- b. Welcher Buchstabe zeigt die richtige Lage von $\frac{4}{8}$



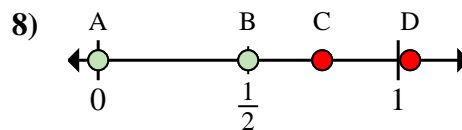
- a. Welcher Buchstabe zeigt die richtige Lage von $\frac{0}{3}$
- b. Welcher Buchstabe zeigt die richtige Lage von $\frac{2}{3}$



- a. Welcher Buchstabe zeigt die richtige Lage von $\frac{2}{4}$
- b. Welcher Buchstabe zeigt die richtige Lage von $\frac{3}{4}$



- a. Welcher Buchstabe zeigt die richtige Lage von $\frac{1}{4}$
- b. Welcher Buchstabe zeigt die richtige Lage von $\frac{4}{4}$



- a. Welcher Buchstabe zeigt die richtige Lage von $\frac{0}{2}$
- b. Welcher Buchstabe zeigt die richtige Lage von $\frac{1}{2}$

1. A C
2. B C
3. A B
4. A C
5. A C
6. B C
7. A D
8. A B