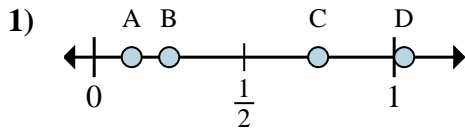
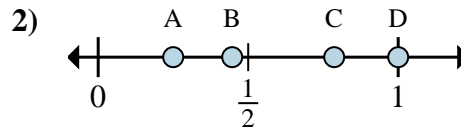




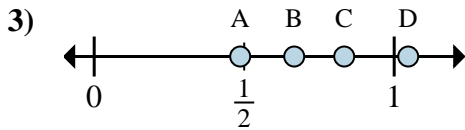
Stelle fest, welcher Buchstabe die richtige Lage auf dem Zahlenstrahl darstellt.

Antworten

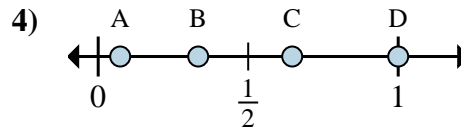
- a. Welcher Buchstabe zeigt die richtige Lage von  $\frac{1}{8}$
- b. Welcher Buchstabe zeigt die richtige Lage von  $\frac{2}{8}$



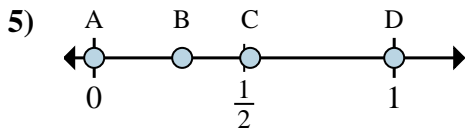
- a. Welcher Buchstabe zeigt die richtige Lage von  $\frac{4}{4}$
- b. Welcher Buchstabe zeigt die richtige Lage von  $\frac{1}{4}$



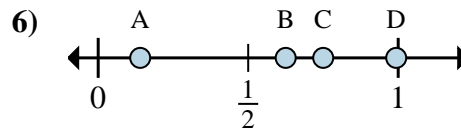
- a. Welcher Buchstabe zeigt die richtige Lage von  $\frac{5}{6}$
- b. Welcher Buchstabe zeigt die richtige Lage von  $\frac{4}{6}$



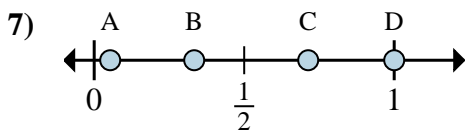
- a. Welcher Buchstabe zeigt die richtige Lage von  $\frac{3}{3}$
- b. Welcher Buchstabe zeigt die richtige Lage von  $\frac{1}{3}$



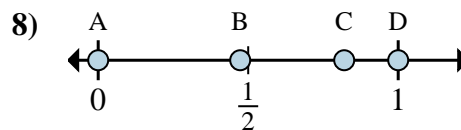
- a. Welcher Buchstabe zeigt die richtige Lage von  $\frac{0}{2}$
- b. Welcher Buchstabe zeigt die richtige Lage von  $\frac{2}{2}$



- a. Welcher Buchstabe zeigt die richtige Lage von  $\frac{6}{8}$
- b. Welcher Buchstabe zeigt die richtige Lage von  $\frac{5}{8}$



- a. Welcher Buchstabe zeigt die richtige Lage von  $\frac{1}{3}$
- b. Welcher Buchstabe zeigt die richtige Lage von  $\frac{3}{3}$



- a. Welcher Buchstabe zeigt die richtige Lage von  $\frac{0}{2}$
- b. Welcher Buchstabe zeigt die richtige Lage von  $\frac{2}{2}$

1. \_\_\_\_\_

2. \_\_\_\_\_

3. \_\_\_\_\_

4. \_\_\_\_\_

5. \_\_\_\_\_

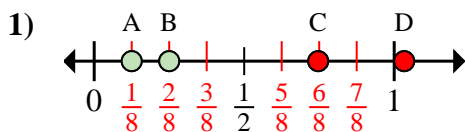
6. \_\_\_\_\_

7. \_\_\_\_\_

8. \_\_\_\_\_

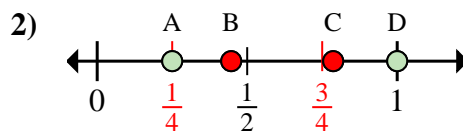


Stelle fest, welcher Buchstabe die richtige Lage auf dem Zahlenstrahl darstellt.

**Antworten**

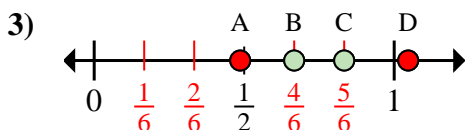
a. Welcher Buchstabe zeigt die richtige Lage von  $\frac{1}{8}$

b. Welcher Buchstabe zeigt die richtige Lage von  $\frac{2}{8}$



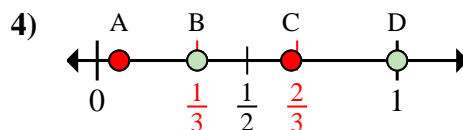
a. Welcher Buchstabe zeigt die richtige Lage von  $\frac{4}{4}$

b. Welcher Buchstabe zeigt die richtige Lage von  $\frac{1}{4}$



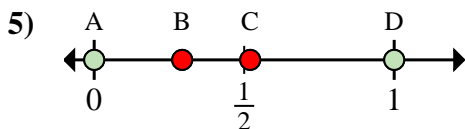
a. Welcher Buchstabe zeigt die richtige Lage von  $\frac{5}{6}$

b. Welcher Buchstabe zeigt die richtige Lage von  $\frac{4}{6}$



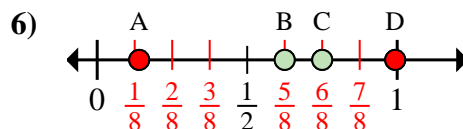
a. Welcher Buchstabe zeigt die richtige Lage von  $\frac{3}{3}$

b. Welcher Buchstabe zeigt die richtige Lage von  $\frac{1}{3}$



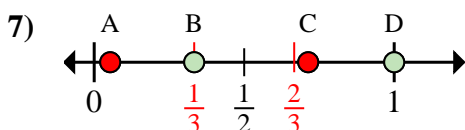
a. Welcher Buchstabe zeigt die richtige Lage von  $\frac{0}{2}$

b. Welcher Buchstabe zeigt die richtige Lage von  $\frac{2}{2}$



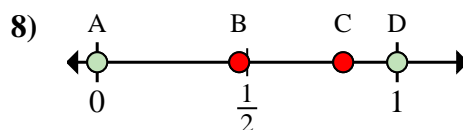
a. Welcher Buchstabe zeigt die richtige Lage von  $\frac{6}{8}$

b. Welcher Buchstabe zeigt die richtige Lage von  $\frac{5}{8}$



a. Welcher Buchstabe zeigt die richtige Lage von  $\frac{1}{3}$

b. Welcher Buchstabe zeigt die richtige Lage von  $\frac{3}{3}$



a. Welcher Buchstabe zeigt die richtige Lage von  $\frac{0}{2}$

b. Welcher Buchstabe zeigt die richtige Lage von  $\frac{2}{2}$

1. A B2. D A3. C B4. D B5. A D6. C B7. B D8. A D