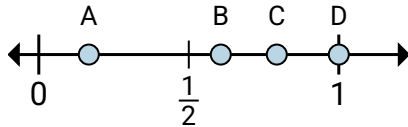


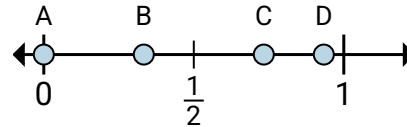
**Stelle fest, welcher Buchstabe die richtige Lage auf dem Zahlenstrahl darstellt.****Antworten**

1)



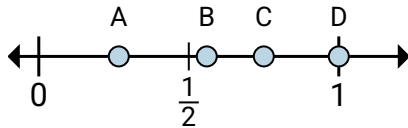
- a. Welcher Buchstabe zeigt  $\frac{6}{6}$  am besten?
- b. Welcher Buchstabe zeigt  $\frac{1}{6}$  am besten?

2)



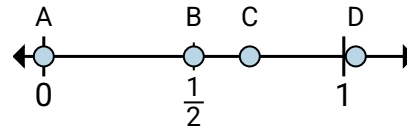
- a. Welcher Buchstabe zeigt  $\frac{0}{3}$  am besten?
- b. Welcher Buchstabe zeigt  $\frac{1}{3}$  am besten?

3)



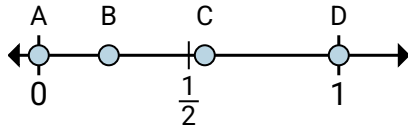
- a. Welcher Buchstabe zeigt  $\frac{3}{4}$  am besten?
- b. Welcher Buchstabe zeigt  $\frac{4}{4}$  am besten?

4)



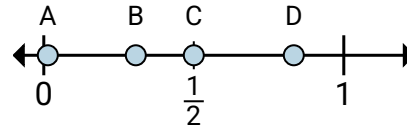
- a. Welcher Buchstabe zeigt  $\frac{0}{4}$  am besten?
- b. Welcher Buchstabe zeigt  $\frac{2}{4}$  am besten?

5)



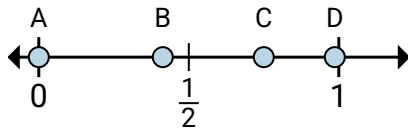
- a. Welcher Buchstabe zeigt  $\frac{0}{2}$  am besten?
- b. Welcher Buchstabe zeigt  $\frac{2}{2}$  am besten?

6)



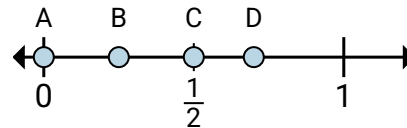
- a. Welcher Buchstabe zeigt  $\frac{3}{6}$  am besten?
- b. Welcher Buchstabe zeigt  $\frac{5}{6}$  am besten?

7)



- a. Welcher Buchstabe zeigt  $\frac{0}{4}$  am besten?
- b. Welcher Buchstabe zeigt  $\frac{3}{4}$  am besten?

8)



- a. Welcher Buchstabe zeigt  $\frac{0}{8}$  am besten?
- b. Welcher Buchstabe zeigt  $\frac{2}{8}$  am besten?

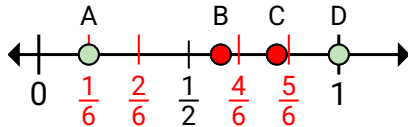
1. \_\_\_\_\_
2. \_\_\_\_\_
3. \_\_\_\_\_
4. \_\_\_\_\_
5. \_\_\_\_\_
6. \_\_\_\_\_
7. \_\_\_\_\_
8. \_\_\_\_\_



Stelle fest, welcher Buchstabe die richtige Lage auf dem Zahlenstrahl darstellt.

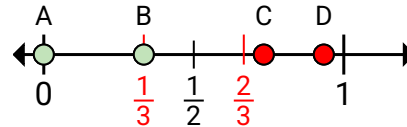
Antworten

1)



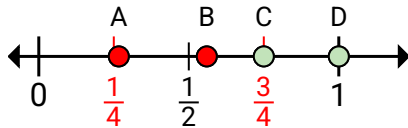
- a. Welcher Buchstabe zeigt  $\frac{6}{6}$  am besten?
- b. Welcher Buchstabe zeigt  $\frac{1}{6}$  am besten?

2)



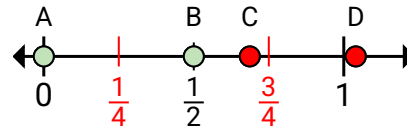
- a. Welcher Buchstabe zeigt  $\frac{0}{3}$  am besten?
- b. Welcher Buchstabe zeigt  $\frac{1}{3}$  am besten?

3)



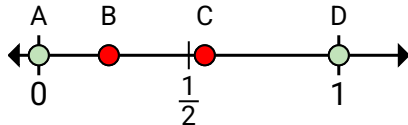
- a. Welcher Buchstabe zeigt  $\frac{3}{4}$  am besten?
- b. Welcher Buchstabe zeigt  $\frac{4}{4}$  am besten?

4)



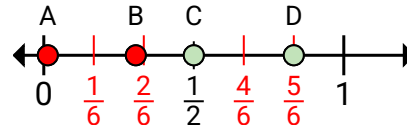
- a. Welcher Buchstabe zeigt  $\frac{0}{4}$  am besten?
- b. Welcher Buchstabe zeigt  $\frac{2}{4}$  am besten?

5)



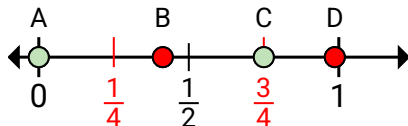
- a. Welcher Buchstabe zeigt  $\frac{0}{2}$  am besten?
- b. Welcher Buchstabe zeigt  $\frac{2}{2}$  am besten?

6)



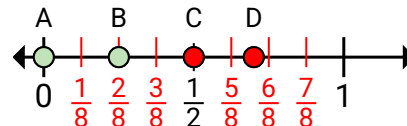
- a. Welcher Buchstabe zeigt  $\frac{3}{6}$  am besten?
- b. Welcher Buchstabe zeigt  $\frac{5}{6}$  am besten?

7)



- a. Welcher Buchstabe zeigt  $\frac{0}{4}$  am besten?
- b. Welcher Buchstabe zeigt  $\frac{3}{4}$  am besten?

8)



- a. Welcher Buchstabe zeigt  $\frac{0}{8}$  am besten?
- b. Welcher Buchstabe zeigt  $\frac{2}{8}$  am besten?

1. D A
2. A B
3. C D
4. A B
5. A D
6. C D
7. A C
8. A B