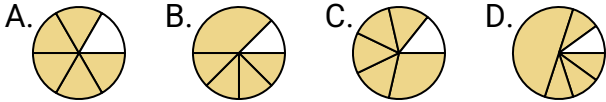
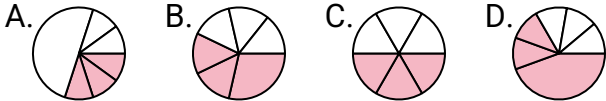
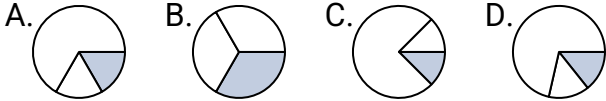
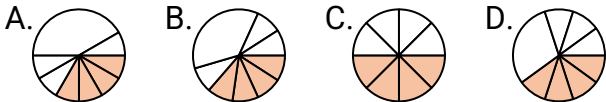
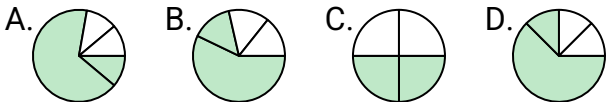
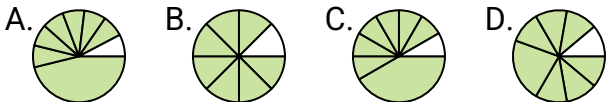
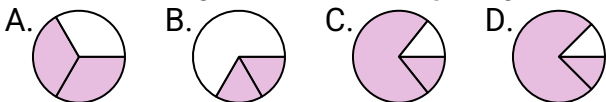
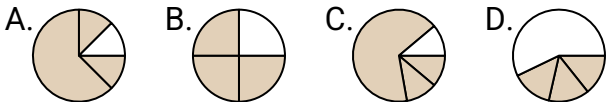
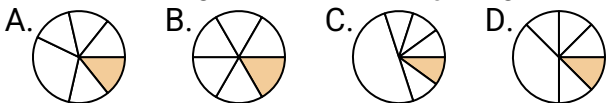
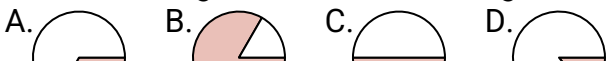


**Stelle fest, welcher Buchstabe jeden Bruch darstellt.****Antworten**1) Durch welche Möglichkeit wird $\frac{5}{6}$ dargestellt?2) Durch welche Möglichkeit wird $\frac{3}{6}$ dargestellt?3) Durch welche Möglichkeit wird $\frac{1}{3}$ dargestellt?4) Durch welche Möglichkeit wird $\frac{4}{8}$ dargestellt?5) Durch welche Möglichkeit wird $\frac{2}{4}$ dargestellt?6) Durch welche Möglichkeit wird $\frac{7}{8}$ dargestellt?7) Durch welche Möglichkeit wird $\frac{2}{3}$ dargestellt?8) Durch welche Möglichkeit wird $\frac{3}{8}$ dargestellt?9) Durch welche Möglichkeit wird $\frac{3}{4}$ dargestellt?10) Durch welche Möglichkeit wird $\frac{1}{6}$ dargestellt?11) Durch welche Möglichkeit wird $\frac{1}{2}$ dargestellt?

1. _____

2. _____

3. _____

4. _____

5. _____

6. _____

7. _____

8. _____

9. _____

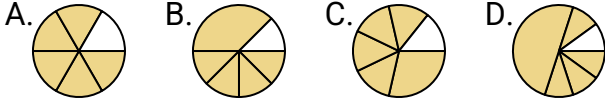
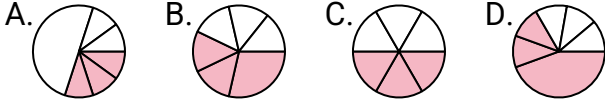
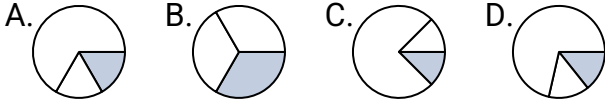
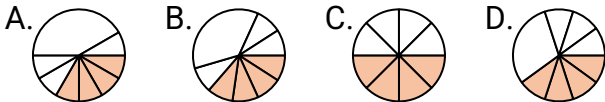
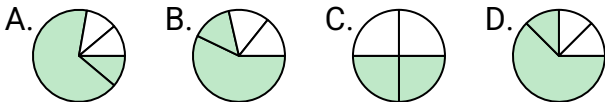
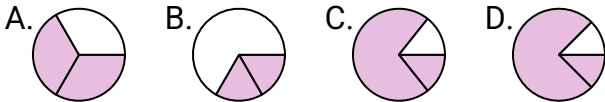
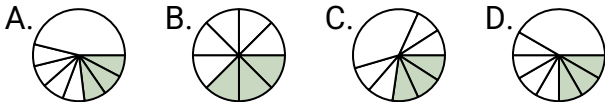
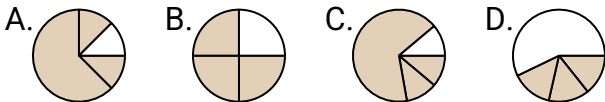
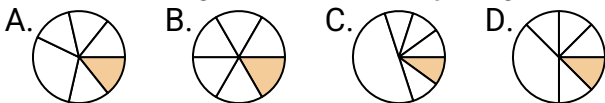
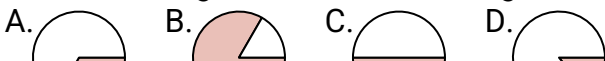
10. _____

11. _____

12. _____



Stelle fest, welcher Buchstabe jeden Bruch darstellt.

Antworten1) Durch welche Möglichkeit wird $\frac{5}{6}$ dargestellt?1. **A**2) Durch welche Möglichkeit wird $\frac{3}{6}$ dargestellt?2. **C**3) Durch welche Möglichkeit wird $\frac{1}{3}$ dargestellt?3. **B**4) Durch welche Möglichkeit wird $\frac{4}{8}$ dargestellt?4. **C**5) Durch welche Möglichkeit wird $\frac{2}{4}$ dargestellt?5. **C**6) Durch welche Möglichkeit wird $\frac{7}{8}$ dargestellt?6. **B**7) Durch welche Möglichkeit wird $\frac{2}{3}$ dargestellt?7. **A**8) Durch welche Möglichkeit wird $\frac{3}{8}$ dargestellt?8. **B**9) Durch welche Möglichkeit wird $\frac{3}{4}$ dargestellt?9. **B**10) Durch welche Möglichkeit wird $\frac{1}{6}$ dargestellt?10. **B**11) Durch welche Möglichkeit wird $\frac{1}{2}$ dargestellt?11. **C**12. **C**