


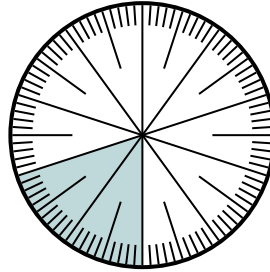


Löse jede Aufgabe.

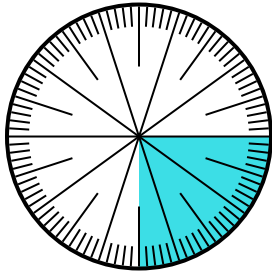
- 1) Drücken Sie den nicht beschattet-Anteil als Bruchteil des Ganzen mit einem 100 als Nenner aus.



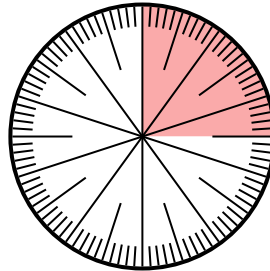
- 2) Drücken Sie den schattiert-Anteil als Dezimalzahl des Ganzen aus.



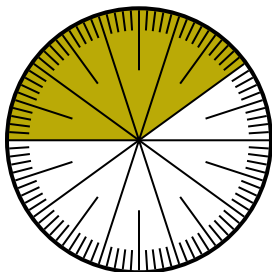
- 3) Drücken Sie den schattiert-Anteil als Dezimalzahl des Ganzen aus.



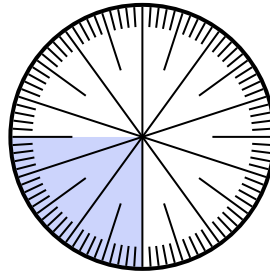
- 4) Drücken Sie den nicht beschattet-Anteil als Dezimalzahl des Ganzen aus.



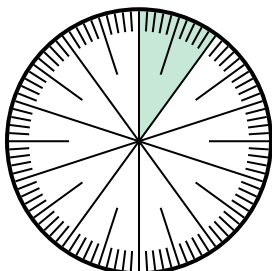
- 5) Drücken Sie den nicht beschattet-Anteil als Bruchteil des Ganzen mit einem 100 als Nenner aus.



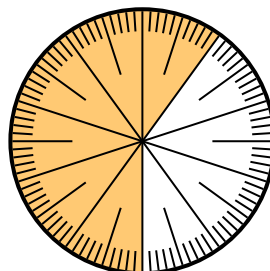
- 6) Drücken Sie den nicht beschattet-Anteil als Dezimalzahl des Ganzen aus.



- 7) Drücken Sie den nicht beschattet-Anteil als Dezimalzahl des Ganzen aus.



- 8) Drücken Sie den schattiert-Anteil als Dezimalzahl des Ganzen aus.




**Antworten**

1. \_\_\_\_\_
2. \_\_\_\_\_
3. \_\_\_\_\_
4. \_\_\_\_\_
5. \_\_\_\_\_
6. \_\_\_\_\_
7. \_\_\_\_\_
8. \_\_\_\_\_

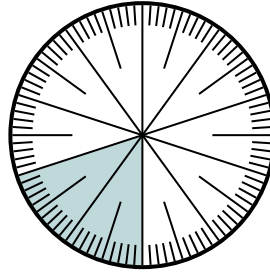


Löse jede Aufgabe.

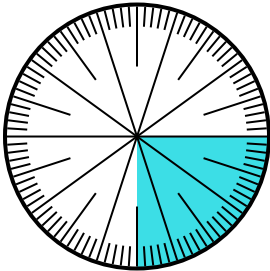
- 1) Drücken Sie den nicht beschattet-Anteil als Bruchteil des Ganzen mit einem 100 als Nenner aus.



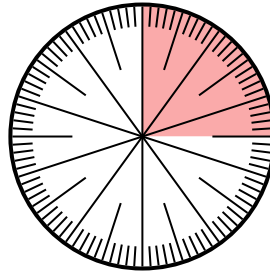
- 2) Drücken Sie den schattiert-Anteil als Dezimalzahl des Ganzen aus.



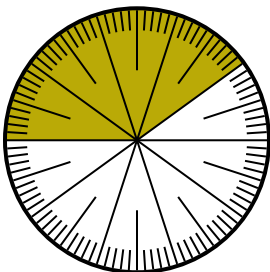
- 3) Drücken Sie den schattiert-Anteil als Dezimalzahl des Ganzen aus.



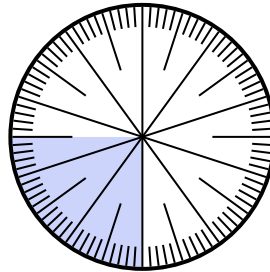
- 4) Drücken Sie den nicht beschattet-Anteil als Dezimalzahl des Ganzen aus.



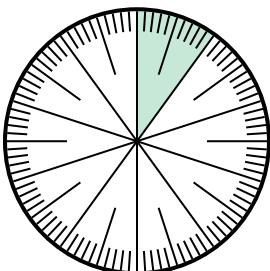
- 5) Drücken Sie den nicht beschattet-Anteil als Bruchteil des Ganzen mit einem 100 als Nenner aus.



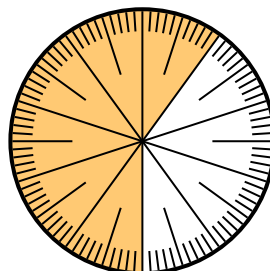
- 6) Drücken Sie den nicht beschattet-Anteil als Dezimalzahl des Ganzen aus.



- 7) Drücken Sie den nicht beschattet-Anteil als Dezimalzahl des Ganzen aus.



- 8) Drücken Sie den schattiert-Anteil als Dezimalzahl des Ganzen aus.

**Antworten**

1.  $\frac{15}{100}$

2.  $0,2$

3.  $0,25$

4.  $0,75$

5.  $\frac{60}{100}$

6.  $0,75$

7.  $0,9$

8.  $0,6$