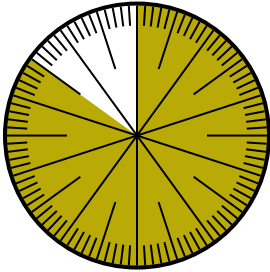


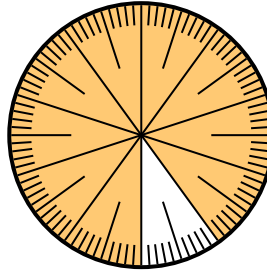


Löse jede Aufgabe.

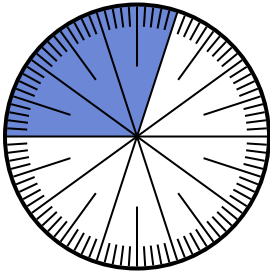
- 1) Drücken Sie den schattiert-Anteil als Bruchteil des Ganzen mit einem 100 als Nenner aus.



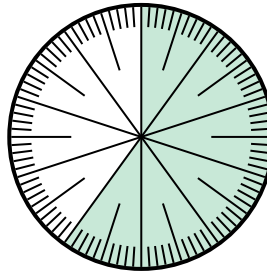
- 2) Drücken Sie den schattiert-Anteil als Dezimalzahl des Ganzen aus.



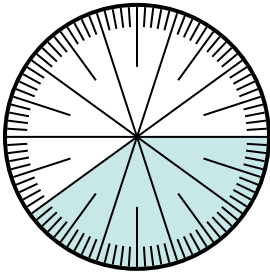
- 3) Drücken Sie den schattiert-Anteil als Dezimalzahl des Ganzen aus.



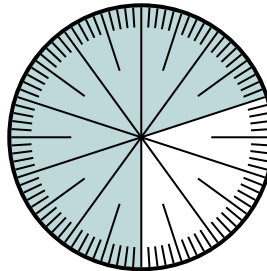
- 4) Drücken Sie den schattiert-Anteil als Bruchteil des Ganzen mit einem 10 als Nenner aus.




- 5) Drücken Sie den schattiert-Anteil als Dezimalzahl des Ganzen aus.



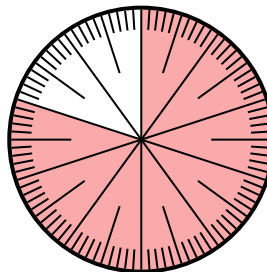
- 6) Drücken Sie den schattiert-Anteil als Bruchteil des Ganzen mit einem 100 als Nenner aus.



- 7) Drücken Sie den schattiert-Anteil als Dezimalzahl des Ganzen aus.



- 8) Drücken Sie den schattiert-Anteil als Bruchteil des Ganzen mit einem 100 als Nenner aus.



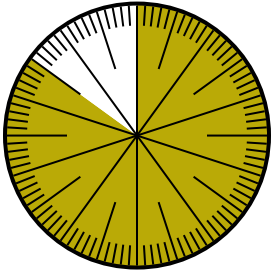
Antworten

1. _____
2. _____
3. _____
4. _____
5. _____
6. _____
7. _____
8. _____

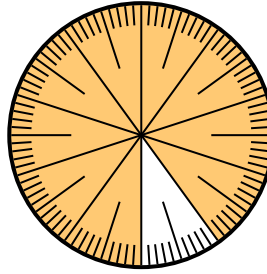


Löse jede Aufgabe.

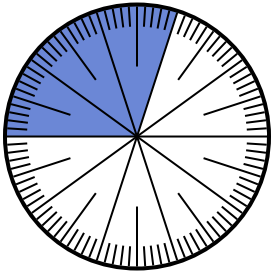
- 1) Drücken Sie den schattiert-Anteil als Bruchteil des Ganzen mit einem 100 als Nenner aus.



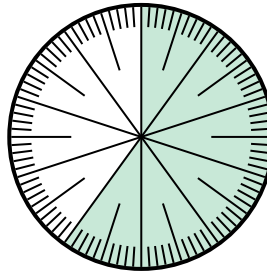
- 2) Drücken Sie den schattiert-Anteil als Dezimalzahl des Ganzen aus.



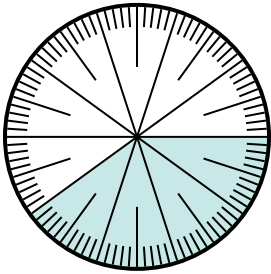
- 3) Drücken Sie den schattiert-Anteil als Dezimalzahl des Ganzen aus.



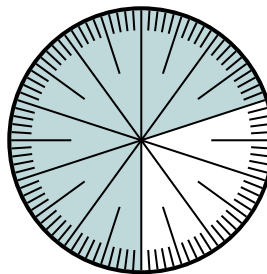
- 4) Drücken Sie den schattiert-Anteil als Bruchteil des Ganzen mit einem 10 als Nenner aus.



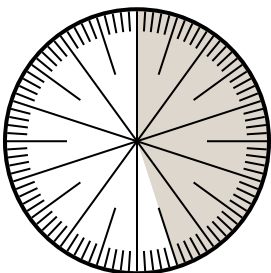
- 5) Drücken Sie den schattiert-Anteil als Dezimalzahl des Ganzen aus.



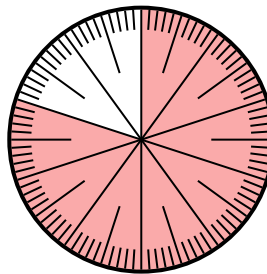
- 6) Drücken Sie den schattiert-Anteil als Bruchteil des Ganzen mit einem 100 als Nenner aus.



- 7) Drücken Sie den schattiert-Anteil als Dezimalzahl des Ganzen aus.



- 8) Drücken Sie den schattiert-Anteil als Bruchteil des Ganzen mit einem 100 als Nenner aus.

**Antworten**

1. $\frac{85}{100}$

2. $0,9$

3. $0,3$

4. $\frac{6}{10}$

5. $0,4$

6. $\frac{70}{100}$

7. $0,45$

8. $\frac{80}{100}$