



Stelle fest, welche Wahlmöglichkeit die Frage beantwortet.

Antworten

1) Welche der unten stehenden Figuren ist so schattiert, dass sie $\frac{3}{8}$ darstellt?



2) Welche der unten stehenden Figuren ist so schattiert, dass sie $\frac{4}{8}$ darstellt?



3) Welche der unten stehenden Figuren ist so schattiert, dass sie $\frac{3}{6}$ darstellt?



4) Welche der unten stehenden Figuren ist so schattiert, dass sie $\frac{8}{10}$ darstellt?



5) Welche der unten stehenden Figuren ist so schattiert, dass sie $\frac{3}{10}$ darstellt?



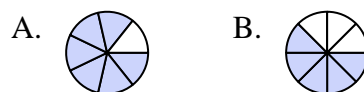
6) Welche der unten stehenden Figuren ist so schattiert, dass sie $\frac{2}{6}$ darstellt?



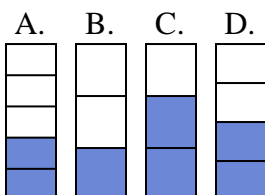
7) Welche der unten stehenden Figuren ist so schattiert, dass sie $\frac{5}{10}$ darstellt?



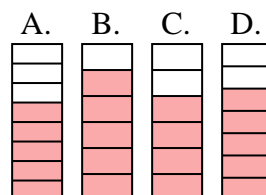
8) Welche der unten stehenden Figuren ist so schattiert, dass sie $\frac{6}{8}$ darstellt?



9) Welche der unten stehenden Figuren ist so schattiert, dass sie $\frac{2}{4}$ darstellt?



10) Welche der unten stehenden Figuren ist so schattiert, dass sie $\frac{5}{7}$ darstellt?



1. _____

2. _____

3. _____

4. _____

5. _____

6. _____

7. _____

8. _____

9. _____

10. _____



Stelle fest, welche Wahlmöglichkeit die Frage beantwortet.

Antworten

1) Welche der unten stehenden Figuren ist so schattiert, dass sie $\frac{3}{8}$ darstellt?




2) Welche der unten stehenden Figuren ist so schattiert, dass sie $\frac{4}{8}$ darstellt?



3) Welche der unten stehenden Figuren ist so schattiert, dass sie $\frac{3}{6}$ darstellt?



4) Welche der unten stehenden Figuren ist so schattiert, dass sie $\frac{8}{10}$ darstellt?



5) Welche der unten stehenden Figuren ist so schattiert, dass sie $\frac{3}{10}$ darstellt?



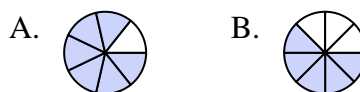
6) Welche der unten stehenden Figuren ist so schattiert, dass sie $\frac{2}{6}$ darstellt?



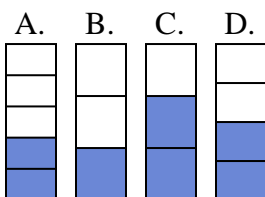
7) Welche der unten stehenden Figuren ist so schattiert, dass sie $\frac{5}{10}$ darstellt?



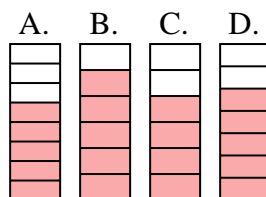
8) Welche der unten stehenden Figuren ist so schattiert, dass sie $\frac{6}{8}$ darstellt?



9) Welche der unten stehenden Figuren ist so schattiert, dass sie $\frac{2}{4}$ darstellt?



10) Welche der unten stehenden Figuren ist so schattiert, dass sie $\frac{5}{7}$ darstellt?

1. **B**2. **D**3. **C**4. **D**5. **C**6. **B**7. **C**8. **D**9. **D**10. **D**