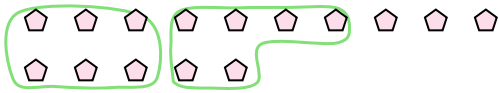




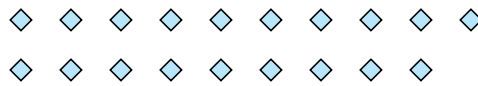
Verwende die Beispiele mit den Figuren im Feld zur Beantwortung der Fragen.

Antworten

Bsp) Es gibt 15 Figuren unten. Wie viele Gruppen mit 6 kannst du daraus machen? Wie viele Figuren wirst du übrig haben?



1) Es gibt 19 Figuren unten. Wie viele Gruppen mit 9 kannst du daraus machen? Wie viele Figuren wirst du übrig haben?



Bsp. 2 3

1. _____

2. _____

3. _____

4. _____

5. _____

6. _____

7. _____

8. _____

9. _____


2) Es gibt 12 Figuren unten. Wie viele Gruppen mit 8 kannst du daraus machen? Wie viele Figuren wirst du übrig haben?



3) Es gibt 16 Figuren unten. Wie viele Gruppen mit 9 kannst du daraus machen? Wie viele Figuren wirst du übrig haben?



4) Es gibt 30 Figuren unten. Wie viele Gruppen mit 4 kannst du daraus machen? Wie viele Figuren wirst du übrig haben?




5) Es gibt 24 Figuren unten. Wie viele Gruppen mit 2 kannst du daraus machen? Wie viele Figuren wirst du übrig haben?



6) Es gibt 10 Figuren unten. Wie viele Gruppen mit 6 kannst du daraus machen? Wie viele Figuren wirst du übrig haben?




7) Es gibt 24 Figuren unten. Wie viele Gruppen mit 8 kannst du daraus machen? Wie viele Figuren wirst du übrig haben?



8) Es gibt 10 Figuren unten. Wie viele Gruppen mit 7 kannst du daraus machen? Wie viele Figuren wirst du übrig haben?



9) Es gibt 26 Figuren unten. Wie viele Gruppen mit 6 kannst du daraus machen? Wie viele Figuren wirst du übrig haben?

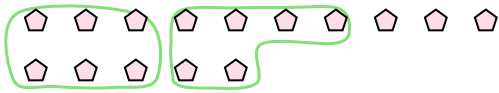




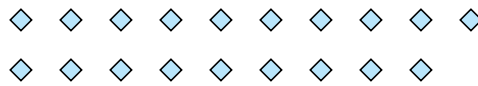
Verwende die Beispiele mit den Figuren im Feld zur Beantwortung der Fragen.

Antworten

Bsp) Es gibt 15 Figuren unten. Wie viele Gruppen mit 6 kannst du daraus machen? Wie viele Figuren wirst du übrig haben?



1) Es gibt 19 Figuren unten. Wie viele Gruppen mit 9 kannst du daraus machen? Wie viele Figuren wirst du übrig haben?



Bsp. 2 3

1. 2 1

2. 1 4

3. 1 7

4. 7 2

5. 12 0

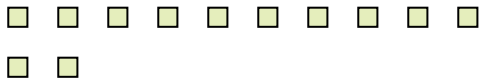
6. 1 4

7. 3 0

8. 1 3

9. 4 2


2) Es gibt 12 Figuren unten. Wie viele Gruppen mit 8 kannst du daraus machen? Wie viele Figuren wirst du übrig haben?



3) Es gibt 16 Figuren unten. Wie viele Gruppen mit 9 kannst du daraus machen? Wie viele Figuren wirst du übrig haben?



4) Es gibt 30 Figuren unten. Wie viele Gruppen mit 4 kannst du daraus machen? Wie viele Figuren wirst du übrig haben?




5) Es gibt 24 Figuren unten. Wie viele Gruppen mit 2 kannst du daraus machen? Wie viele Figuren wirst du übrig haben?



6) Es gibt 10 Figuren unten. Wie viele Gruppen mit 6 kannst du daraus machen? Wie viele Figuren wirst du übrig haben?



7) Es gibt 24 Figuren unten. Wie viele Gruppen mit 8 kannst du daraus machen? Wie viele Figuren wirst du übrig haben?



8) Es gibt 10 Figuren unten. Wie viele Gruppen mit 7 kannst du daraus machen? Wie viele Figuren wirst du übrig haben?



9) Es gibt 26 Figuren unten. Wie viele Gruppen mit 6 kannst du daraus machen? Wie viele Figuren wirst du übrig haben?

