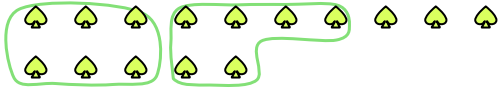




Verwende die Beispiele mit den Figuren im Feld zur Beantwortung der Fragen.

**Antworten**

Bsp) Es gibt 15 Figuren unten. Wie viele Gruppen mit 6 kannst du daraus machen? Wie viele Figuren wirst du übrig haben?



1) Es gibt 30 Figuren unten. Wie viele Gruppen mit 5 kannst du daraus machen? Wie viele Figuren wirst du übrig haben?



Bsp.   2     3  

1. \_\_\_\_\_

2. \_\_\_\_\_

3. \_\_\_\_\_

4. \_\_\_\_\_

5. \_\_\_\_\_

6. \_\_\_\_\_

7. \_\_\_\_\_

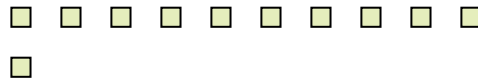
8. \_\_\_\_\_

9. \_\_\_\_\_


2) Es gibt 15 Figuren unten. Wie viele Gruppen mit 7 kannst du daraus machen? Wie viele Figuren wirst du übrig haben?



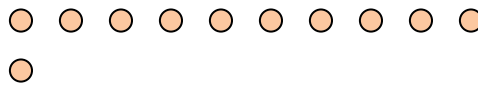
3) Es gibt 11 Figuren unten. Wie viele Gruppen mit 6 kannst du daraus machen? Wie viele Figuren wirst du übrig haben?



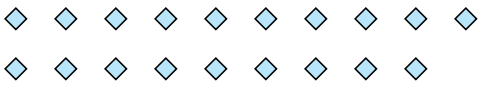
4) Es gibt 16 Figuren unten. Wie viele Gruppen mit 3 kannst du daraus machen? Wie viele Figuren wirst du übrig haben?



5) Es gibt 11 Figuren unten. Wie viele Gruppen mit 2 kannst du daraus machen? Wie viele Figuren wirst du übrig haben?




6) Es gibt 19 Figuren unten. Wie viele Gruppen mit 5 kannst du daraus machen? Wie viele Figuren wirst du übrig haben?



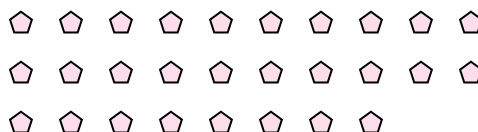
7) Es gibt 13 Figuren unten. Wie viele Gruppen mit 9 kannst du daraus machen? Wie viele Figuren wirst du übrig haben?



8) Es gibt 27 Figuren unten. Wie viele Gruppen mit 9 kannst du daraus machen? Wie viele Figuren wirst du übrig haben?



9) Es gibt 28 Figuren unten. Wie viele Gruppen mit 2 kannst du daraus machen? Wie viele Figuren wirst du übrig haben?

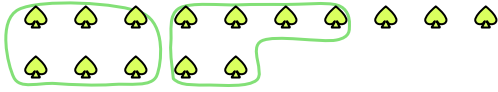





Verwende die Beispiele mit den Figuren im Feld zur Beantwortung der Fragen.

**Antworten**

Bsp) Es gibt 15 Figuren unten. Wie viele Gruppen mit 6 kannst du daraus machen? Wie viele Figuren wirst du übrig haben?



1) Es gibt 30 Figuren unten. Wie viele Gruppen mit 5 kannst du daraus machen? Wie viele Figuren wirst du übrig haben?



Bsp.   2     3  

1.   6     0  

2.   2     1  

3.   1     5  

4.   5     1  

5.   5     1  

6.   3     4  

7.   1     4  

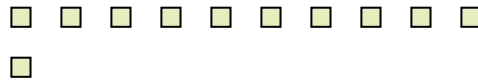
8.   3     0  

9.  14     0  

2) Es gibt 15 Figuren unten. Wie viele Gruppen mit 7 kannst du daraus machen? Wie viele Figuren wirst du übrig haben?



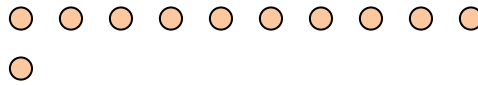
3) Es gibt 11 Figuren unten. Wie viele Gruppen mit 6 kannst du daraus machen? Wie viele Figuren wirst du übrig haben?



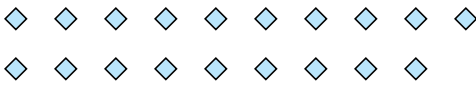
4) Es gibt 16 Figuren unten. Wie viele Gruppen mit 3 kannst du daraus machen? Wie viele Figuren wirst du übrig haben?



5) Es gibt 11 Figuren unten. Wie viele Gruppen mit 2 kannst du daraus machen? Wie viele Figuren wirst du übrig haben?




6) Es gibt 19 Figuren unten. Wie viele Gruppen mit 5 kannst du daraus machen? Wie viele Figuren wirst du übrig haben?



7) Es gibt 13 Figuren unten. Wie viele Gruppen mit 9 kannst du daraus machen? Wie viele Figuren wirst du übrig haben?



8) Es gibt 27 Figuren unten. Wie viele Gruppen mit 9 kannst du daraus machen? Wie viele Figuren wirst du übrig haben?



9) Es gibt 28 Figuren unten. Wie viele Gruppen mit 2 kannst du daraus machen? Wie viele Figuren wirst du übrig haben?

