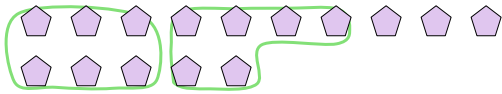




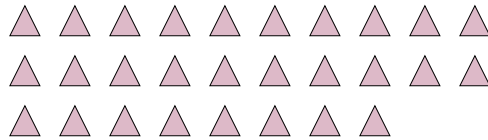
Verwende die Beispiele mit den Figuren im Feld zur Beantwortung der Fragen.

**Antworten**


**Bsp)** Unten sind 15 Formen. Wie viele Gruppen von 6 kannst du damit bilden? Wie viele bleiben übrig?



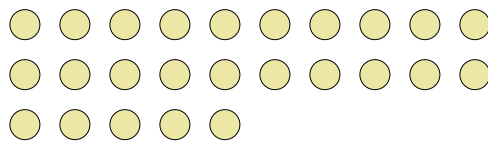
**1)** Unten sind 28 Formen. Wie viele Gruppen von 7 kannst du damit bilden? Wie viele bleiben übrig?



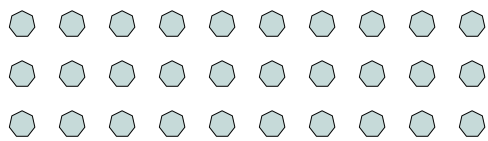
**2)** Unten sind 28 Formen. Wie viele Gruppen von 5 kannst du damit bilden? Wie viele bleiben übrig?



**3)** Unten sind 25 Formen. Wie viele Gruppen von 2 kannst du damit bilden? Wie viele bleiben übrig?



**4)** Unten sind 30 Formen. Wie viele Gruppen von 8 kannst du damit bilden? Wie viele bleiben übrig?




**5)** Unten sind 17 Formen. Wie viele Gruppen von 2 kannst du damit bilden? Wie viele bleiben übrig?



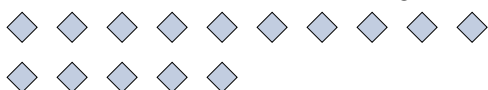
**6)** Unten sind 10 Formen. Wie viele Gruppen von 9 kannst du damit bilden? Wie viele bleiben übrig?



**7)** Unten sind 22 Formen. Wie viele Gruppen von 5 kannst du damit bilden? Wie viele bleiben übrig?



**8)** Unten sind 15 Formen. Wie viele Gruppen von 6 kannst du damit bilden? Wie viele bleiben übrig?



**9)** Unten sind 28 Formen. Wie viele Gruppen von 9 kannst du damit bilden? Wie viele bleiben übrig?



Bsp. 2 3

1. \_\_\_\_\_

2. \_\_\_\_\_

3. \_\_\_\_\_

4. \_\_\_\_\_

5. \_\_\_\_\_

6. \_\_\_\_\_

7. \_\_\_\_\_

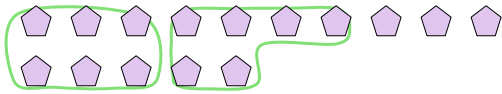
8. \_\_\_\_\_

9. \_\_\_\_\_

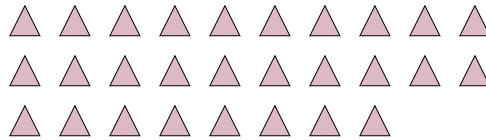


Verwende die Beispiele mit den Figuren im Feld zur Beantwortung der Fragen.


Bsp) Unten sind 15 Formen. Wie viele Gruppen von 6 kannst du damit bilden? Wie viele bleiben übrig?



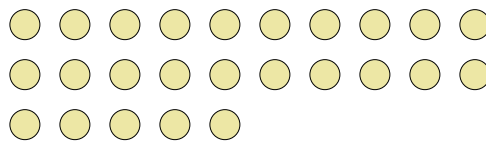
1) Unten sind 28 Formen. Wie viele Gruppen von 7 kannst du damit bilden? Wie viele bleiben übrig?



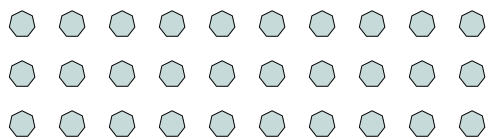
2) Unten sind 28 Formen. Wie viele Gruppen von 5 kannst du damit bilden? Wie viele bleiben übrig?



3) Unten sind 25 Formen. Wie viele Gruppen von 2 kannst du damit bilden? Wie viele bleiben übrig?



4) Unten sind 30 Formen. Wie viele Gruppen von 8 kannst du damit bilden? Wie viele bleiben übrig?




5) Unten sind 17 Formen. Wie viele Gruppen von 2 kannst du damit bilden? Wie viele bleiben übrig?



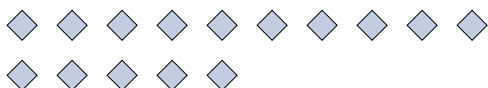
6) Unten sind 10 Formen. Wie viele Gruppen von 9 kannst du damit bilden? Wie viele bleiben übrig?



7) Unten sind 22 Formen. Wie viele Gruppen von 5 kannst du damit bilden? Wie viele bleiben übrig?



8) Unten sind 15 Formen. Wie viele Gruppen von 6 kannst du damit bilden? Wie viele bleiben übrig?



9) Unten sind 28 Formen. Wie viele Gruppen von 9 kannst du damit bilden? Wie viele bleiben übrig?

**Antworten**

Bsp.	<u>2</u>	<u>3</u>
1.	<u>4</u>	<u>0</u>
2.	<u>5</u>	<u>3</u>
3.	<u>12</u>	<u>1</u>
4.	<u>3</u>	<u>6</u>
5.	<u>8</u>	<u>1</u>
6.	<u>1</u>	<u>1</u>
7.	<u>4</u>	<u>2</u>
8.	<u>2</u>	<u>3</u>
9.	<u>3</u>	<u>1</u>