






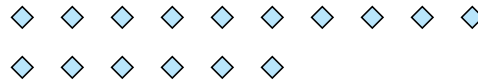
Benutze die vorgegebenen Figuren zur Beantwortung der Fragen.

**Antworten**

Bsp) Wie viele Gruppen von 6 kannst du machen mit den 18 Figuren unten?



1) Wie viele Gruppen von 8 kannst du machen mit den 16 Figuren unten?



Bsp. 3

1. 2

2. 6

3. 5

4. 3

5. 2

6. 10

7. 8


8. 5

9. 3

10. 3

11. 11

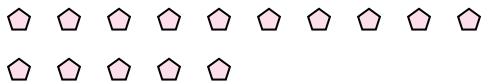
2) Wie viele Gruppen von 6 kannst du machen mit den 36 Figuren unten?



3) Wie viele Gruppen von 5 kannst du machen mit den 25 Figuren unten?



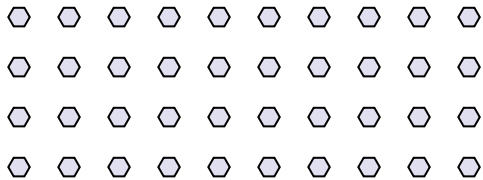
4) Wie viele Gruppen von 5 kannst du machen mit den 15 Figuren unten?



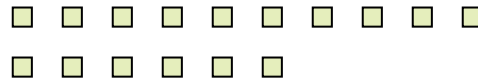
5) Wie viele Gruppen von 3 kannst du machen mit den 6 Figuren unten?




6) Wie viele Gruppen von 4 kannst du machen mit den 40 Figuren unten?



7) Wie viele Gruppen von 2 kannst du machen mit den 16 Figuren unten?



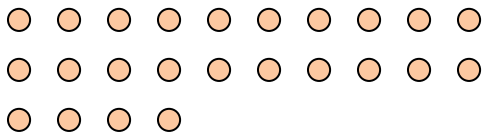
8) Wie viele Gruppen von 6 kannst du machen mit den 30 Figuren unten?



9) Wie viele Gruppen von 7 kannst du machen mit den 21 Figuren unten?



10) Wie viele Gruppen von 8 kannst du machen mit den 24 Figuren unten?



11) Wie viele Gruppen von 2 kannst du machen mit den 22 Figuren unten?

