




Benutze die vorgegebenen Figuren zur Beantwortung der Fragen.

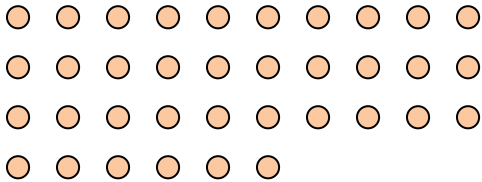
Bsp) Wie viele Gruppen von 6 kannst du machen mit den 18 Figuren unten?




1) Wie viele Gruppen von 2 kannst du machen mit den 26 Figuren unten?




2) Wie viele Gruppen von 9 kannst du machen mit den 36 Figuren unten?



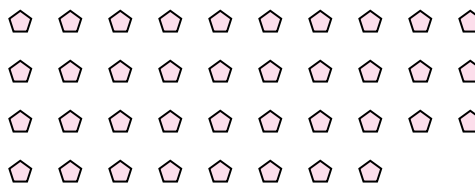
3) Wie viele Gruppen von 3 kannst du machen mit den 24 Figuren unten?



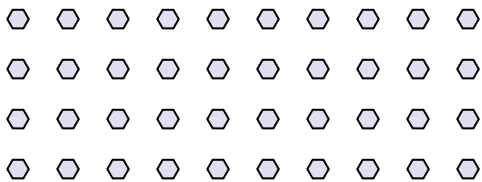
4) Wie viele Gruppen von 7 kannst du machen mit den 35 Figuren unten?




5) Wie viele Gruppen von 2 kannst du machen mit den 38 Figuren unten?




6) Wie viele Gruppen von 8 kannst du machen mit den 40 Figuren unten?



7) Wie viele Gruppen von 9 kannst du machen mit den 36 Figuren unten?



8) Wie viele Gruppen von 4 kannst du machen mit den 40 Figuren unten?




9) Wie viele Gruppen von 7 kannst du machen mit den 35 Figuren unten?



10) Wie viele Gruppen von 5 kannst du machen mit den 10 Figuren unten?



11) Wie viele Gruppen von 9 kannst du machen mit den 27 Figuren unten?



Antworten

Bsp. 3

1. 13

2. 4

3. 8

4. 5

5. 19

6. 5

7. 4

8. 10

9. 5

10. 2

11. 3