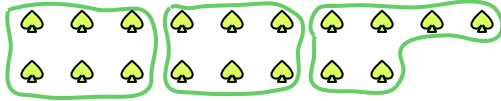




Benutze die vorgegebenen Figuren zur Beantwortung der Fragen.

**Antworten**

Bsp) Wie viele Gruppen von 6 kannst du machen mit den 18 Figuren unten?



1) Wie viele Gruppen von 5 kannst du machen mit den 40 Figuren unten?



Bsp. 3

1. \_\_\_\_\_

2. \_\_\_\_\_

3. \_\_\_\_\_

4. \_\_\_\_\_

5. \_\_\_\_\_

6. \_\_\_\_\_

7. \_\_\_\_\_


8. \_\_\_\_\_

9. \_\_\_\_\_

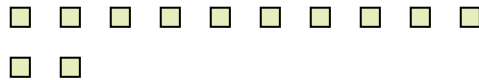
10. \_\_\_\_\_

11. \_\_\_\_\_


2) Wie viele Gruppen von 7 kannst du machen mit den 21 Figuren unten?



3) Wie viele Gruppen von 6 kannst du machen mit den 12 Figuren unten?



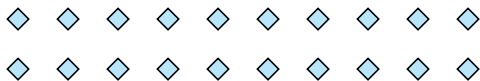
4) Wie viele Gruppen von 3 kannst du machen mit den 24 Figuren unten?



5) Wie viele Gruppen von 2 kannst du machen mit den 4 Figuren unten?




6) Wie viele Gruppen von 5 kannst du machen mit den 20 Figuren unten?



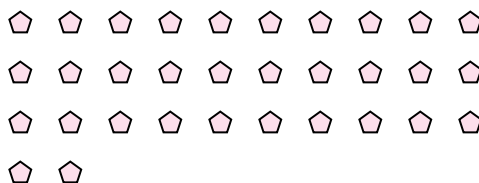
7) Wie viele Gruppen von 9 kannst du machen mit den 18 Figuren unten?



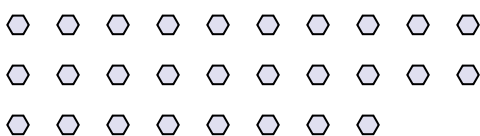
8) Wie viele Gruppen von 9 kannst du machen mit den 36 Figuren unten?



9) Wie viele Gruppen von 2 kannst du machen mit den 32 Figuren unten?



10) Wie viele Gruppen von 2 kannst du machen mit den 28 Figuren unten?



11) Wie viele Gruppen von 8 kannst du machen mit den 24 Figuren unten?



