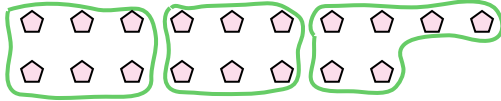




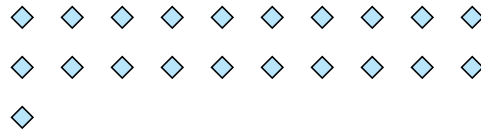
Benutze die vorgegebenen Figuren zur Beantwortung der Fragen.

Antworten

Bsp) Wie viele Gruppen von 6 kannst du machen mit den 18 Figuren unten?



1) Wie viele Gruppen von 7 kannst du machen mit den 21 Figuren unten?



Bsp. 3

1. _____

2. _____

3. _____

4. _____

5. _____

6. _____

7. _____

8. _____

9. _____

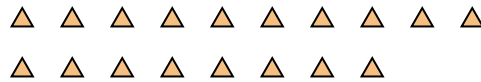
10. _____

11. _____

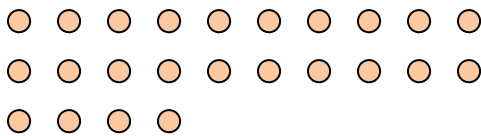
2) Wie viele Gruppen von 3 kannst du machen mit den 6 Figuren unten?



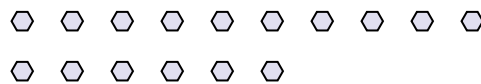
3) Wie viele Gruppen von 6 kannst du machen mit den 18 Figuren unten?




4) Wie viele Gruppen von 8 kannst du machen mit den 24 Figuren unten?




5) Wie viele Gruppen von 8 kannst du machen mit den 16 Figuren unten?



6) Wie viele Gruppen von 4 kannst du machen mit den 16 Figuren unten?



7) Wie viele Gruppen von 7 kannst du machen mit den 35 Figuren unten?



8) Wie viele Gruppen von 3 kannst du machen mit den 15 Figuren unten?



9) Wie viele Gruppen von 2 kannst du machen mit den 18 Figuren unten?



10) Wie viele Gruppen von 4 kannst du machen mit den 8 Figuren unten?



11) Wie viele Gruppen von 7 kannst du machen mit den 14 Figuren unten?

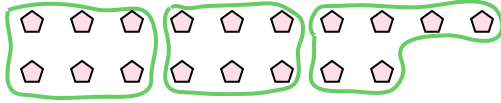




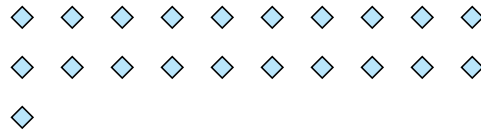
Benutze die vorgegebenen Figuren zur Beantwortung der Fragen.

Antworten

Bsp) Wie viele Gruppen von 6 kannst du machen mit den 18 Figuren unten?



1) Wie viele Gruppen von 7 kannst du machen mit den 21 Figuren unten?

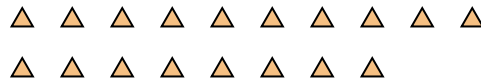


Bsp. 3

2) Wie viele Gruppen von 3 kannst du machen mit den 6 Figuren unten?

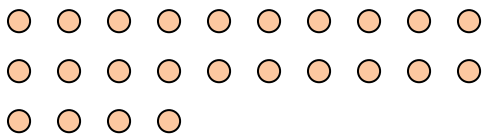


3) Wie viele Gruppen von 6 kannst du machen mit den 18 Figuren unten?

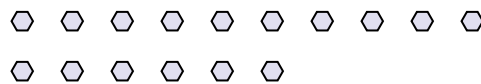


1. 3

4) Wie viele Gruppen von 8 kannst du machen mit den 24 Figuren unten?




5) Wie viele Gruppen von 8 kannst du machen mit den 16 Figuren unten?




2. 2

6) Wie viele Gruppen von 4 kannst du machen mit den 16 Figuren unten?



7) Wie viele Gruppen von 7 kannst du machen mit den 35 Figuren unten?



3. 3

8) Wie viele Gruppen von 3 kannst du machen mit den 15 Figuren unten?



9) Wie viele Gruppen von 2 kannst du machen mit den 18 Figuren unten?

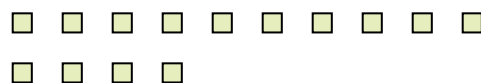


4. 3

10) Wie viele Gruppen von 4 kannst du machen mit den 8 Figuren unten?



11) Wie viele Gruppen von 7 kannst du machen mit den 14 Figuren unten?



5. 2

6. 4

7. 5

8. 5

9. 9

10. 2

11. 2