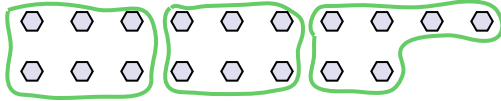




Benutze die vorgegebenen Figuren zur Beantwortung der Fragen.

Bsp) Wie viele Gruppen von 6 kannst du machen mit den 18 Figuren unten?



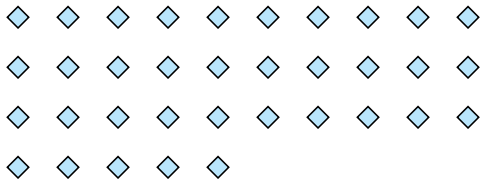
1) Wie viele Gruppen von 6 kannst du machen mit den 12 Figuren unten?



Antworten

Bsp. 3

2) Wie viele Gruppen von 7 kannst du machen mit den 35 Figuren unten?




3) Wie viele Gruppen von 4 kannst du machen mit den 8 Figuren unten?

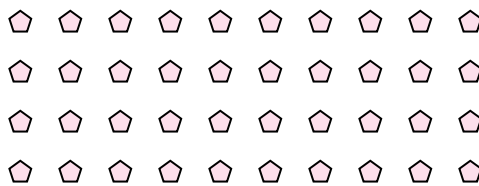


1. 2

4) Wie viele Gruppen von 8 kannst du machen mit den 24 Figuren unten?




5) Wie viele Gruppen von 4 kannst du machen mit den 40 Figuren unten?



2. 5

6) Wie viele Gruppen von 6 kannst du machen mit den 36 Figuren unten?




7) Wie viele Gruppen von 5 kannst du machen mit den 10 Figuren unten?

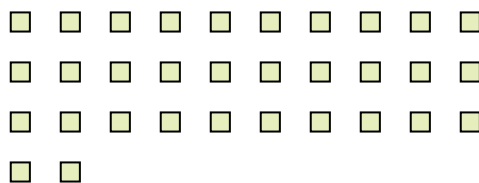


3. 2

8) Wie viele Gruppen von 9 kannst du machen mit den 27 Figuren unten?



9) Wie viele Gruppen von 8 kannst du machen mit den 32 Figuren unten?

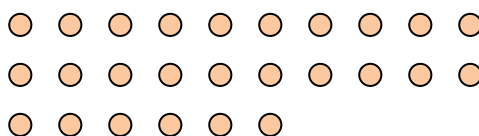


4. 3

10) Wie viele Gruppen von 6 kannst du machen mit den 18 Figuren unten?



11) Wie viele Gruppen von 2 kannst du machen mit den 26 Figuren unten?



5. 10

6. 6

7. 2

8. 3

9. 4

10. 3

11. 13