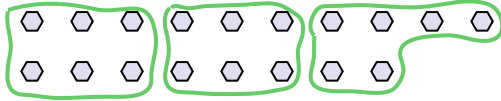




Benutze die vorgegebenen Figuren zur Beantwortung der Fragen.

Antworten

Bsp) Wie viele Gruppen von 6 kannst du machen mit den 18 Figuren unten?

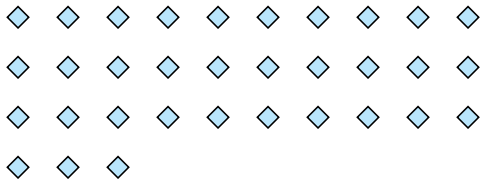


1) Wie viele Gruppen von 3 kannst du machen mit den 27 Figuren unten?

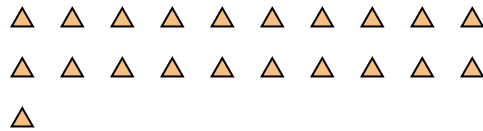


Bsp. 3

2) Wie viele Gruppen von 3 kannst du machen mit den 33 Figuren unten?




3) Wie viele Gruppen von 7 kannst du machen mit den 21 Figuren unten?

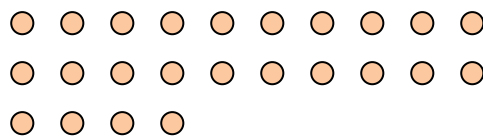


1. 9

4) Wie viele Gruppen von 7 kannst du machen mit den 14 Figuren unten?

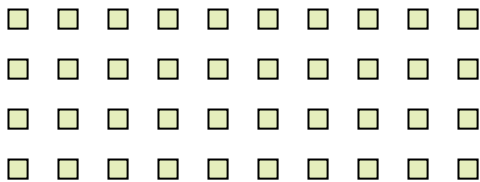


5) Wie viele Gruppen von 8 kannst du machen mit den 24 Figuren unten?




2. 11

6) Wie viele Gruppen von 4 kannst du machen mit den 40 Figuren unten?




7) Wie viele Gruppen von 8 kannst du machen mit den 32 Figuren unten?

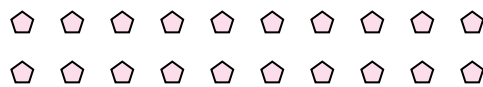


3. 3

8) Wie viele Gruppen von 7 kannst du machen mit den 28 Figuren unten?



9) Wie viele Gruppen von 5 kannst du machen mit den 20 Figuren unten?



4. 2

10) Wie viele Gruppen von 4 kannst du machen mit den 12 Figuren unten?



11) Wie viele Gruppen von 7 kannst du machen mit den 21 Figuren unten?



5. 3

6. 10

7. 4

8. 4

9. 4

10. 3

11. 3