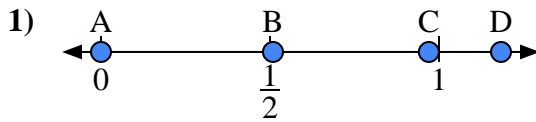
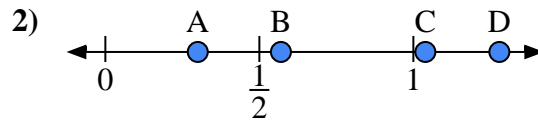




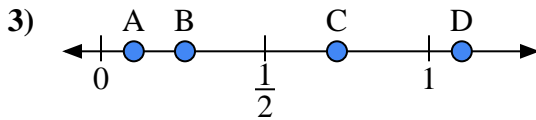
Benutze den Zahlenstrahl um die Lösung zu ermitteln.

Antworten

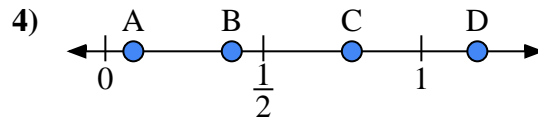
- a) Welcher Buchstabe stellt die richtige Lage von 0,00 dar?
 b) Welcher Buchstabe stellt die richtige Lage von 0,97 dar?



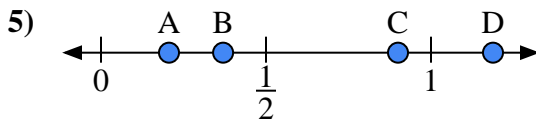
- a) Welcher Buchstabe stellt die richtige Lage von 0,30 dar?
 b) Welcher Buchstabe stellt die richtige Lage von 0,57 dar?



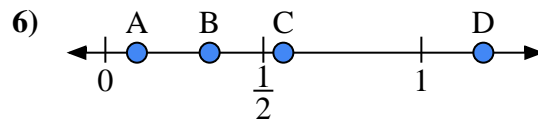
- a) Welcher Buchstabe stellt die richtige Lage von 1,10 dar?
 b) Welcher Buchstabe stellt die richtige Lage von 0,10 dar?



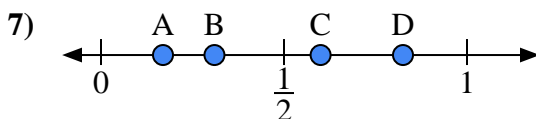
- a) Welcher Buchstabe stellt die richtige Lage von 0,4 dar?
 b) Welcher Buchstabe stellt die richtige Lage von 0,78 dar?



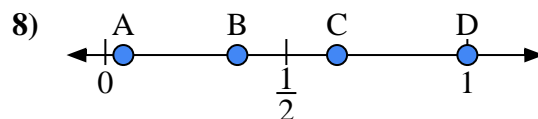
- a) Welcher Buchstabe stellt die richtige Lage von 0,90 dar?
 b) Welcher Buchstabe stellt die richtige Lage von 0,37 dar?



- a) Welcher Buchstabe stellt die richtige Lage von 0,1 dar?
 b) Welcher Buchstabe stellt die richtige Lage von 0,33 dar?



- a) Welcher Buchstabe stellt die richtige Lage von 0,6 dar?
 b) Welcher Buchstabe stellt die richtige Lage von 0,31 dar?



- a) Welcher Buchstabe stellt die richtige Lage von 1,0 dar?
 b) Welcher Buchstabe stellt die richtige Lage von 0,64 dar?

1. _____

2. _____

3. _____

4. _____

5. _____

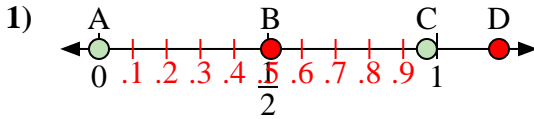
6. _____

7. _____

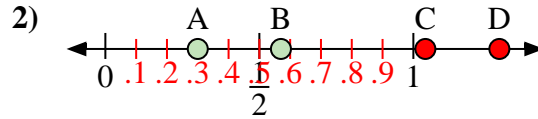
8. _____



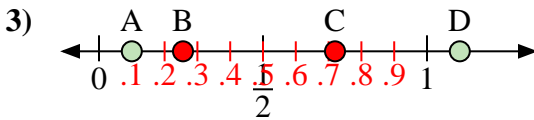
Benutze den Zahlenstrahl um die Lösung zu ermitteln.

Antworten

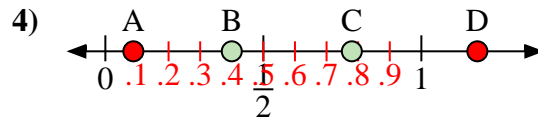
- a) Welcher Buchstabe stellt die richtige Lage von 0,00 dar?
 b) Welcher Buchstabe stellt die richtige Lage von 0,97 dar?



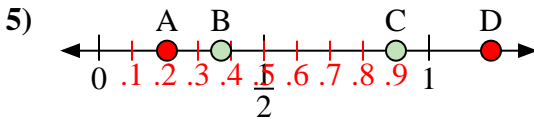
- a) Welcher Buchstabe stellt die richtige Lage von 0,30 dar?
 b) Welcher Buchstabe stellt die richtige Lage von 0,57 dar?



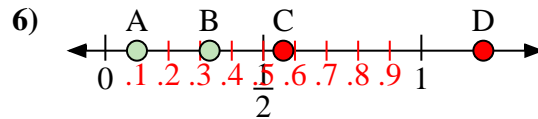
- a) Welcher Buchstabe stellt die richtige Lage von 1,10 dar?
 b) Welcher Buchstabe stellt die richtige Lage von 0,10 dar?



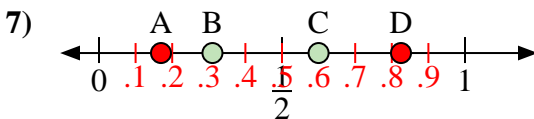
- a) Welcher Buchstabe stellt die richtige Lage von 0,4 dar?
 b) Welcher Buchstabe stellt die richtige Lage von 0,78 dar?



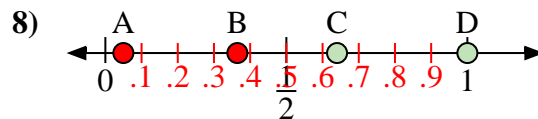
- a) Welcher Buchstabe stellt die richtige Lage von 0,90 dar?
 b) Welcher Buchstabe stellt die richtige Lage von 0,37 dar?



- a) Welcher Buchstabe stellt die richtige Lage von 0,1 dar?
 b) Welcher Buchstabe stellt die richtige Lage von 0,33 dar?



- a) Welcher Buchstabe stellt die richtige Lage von 0,6 dar?
 b) Welcher Buchstabe stellt die richtige Lage von 0,31 dar?



- a) Welcher Buchstabe stellt die richtige Lage von 1,0 dar?
 b) Welcher Buchstabe stellt die richtige Lage von 0,64 dar?

1. A C2. A B3. D A4. B C5. C B6. A B7. C B8. D C