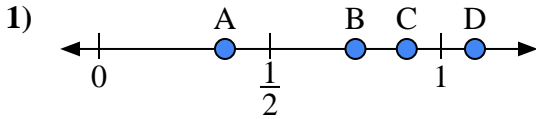
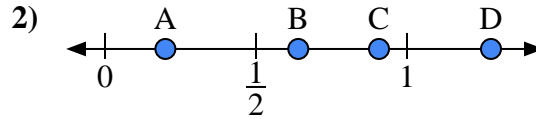




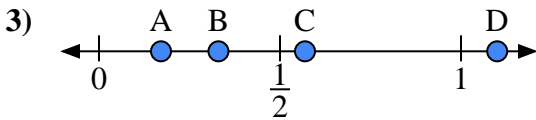
Benutze den Zahlenstrahl um die Lösung zu ermitteln.

Antworten

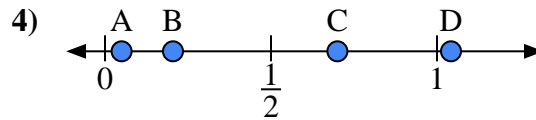
- a) Welcher Buchstabe stellt die richtige Lage von 0,90 dar?
 b) Welcher Buchstabe stellt die richtige Lage von 0,75 dar?



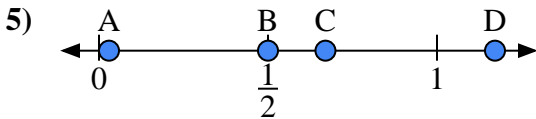
- a) Welcher Buchstabe stellt die richtige Lage von 0,2 dar?
 b) Welcher Buchstabe stellt die richtige Lage von 0,64 dar?



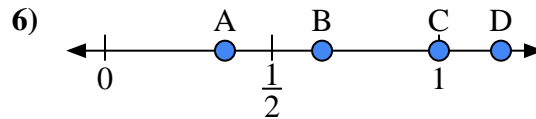
- a) Welcher Buchstabe stellt die richtige Lage von 1,10 dar?
 b) Welcher Buchstabe stellt die richtige Lage von 0,33 dar?



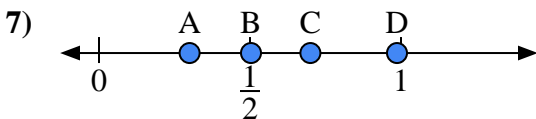
- a) Welcher Buchstabe stellt die richtige Lage von 0,70 dar?
 b) Welcher Buchstabe stellt die richtige Lage von 0,05 dar?



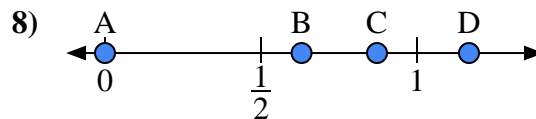
- a) Welcher Buchstabe stellt die richtige Lage von 0,50 dar?
 b) Welcher Buchstabe stellt die richtige Lage von 0,67 dar?



- a) Welcher Buchstabe stellt die richtige Lage von 1,00 dar?
 b) Welcher Buchstabe stellt die richtige Lage von 0,65 dar?



- a) Welcher Buchstabe stellt die richtige Lage von 0,3 dar?
 b) Welcher Buchstabe stellt die richtige Lage von 0,70 dar?



- a) Welcher Buchstabe stellt die richtige Lage von 0,00 dar?
 b) Welcher Buchstabe stellt die richtige Lage von 0,63 dar?

1. _____

2. _____

3. _____

4. _____

5. _____

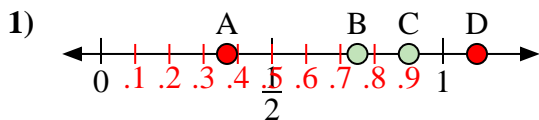
6. _____

7. _____

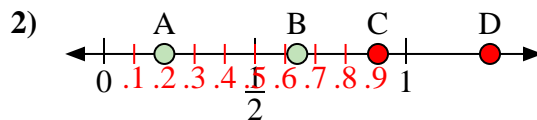
8. _____



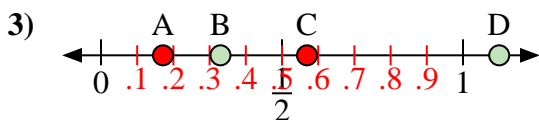
Benutze den Zahlenstrahl um die Lösung zu ermitteln.

Antworten

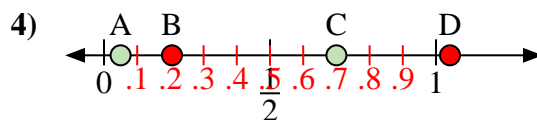
- a) Welcher Buchstabe stellt die richtige Lage von 0,90 dar?
 b) Welcher Buchstabe stellt die richtige Lage von 0,75 dar?



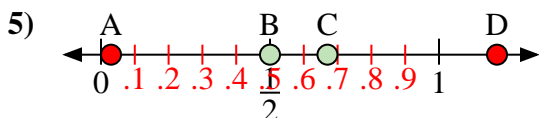
- a) Welcher Buchstabe stellt die richtige Lage von 0,2 dar?
 b) Welcher Buchstabe stellt die richtige Lage von 0,64 dar?



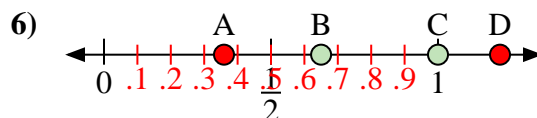
- a) Welcher Buchstabe stellt die richtige Lage von 1,10 dar?
 b) Welcher Buchstabe stellt die richtige Lage von 0,33 dar?



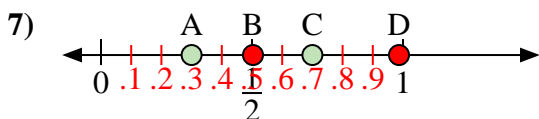
- a) Welcher Buchstabe stellt die richtige Lage von 0,70 dar?
 b) Welcher Buchstabe stellt die richtige Lage von 0,05 dar?



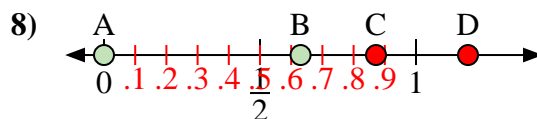
- a) Welcher Buchstabe stellt die richtige Lage von 0,50 dar?
 b) Welcher Buchstabe stellt die richtige Lage von 0,67 dar?



- a) Welcher Buchstabe stellt die richtige Lage von 1,00 dar?
 b) Welcher Buchstabe stellt die richtige Lage von 0,65 dar?



- a) Welcher Buchstabe stellt die richtige Lage von 0,3 dar?
 b) Welcher Buchstabe stellt die richtige Lage von 0,70 dar?



- a) Welcher Buchstabe stellt die richtige Lage von 0,00 dar?
 b) Welcher Buchstabe stellt die richtige Lage von 0,63 dar?

1. C B2. A B3. D B4. C A5. B C6. C B7. A C8. A B