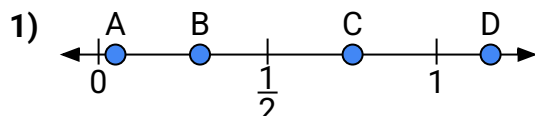
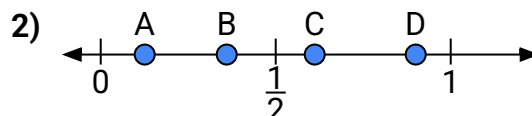




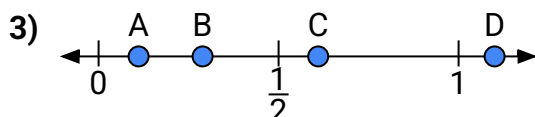
Benutze den Zahlenstrahl um die Lösung zu ermitteln.

Antworten

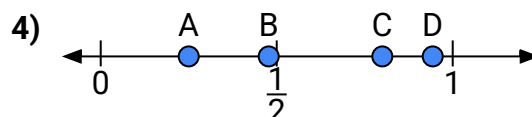
- a) Welcher Buchstabe stellt die Lage von 0,3 am besten dar?
b) Welcher Buchstabe stellt die Lage von 0,05 am besten dar?



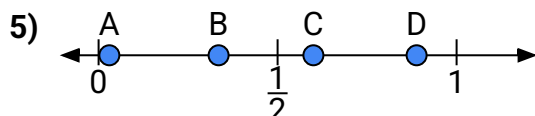
- a) Welcher Buchstabe stellt die Lage von 0,9 am besten dar?
b) Welcher Buchstabe stellt die Lage von 0,36 am besten dar?



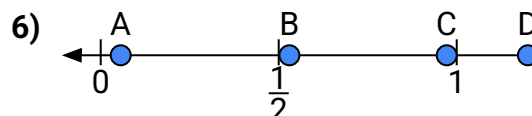
- a) Welcher Buchstabe stellt die Lage von 1,10 am besten dar?
b) Welcher Buchstabe stellt die Lage von 0,61 am besten dar?



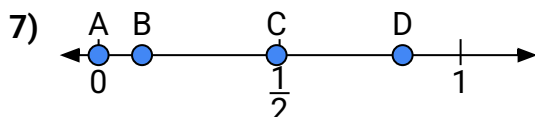
- a) Welcher Buchstabe stellt die Lage von 0,8 am besten dar?
b) Welcher Buchstabe stellt die Lage von 0,25 am besten dar?



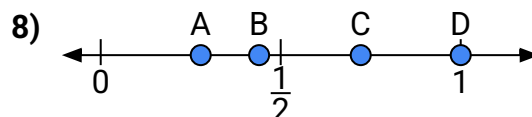
- a) Welcher Buchstabe stellt die Lage von 0,60 am besten dar?
b) Welcher Buchstabe stellt die Lage von 0,03 am besten dar?



- a) Welcher Buchstabe stellt die Lage von 1,20 am besten dar?
b) Welcher Buchstabe stellt die Lage von 0,53 am besten dar?



- a) Welcher Buchstabe stellt die Lage von 0,0 am besten dar?
b) Welcher Buchstabe stellt die Lage von 0,12 am besten dar?



- a) Welcher Buchstabe stellt die Lage von 1,0 am besten dar?
b) Welcher Buchstabe stellt die Lage von 0,44 am besten dar?

1. _____

2. _____

3. _____

4. _____

5. _____

6. _____

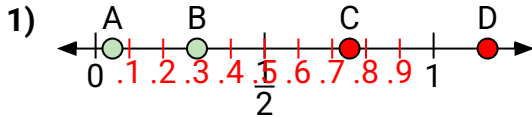
7. _____

8. _____

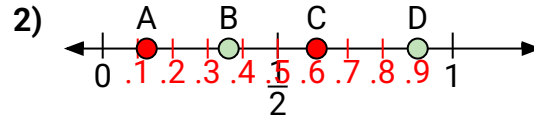


Benutze den Zahlenstrahl um die Lösung zu ermitteln.

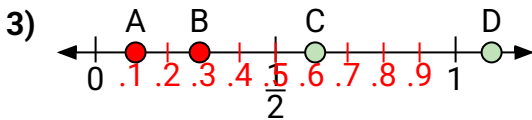
Antworten



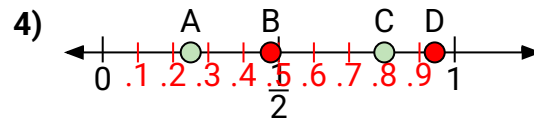
- a) Welcher Buchstabe stellt die Lage von 0,3 am besten dar?
- b) Welcher Buchstabe stellt die Lage von 0,05 am besten dar?



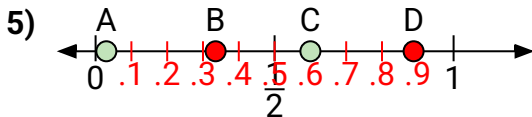
- a) Welcher Buchstabe stellt die Lage von 0,9 am besten dar?
- b) Welcher Buchstabe stellt die Lage von 0,36 am besten dar?



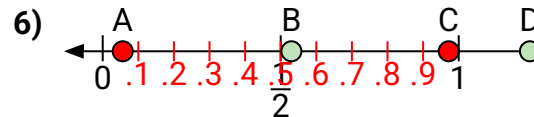
- a) Welcher Buchstabe stellt die Lage von 1,10 am besten dar?
- b) Welcher Buchstabe stellt die Lage von 0,61 am besten dar?



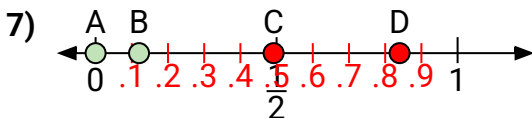
- a) Welcher Buchstabe stellt die Lage von 0,8 am besten dar?
- b) Welcher Buchstabe stellt die Lage von 0,25 am besten dar?



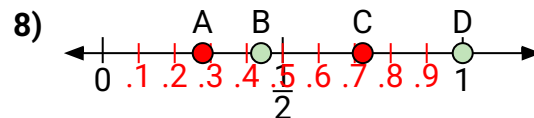
- a) Welcher Buchstabe stellt die Lage von 0,60 am besten dar?
- b) Welcher Buchstabe stellt die Lage von 0,03 am besten dar?



- a) Welcher Buchstabe stellt die Lage von 1,20 am besten dar?
- b) Welcher Buchstabe stellt die Lage von 0,53 am besten dar?



- a) Welcher Buchstabe stellt die Lage von 0,0 am besten dar?
- b) Welcher Buchstabe stellt die Lage von 0,12 am besten dar?



- a) Welcher Buchstabe stellt die Lage von 1,0 am besten dar?
- b) Welcher Buchstabe stellt die Lage von 0,44 am besten dar?

1. B A
2. D B
3. D C
4. C A
5. C A
6. D B
7. A B
8. D B