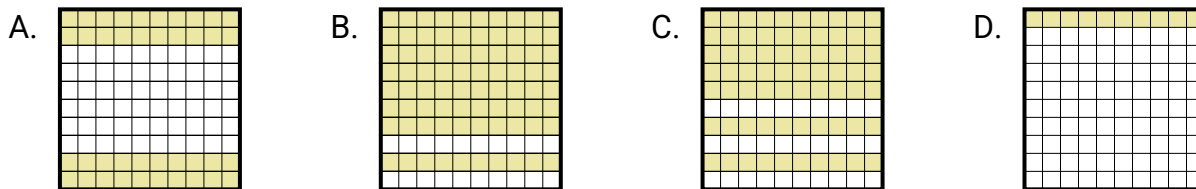


**Bestimme, welcher Buchstabe die Frage richtig beantwortet.****Antworten**

- 1) Welches  $10 \times 1$ -Gitter ist schattiert, um die Dezimalzahl darzustellen, die, wenn sie zu 0,9 addiert wird, insgesamt 1,00 ergibt?

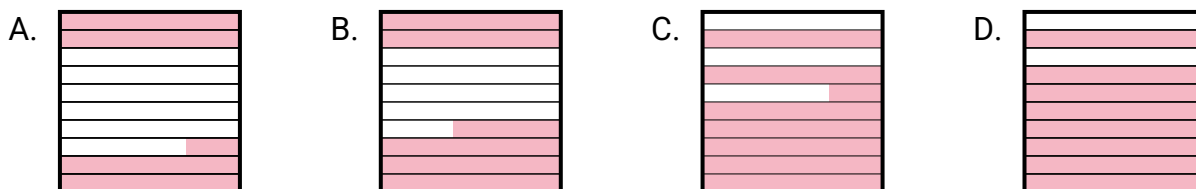


1. \_\_\_\_\_

2. \_\_\_\_\_

3. \_\_\_\_\_

- 2) Welches  $10 \times 10$ -Gitter ist schattiert, um die Dezimalzahl darzustellen, die, wenn sie zu 0,27 addiert wird, insgesamt 1,00 ergibt?

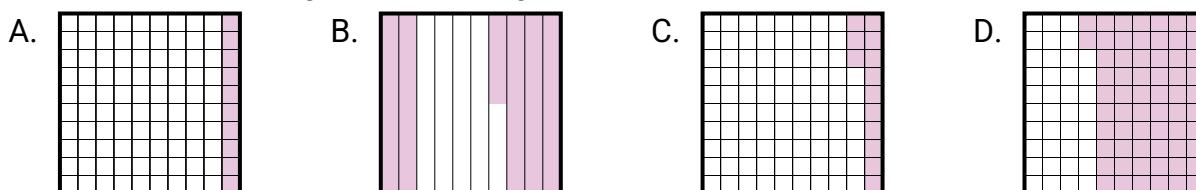


4. \_\_\_\_\_

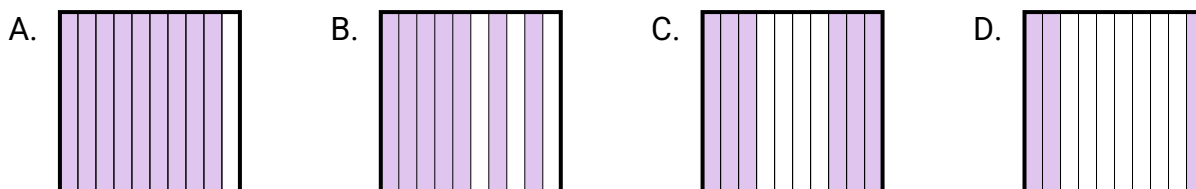
5. \_\_\_\_\_

6. \_\_\_\_\_

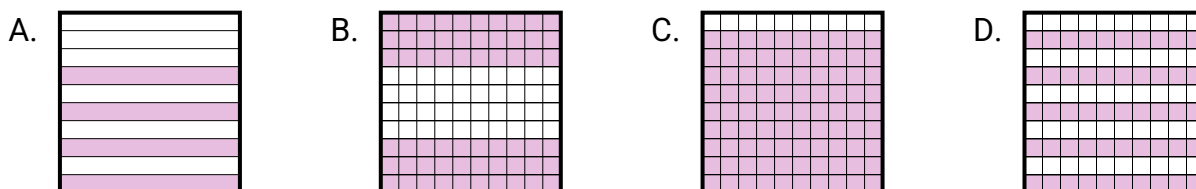
- 3) Welches  $10 \times 10$ -Gitter ist schattiert, um die Dezimalzahl darzustellen, die, wenn sie zu 0,45 addiert wird, insgesamt 1,00 ergibt?



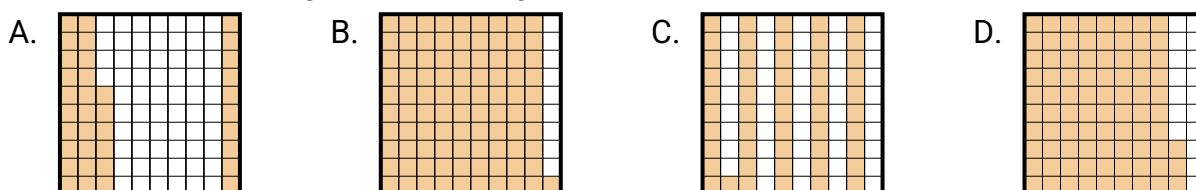
- 4) Welches  $10 \times 1$ -Gitter ist schattiert, um die Dezimalzahl darzustellen, die, wenn sie zu 0,3 addiert wird, insgesamt 1,00 ergibt?



- 5) Welches  $10 \times 1$ -Gitter ist schattiert, um die Dezimalzahl darzustellen, die, wenn sie zu 0,6 addiert wird, insgesamt 1,00 ergibt?

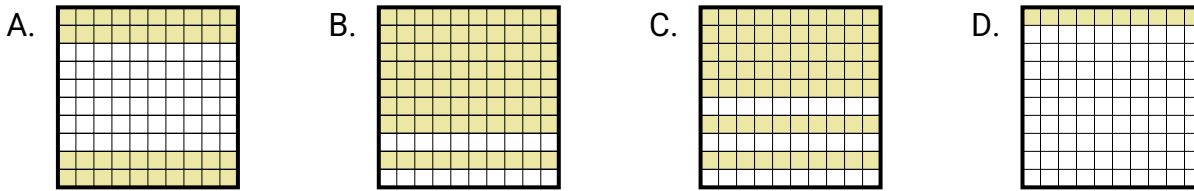


- 6) Welches  $10 \times 10$ -Gitter ist schattiert, um die Dezimalzahl darzustellen, die, wenn sie zu 0,17 addiert wird, insgesamt 1,00 ergibt?

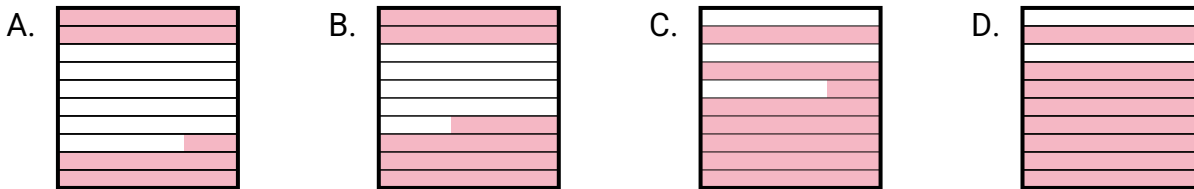


**Bestimme, welcher Buchstabe die Frage richtig beantwortet.****Antworten**

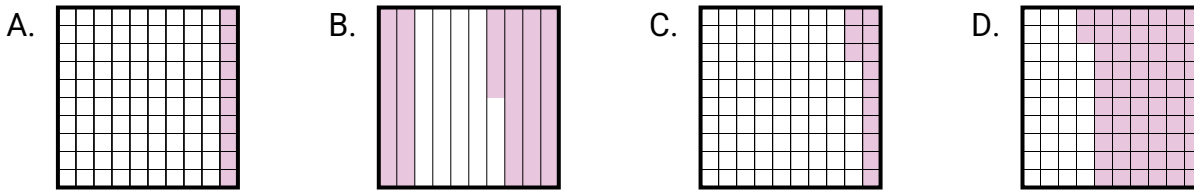
- 1) Welches  $10 \times 1$ -Gitter ist schattiert, um die Dezimalzahl darzustellen, die, wenn sie zu 0,9 addiert wird, insgesamt 1,00 ergibt?

1. **D**2. **C**3. **B**

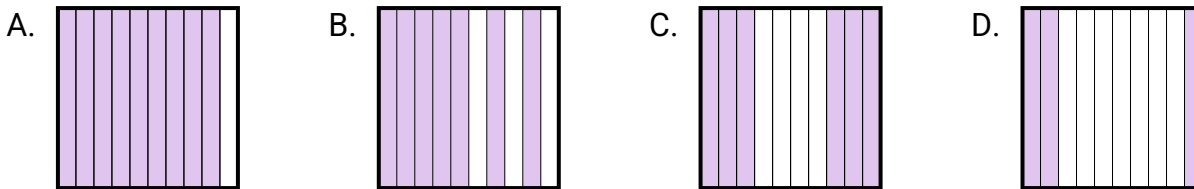
- 2) Welches  $10 \times 10$ -Gitter ist schattiert, um die Dezimalzahl darzustellen, die, wenn sie zu 0,27 addiert wird, insgesamt 1,00 ergibt?

4. **B**5. **A**6. **D**

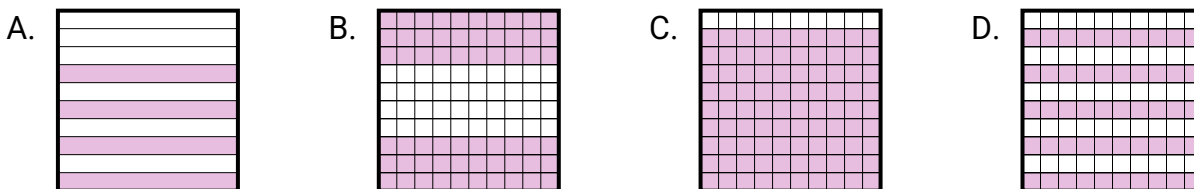
- 3) Welches  $10 \times 10$ -Gitter ist schattiert, um die Dezimalzahl darzustellen, die, wenn sie zu 0,45 addiert wird, insgesamt 1,00 ergibt?



- 4) Welches  $10 \times 1$ -Gitter ist schattiert, um die Dezimalzahl darzustellen, die, wenn sie zu 0,3 addiert wird, insgesamt 1,00 ergibt?



- 5) Welches  $10 \times 1$ -Gitter ist schattiert, um die Dezimalzahl darzustellen, die, wenn sie zu 0,6 addiert wird, insgesamt 1,00 ergibt?



- 6) Welches  $10 \times 10$ -Gitter ist schattiert, um die Dezimalzahl darzustellen, die, wenn sie zu 0,17 addiert wird, insgesamt 1,00 ergibt?

