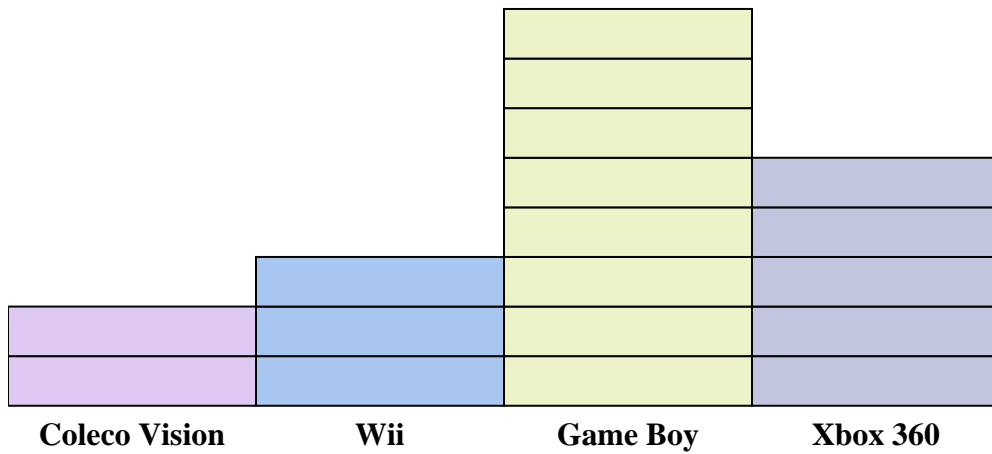




Löse jede Aufgabe.



Jedes = 2 Menschen im Besitz

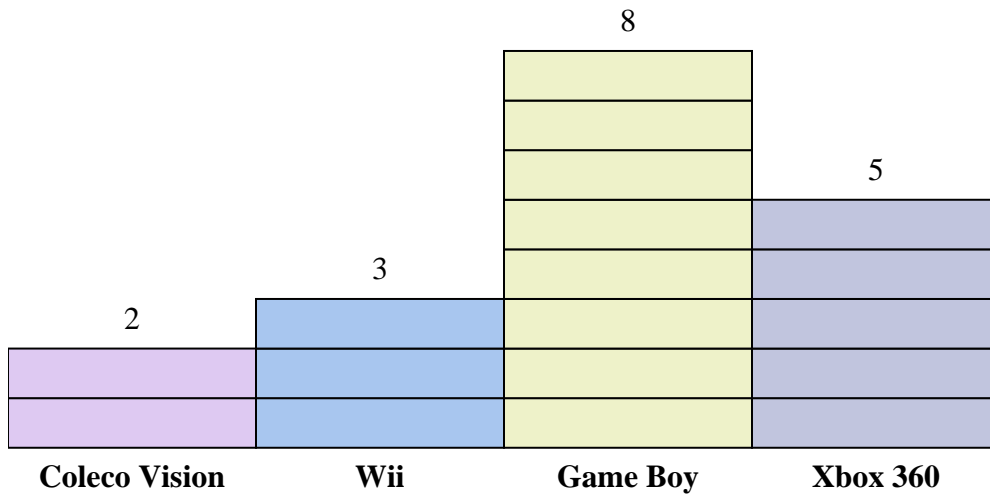
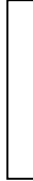
Antworten

1. _____
2. _____
3. _____
4. _____
5. _____
6. _____
7. _____
8. _____
9. _____
10. _____

- 1) Wie viele mehr Personen besaßen einen Game Boy als einen Xbox 360?
- 2) Welche Konsole besaß die meisten Leute?
- 3) Welche Konsole besaßen die wenigsten Leute?
- 4) Wie viele Konsolen besaßen die Leute insgesamt?
- 5) Besitzen weniger Leute eine Wiis oder eine Gameboys?
- 6) Besitzen mehr Personen eine Xbox 360s oder eine Wiis?
- 7) Welche Konsole besaßen genau 6 Personen?
- 8) Wie viele Personen besaßen einen Game Boy?
- 9) Wie viele besitzen zusammen Gameboys und Coleco Visionen?
- 10) Was ist der Unterschied zwischen der Anzahl der Besitzer eines Coleco Vision und der Anzahl der Besitzer eines Wii?



Löse jede Aufgabe.

Jedes  = 2 Menschen im Besitz**Antworten**

1. 6
2. Game Boy
3. Coleco Vision
4. 36
5. Wii
6. Xbox 360
7. Wii
8. 16
9. 20
10. 2

- 1) Wie viele mehr Personen besaßen einen Game Boy als einen Xbox 360?
- 2) Welche Konsole besaß die meisten Leute?
- 3) Welche Konsole besaßen die wenigsten Leute?
- 4) Wie viele Konsolen besaßen die Leute insgesamt?
- 5) Besitzen weniger Leute eine Wiis oder eine Gameboys?
- 6) Besitzen mehr Personen eine Xbox 360s oder eine Wiis?
- 7) Welche Konsole besaßen genau 6 Personen?
- 8) Wie viele Personen besaßen einen Game Boy?
- 9) Wie viele besitzen zusammen Gameboys und Coleco Visionen?
- 10) Was ist der Unterschied zwischen der Anzahl der Besitzer eines Coleco Vision und der Anzahl der Besitzer eines Wii?