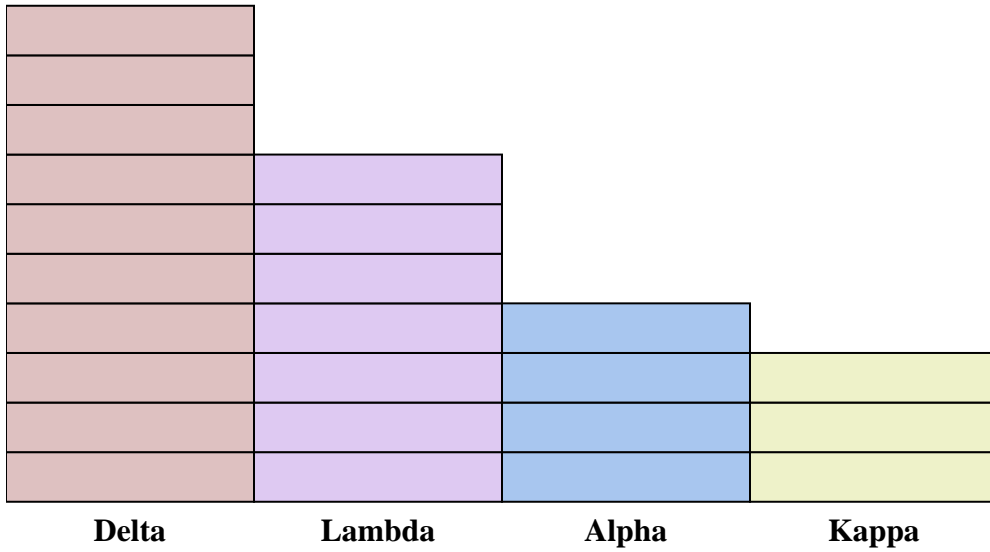




Löse jede Aufgabe.

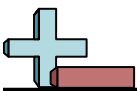
Antworten




Jedes = 2 Punkte

1. _____
2. _____
3. _____
4. _____
5. _____
6. _____
7. _____
8. _____
9. _____
10. _____

- 1) Wie viele Punkte hat Team Alpha mehr erzielt als Team Kappa?
- 2) Welches Team hat die meisten Punkte geholt?
- 3) Welches Team hat die wenigsten Punkte geholt?
- 4) Wie viele Punkte wurden im Spiel insgesamt gesammelt?
- 5) Hat Team Kappa oder Team Lambda weniger Punkte erzielt?
- 6) Hat Team Delta oder Team Lambda mehr Punkte erzielt?
- 7) Welches Team hat 6 Punkte erzielt?
- 8) Wie viele Punkte hat Team Delta erzielt?
- 9) Wie hoch sind die kombinierten Punkte von Kappa und Delta?
- 10) Was ist der Unterschied zwischen der Anzahl der erzielten Punkte Delta und der Anzahl der erzielten Alpha?



Löse jede Aufgabe.

Jedes = 2 PunkteAntworten

1. 2
2. Delta
3. Kappa
4. 48
5. Kappa
6. Delta
7. Kappa
8. 20
9. 26
10. 12

- 1) Wie viele Punkte hat Team Alpha mehr erzielt als Team Kappa?
- 2) Welches Team hat die meisten Punkte geholt?
- 3) Welches Team hat die wenigsten Punkte geholt?
- 4) Wie viele Punkte wurden im Spiel insgesamt gesammelt?
- 5) Hat Team Kappa oder Team Lambda weniger Punkte erzielt?
- 6) Hat Team Delta oder Team Lambda mehr Punkte erzielt?
- 7) Welches Team hat 6 Punkte erzielt?
- 8) Wie viele Punkte hat Team Delta erzielt?
- 9) Wie hoch sind die kombinierten Punkte von Kappa und Delta?
- 10) Was ist der Unterschied zwischen der Anzahl der erzielten Punkte Delta und der Anzahl der erzielten Alpha?