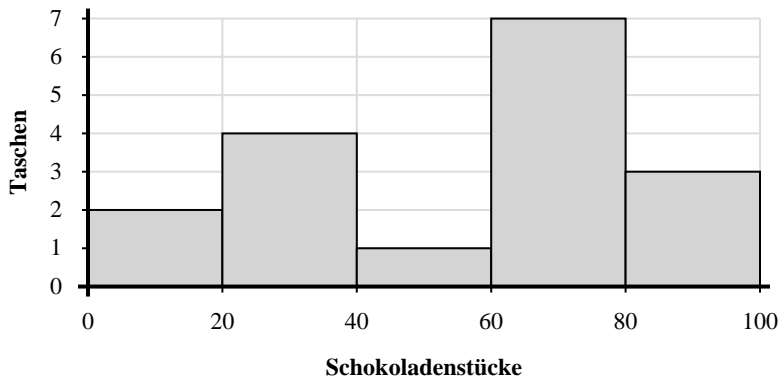




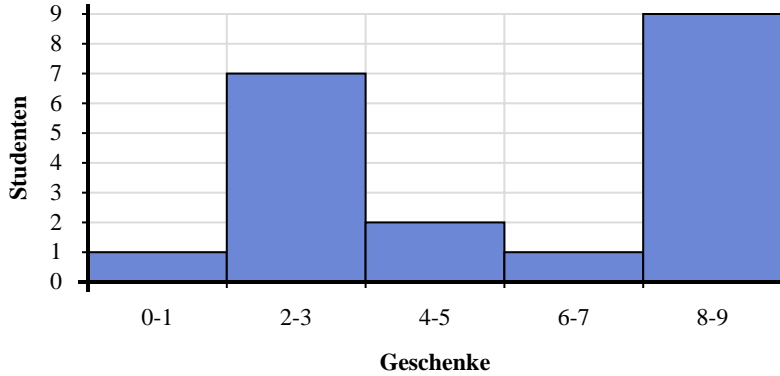
Verwenden Sie die angezeigten Histogramme, um jede Frage zu beantworten.

Antworten



- 1) Wie viele Tüten enthielten zwischen 40 und 60 Schokoladenstücke?
- 2) Wie viele Säcke mit Studentenfutter sind in diesem Histogramm dargestellt?
- 3) Wenn eine Tüte 69 Schokoladenstücke hätte, zu welcher Tafel würde sie hinzugefügt werden?
- 4) Die meisten Tüten enthielten zwischen _____ und _____ Schokoladenstücke.

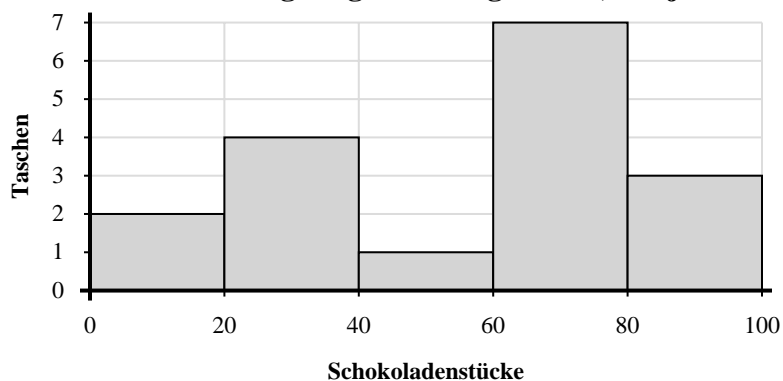
1. _____
2. _____
3. _____
4. _____
5. _____
6. _____
7. _____
8. _____



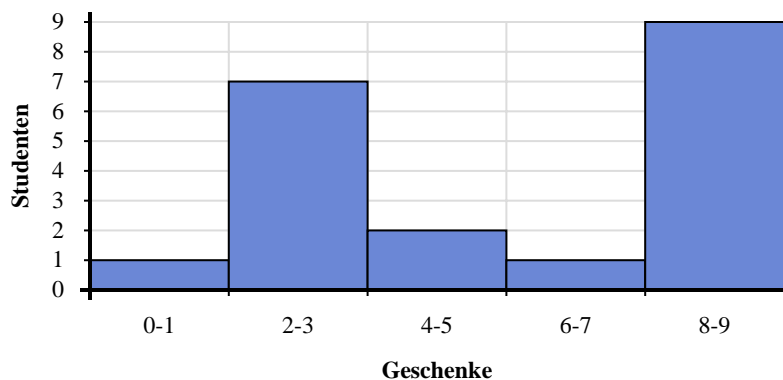
- 5) Wenn ein Schüler 4-Geschenke erhält, zu welcher Bar würde er hinzugefügt werden?
- 6) Wie viele Schüler haben zwischen 0 und 2 Geschenke erhalten?
- 7) Wie viele Schüler sind in diesem Histogramm vertreten?
- 8) Die meisten Schüler haben zwischen _____ und _____ Geschenke erhalten.



Verwenden Sie die angezeigten Histogramme, um jede Frage zu beantworten.



- 1) Wie viele Tüten enthielten zwischen 40 und 60 Schokoladenstücke?
- 2) Wie viele Säcke mit Studentenfutter sind in diesem Histogramm dargestellt?
- 3) Wenn eine Tüte 69 Schokoladenstücke hätte, zu welcher Tafel würde sie hinzugefügt werden?
- 4) Die meisten Tüten enthielten zwischen ____ und ____ Schokoladenstücke.



- 5) Wenn ein Schüler 4-Geschenke erhält, zu welcher Bar würde er hinzugefügt werden?
- 6) Wie viele Schüler haben zwischen 0 und 2 Geschenke erhalten?
- 7) Wie viele Schüler sind in diesem Histogramm vertreten?
- 8) Die meisten Schüler haben zwischen ____ und ____ Geschenke erhalten.

Antworten

1. 1
2. 17
3. 4
4. 60 80
5. 3
6. 1
7. 20
8. 8 10