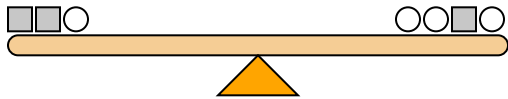




Die Skalen unten sind ausgewogen. Verwenden Sie die Skalen, um jede Frage zu beantworten.

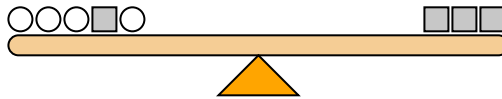
Antworten

1)



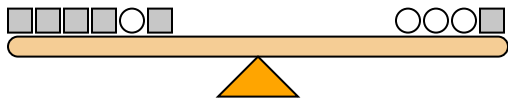
Wenn Sie auf der linken Seite 5-Quadrate hinzufügen würden, wie viele Kreise müssten Sie dann auf der rechten Seite hinzufügen, um das Gleichgewicht zu halten?

2)



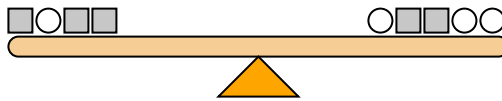
Wenn Sie auf der linken Seite 4-Kreise hinzufügen würden, wie viele Quadrate müssten Sie dann auf der rechten Seite hinzufügen, um das Gleichgewicht zu halten?

3)



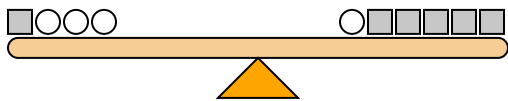
Wenn Sie auf der linken Seite 4-Quadrate hinzufügen würden, wie viele Kreise müssten Sie dann auf der rechten Seite hinzufügen, um das Gleichgewicht zu halten?

4)



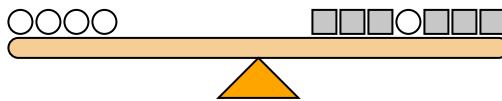
Wenn Sie auf der linken Seite 4-Quadrate hinzufügen würden, wie viele Kreise müssten Sie dann auf der rechten Seite hinzufügen, um das Gleichgewicht zu halten?

5)



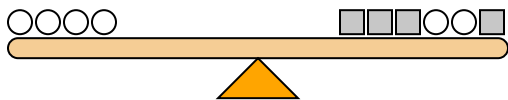
Wenn Sie auf der rechten Seite 5-Kreise hinzufügen würden, wie viele Quadrate müssten Sie dann auf der linken Seite hinzufügen, um das Gleichgewicht zu halten?

6)



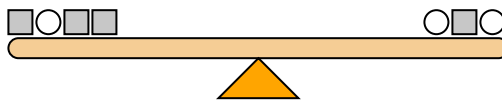
Wenn Sie auf der linken Seite 4-Kreise hinzufügen würden, wie viele Quadrate müssten Sie dann auf der rechten Seite hinzufügen, um das Gleichgewicht zu halten?

7)



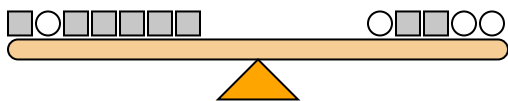
Wenn Sie auf der rechten Seite 5-Kreise hinzufügen würden, wie viele Quadrate müssten Sie dann auf der linken Seite hinzufügen, um das Gleichgewicht zu halten?

8)



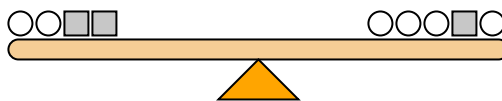
Wenn Sie auf der linken Seite 3-Kreise hinzufügen würden, wie viele Quadrate müssten Sie dann auf der rechten Seite hinzufügen, um das Gleichgewicht zu halten?

9)



Wenn Sie auf der rechten Seite 2-Kreise hinzufügen würden, wie viele Quadrate müssten Sie dann auf der linken Seite hinzufügen, um das Gleichgewicht zu halten?

10)

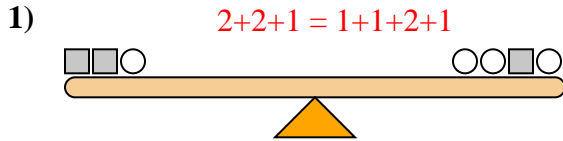


Wenn Sie auf der linken Seite 8-Kreise hinzufügen würden, wie viele Quadrate müssten Sie dann auf der rechten Seite hinzufügen, um das Gleichgewicht zu halten?

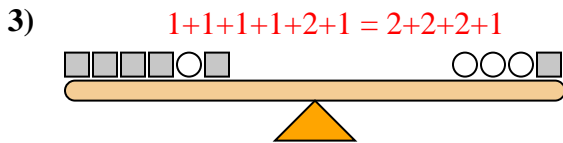
1. _____
2. _____
3. _____
4. _____
5. _____
6. _____
7. _____
8. _____
9. _____
10. _____



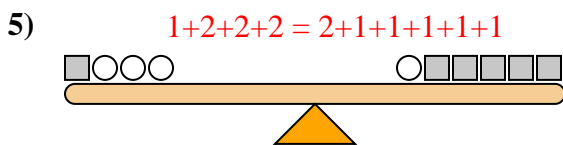
Die Skalen unten sind ausgewogen. Verwenden Sie die Skalen, um jede Frage zu beantworten.



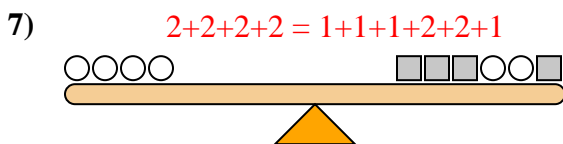
Wenn Sie auf der linken Seite 5-Quadrate hinzufügen würden, wie viele Kreise müssten Sie dann auf der rechten Seite hinzufügen, um das Gleichgewicht zu halten?



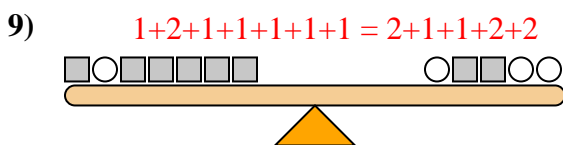
Wenn Sie auf der linken Seite 4-Quadrate hinzufügen würden, wie viele Kreise müssten Sie dann auf der rechten Seite hinzufügen, um das Gleichgewicht zu halten?



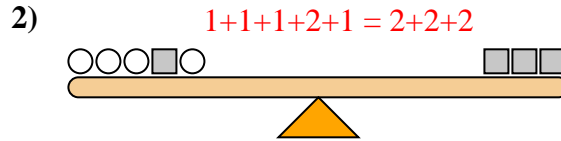
Wenn Sie auf der rechten Seite 5-Kreise hinzufügen würden, wie viele Quadrate müssten Sie dann auf der linken Seite hinzufügen, um das Gleichgewicht zu halten?



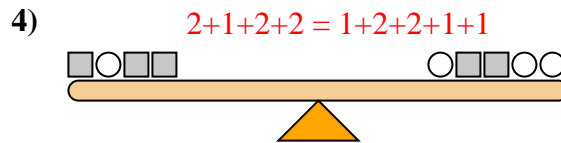
Wenn Sie auf der rechten Seite 5-Kreise hinzufügen würden, wie viele Quadrate müssten Sie dann auf der linken Seite hinzufügen, um das Gleichgewicht zu halten?



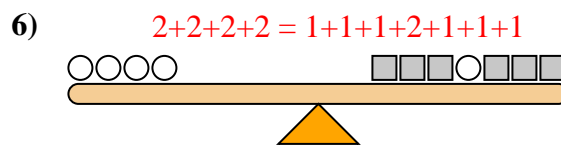
Wenn Sie auf der rechten Seite 2-Kreise hinzufügen würden, wie viele Quadrate müssten Sie dann auf der linken Seite hinzufügen, um das Gleichgewicht zu halten?



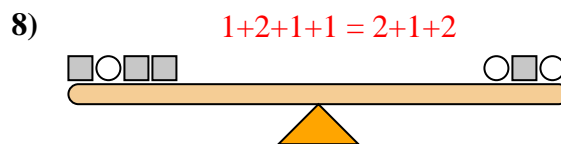
Wenn Sie auf der linken Seite 4-Kreise hinzufügen würden, wie viele Quadrate müssten Sie dann auf der rechten Seite hinzufügen, um das Gleichgewicht zu halten?



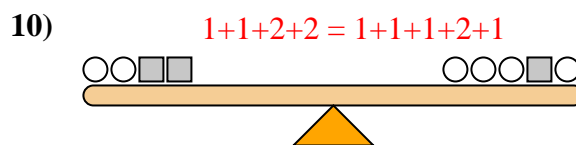
Wenn Sie auf der linken Seite 4-Quadrate hinzufügen würden, wie viele Kreise müssten Sie dann auf der rechten Seite hinzufügen, um das Gleichgewicht zu halten?



Wenn Sie auf der linken Seite 4-Kreise hinzufügen würden, wie viele Quadrate müssten Sie dann auf der rechten Seite hinzufügen, um das Gleichgewicht zu halten?



Wenn Sie auf der linken Seite 3-Kreise hinzufügen würden, wie viele Quadrate müssten Sie dann auf der rechten Seite hinzufügen, um das Gleichgewicht zu halten?



Wenn Sie auf der linken Seite 8-Kreise hinzufügen würden, wie viele Quadrate müssten Sie dann auf der rechten Seite hinzufügen, um das Gleichgewicht zu halten?

Antworten

1. 10
2. 2
3. 2
4. 8
5. 10
6. 8
7. 10
8. 6
9. 4
10. 4