



Löse jede Aufgabe.

Antworten

- 1) Das darunter liegende Rechteck hat die Abmessungen $1 \cdot 9$. Erstellen Sie ein Rechteck mit demselben Umfang, aber einer anderen Fläche.



1. _____

- 2) Das darunter liegende Rechteck hat die Abmessungen $1 \cdot 6$. Erstellen Sie ein Rechteck mit demselben Umfang, aber einer anderen Fläche.



2. _____

- 3) Das darunter liegende Rechteck hat die Abmessungen $1 \cdot 10$. Erstellen Sie ein Rechteck mit demselben Umfang, aber einer anderen Fläche.



3. _____

- 4) Das darunter liegende Rechteck hat die Abmessungen $6 \cdot 7$. Erstellen Sie ein Rechteck mit demselben Umfang, aber einer anderen Fläche.



4. _____

- 5) Das darunter liegende Rechteck hat die Abmessungen $1 \cdot 8$. Erstellen Sie ein Rechteck mit demselben Umfang, aber einer anderen Fläche.



5. _____



Löse jede Aufgabe.

- 1) Das darunter liegende Rechteck hat die Abmessungen $1 \cdot 9$. Erstellen Sie ein Rechteck mit demselben Umfang, aber einer anderen Fläche.



3×7

- 2) Das darunter liegende Rechteck hat die Abmessungen $1 \cdot 6$. Erstellen Sie ein Rechteck mit demselben Umfang, aber einer anderen Fläche.



3×4

2×5

- 3) Das darunter liegende Rechteck hat die Abmessungen $1 \cdot 10$. Erstellen Sie ein Rechteck mit demselben Umfang, aber einer anderen Fläche.



5×6

2×9

- 4) Das darunter liegende Rechteck hat die Abmessungen $6 \cdot 7$. Erstellen Sie ein Rechteck mit demselben Umfang, aber einer anderen Fläche.



3×10

4×9

- 5) Das darunter liegende Rechteck hat die Abmessungen $1 \cdot 8$. Erstellen Sie ein Rechteck mit demselben Umfang, aber einer anderen Fläche.



4×5

2×7

Antworten

1. $3 \cdot 7$

2. $3 \cdot 4 : 2 \cdot 5$

3. $5 \cdot 6 : 2 \cdot 9$

4. $3 \cdot 10 : 4 \cdot 9$

5. $4 \cdot 5 : 2 \cdot 7$



Löse jede Aufgabe.

Antworten

- 1) Das darunter liegende Rechteck hat die Abmessungen $1 \cdot 9$. Erstellen Sie ein Rechteck mit demselben Umfang, aber einer anderen Fläche.



1. _____

2. _____

3. _____

4. _____

5. _____

- 2) Das darunter liegende Rechteck hat die Abmessungen $1 \cdot 4$. Erstellen Sie ein Rechteck mit demselben Umfang, aber einer anderen Fläche.



- 3) Das darunter liegende Rechteck hat die Abmessungen $4 \cdot 9$. Erstellen Sie ein Rechteck mit demselben Umfang, aber einer anderen Fläche.



- 4) Das darunter liegende Rechteck hat die Abmessungen $1 \cdot 6$. Erstellen Sie ein Rechteck mit demselben Umfang, aber einer anderen Fläche.




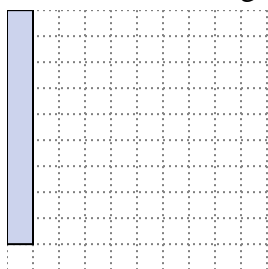
- 5) Das darunter liegende Rechteck hat die Abmessungen $2 \cdot 9$. Erstellen Sie ein Rechteck mit demselben Umfang, aber einer anderen Fläche.





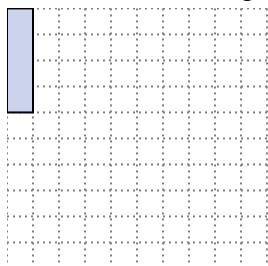
Löse jede Aufgabe.

- 1) Das darunter liegende Rechteck hat die Abmessungen $1 \cdot 9$. Erstellen Sie ein Rechteck mit demselben Umfang, aber einer anderen Fläche.




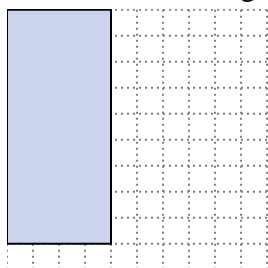
$3 \cdot 7$

- 2) Das darunter liegende Rechteck hat die Abmessungen $1 \cdot 4$. Erstellen Sie ein Rechteck mit demselben Umfang, aber einer anderen Fläche.



$2 \cdot 3$


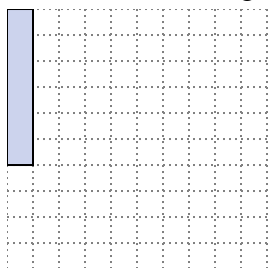
- 3) Das darunter liegende Rechteck hat die Abmessungen $4 \cdot 9$. Erstellen Sie ein Rechteck mit demselben Umfang, aber einer anderen Fläche.



$6 \cdot 7$

$3 \cdot 10$

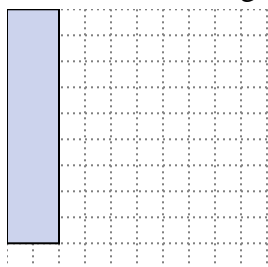
- 4) Das darunter liegende Rechteck hat die Abmessungen $1 \cdot 6$. Erstellen Sie ein Rechteck mit demselben Umfang, aber einer anderen Fläche.



$3 \cdot 4$

$2 \cdot 5$

- 5) Das darunter liegende Rechteck hat die Abmessungen $2 \cdot 9$. Erstellen Sie ein Rechteck mit demselben Umfang, aber einer anderen Fläche.



$1 \cdot 10$

$5 \cdot 6$

Antworten

1. $3 \cdot 7$

2. $2 \cdot 3$

3. $6 \cdot 7 : 3 \cdot 10$

4. $3 \cdot 4 : 2 \cdot 5$

5. $1 \cdot 10 : 5 \cdot 6$



Löse jede Aufgabe.

Antworten

- 1) Das darunter liegende Rechteck hat die Abmessungen $6 \cdot 7$. Erstellen Sie ein Rechteck mit demselben Umfang, aber einer anderen Fläche.



1. _____

- 2) Das darunter liegende Rechteck hat die Abmessungen $4 \cdot 5$. Erstellen Sie ein Rechteck mit demselben Umfang, aber einer anderen Fläche.



2. _____

- 3) Das darunter liegende Rechteck hat die Abmessungen $3 \cdot 7$. Erstellen Sie ein Rechteck mit demselben Umfang, aber einer anderen Fläche.



3. _____

- 4) Das darunter liegende Rechteck hat die Abmessungen $2 \cdot 3$. Erstellen Sie ein Rechteck mit demselben Umfang, aber einer anderen Fläche.



4. _____

- 5) Das darunter liegende Rechteck hat die Abmessungen $2 \cdot 5$. Erstellen Sie ein Rechteck mit demselben Umfang, aber einer anderen Fläche.


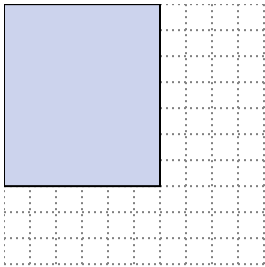


5. _____




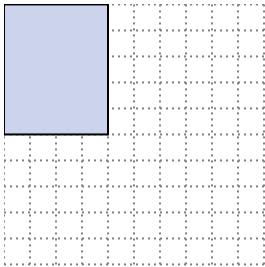
Löse jede Aufgabe.

- 1) Das darunter liegende Rechteck hat die Abmessungen $6 \cdot 7$. Erstellen Sie ein Rechteck mit demselben Umfang, aber einer anderen Fläche.




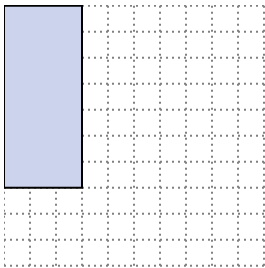
$3 \cdot 10$
 $4 \cdot 9$

- 2) Das darunter liegende Rechteck hat die Abmessungen $4 \cdot 5$. Erstellen Sie ein Rechteck mit demselben Umfang, aber einer anderen Fläche.




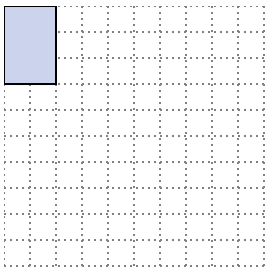
$1 \cdot 8$
 $2 \cdot 7$

- 3) Das darunter liegende Rechteck hat die Abmessungen $3 \cdot 7$. Erstellen Sie ein Rechteck mit demselben Umfang, aber einer anderen Fläche.



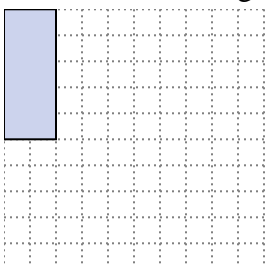
$1 \cdot 9$

- 4) Das darunter liegende Rechteck hat die Abmessungen $2 \cdot 3$. Erstellen Sie ein Rechteck mit demselben Umfang, aber einer anderen Fläche.



$1 \cdot 4$

- 5) Das darunter liegende Rechteck hat die Abmessungen $2 \cdot 5$. Erstellen Sie ein Rechteck mit demselben Umfang, aber einer anderen Fläche.



$1 \cdot 6$
 $3 \cdot 4$

Antworten

1. $3 \cdot 10 : 4 \cdot 9$

2. $1 \cdot 8 : 2 \cdot 7$

3. $1 \cdot 9$

4. $1 \cdot 4$

5. $1 \cdot 6 : 3 \cdot 4$



Löse jede Aufgabe.

Antworten

- 1) Das darunter liegende Rechteck hat die Abmessungen $1 \cdot 8$. Erstellen Sie ein Rechteck mit demselben Umfang, aber einer anderen Fläche.



1. _____

- 2) Das darunter liegende Rechteck hat die Abmessungen $3 \cdot 10$. Erstellen Sie ein Rechteck mit demselben Umfang, aber einer anderen Fläche.




2. _____

- 3) Das darunter liegende Rechteck hat die Abmessungen $2 \cdot 5$. Erstellen Sie ein Rechteck mit demselben Umfang, aber einer anderen Fläche.




3. _____

- 4) Das darunter liegende Rechteck hat die Abmessungen $3 \cdot 7$. Erstellen Sie ein Rechteck mit demselben Umfang, aber einer anderen Fläche.



4. _____

- 5) Das darunter liegende Rechteck hat die Abmessungen $2 \cdot 3$. Erstellen Sie ein Rechteck mit demselben Umfang, aber einer anderen Fläche.


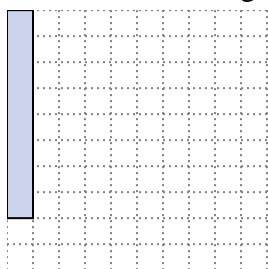


5. _____




Löse jede Aufgabe.

- 1) Das darunter liegende Rechteck hat die Abmessungen $1 \cdot 8$. Erstellen Sie ein Rechteck mit demselben Umfang, aber einer anderen Fläche.




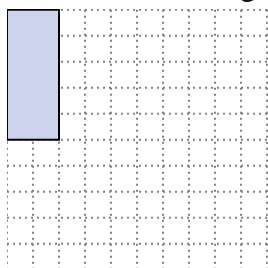
4×5
 2×7

- 2) Das darunter liegende Rechteck hat die Abmessungen $3 \cdot 10$. Erstellen Sie ein Rechteck mit demselben Umfang, aber einer anderen Fläche.




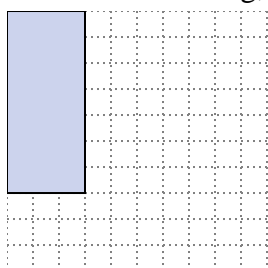
4×9
 6×7

- 3) Das darunter liegende Rechteck hat die Abmessungen $2 \cdot 5$. Erstellen Sie ein Rechteck mit demselben Umfang, aber einer anderen Fläche.




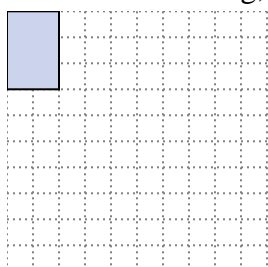
3×4
 1×6

- 4) Das darunter liegende Rechteck hat die Abmessungen $3 \cdot 7$. Erstellen Sie ein Rechteck mit demselben Umfang, aber einer anderen Fläche.



1×9

- 5) Das darunter liegende Rechteck hat die Abmessungen $2 \cdot 3$. Erstellen Sie ein Rechteck mit demselben Umfang, aber einer anderen Fläche.



1×4

Antworten

1. $4 \cdot 5 : 2 \cdot 7$

2. $4 \cdot 9 : 6 \cdot 7$

3. $3 \cdot 4 : 1 \cdot 6$

4. $1 \cdot 9$

5. $1 \cdot 4$



Löse jede Aufgabe.

Antworten

- 1) Das darunter liegende Rechteck hat die Abmessungen $2 \cdot 5$. Erstellen Sie ein Rechteck mit demselben Umfang, aber einer anderen Fläche.



1. _____

- 2) Das darunter liegende Rechteck hat die Abmessungen $1 \cdot 4$. Erstellen Sie ein Rechteck mit demselben Umfang, aber einer anderen Fläche.



2. _____

- 3) Das darunter liegende Rechteck hat die Abmessungen $3 \cdot 7$. Erstellen Sie ein Rechteck mit demselben Umfang, aber einer anderen Fläche.



3. _____

- 4) Das darunter liegende Rechteck hat die Abmessungen $2 \cdot 9$. Erstellen Sie ein Rechteck mit demselben Umfang, aber einer anderen Fläche.



4. _____

- 5) Das darunter liegende Rechteck hat die Abmessungen $6 \cdot 7$. Erstellen Sie ein Rechteck mit demselben Umfang, aber einer anderen Fläche.


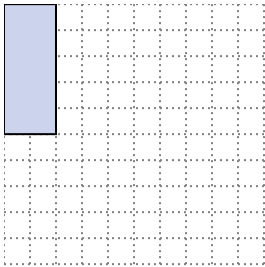


5. _____





Löse jede Aufgabe.

- 1) Das darunter liegende Rechteck hat die Abmessungen $2 \cdot 5$. Erstellen Sie ein Rechteck mit demselben Umfang, aber einer anderen Fläche.




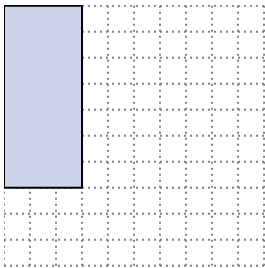
$1 \cdot 6$
 $3 \cdot 4$

- 2) Das darunter liegende Rechteck hat die Abmessungen $1 \cdot 4$. Erstellen Sie ein Rechteck mit demselben Umfang, aber einer anderen Fläche.




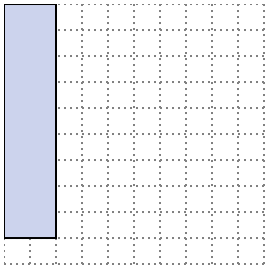
$2 \cdot 3$

- 3) Das darunter liegende Rechteck hat die Abmessungen $3 \cdot 7$. Erstellen Sie ein Rechteck mit demselben Umfang, aber einer anderen Fläche.




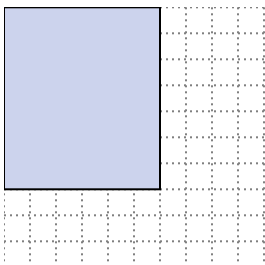
$1 \cdot 9$

- 4) Das darunter liegende Rechteck hat die Abmessungen $2 \cdot 9$. Erstellen Sie ein Rechteck mit demselben Umfang, aber einer anderen Fläche.



$5 \cdot 6$
 $1 \cdot 10$

- 5) Das darunter liegende Rechteck hat die Abmessungen $6 \cdot 7$. Erstellen Sie ein Rechteck mit demselben Umfang, aber einer anderen Fläche.



$3 \cdot 10$
 $4 \cdot 9$

Antworten

1. $1 \cdot 6 : 3 \cdot 4$

2. $2 \cdot 3$

3. $1 \cdot 9$

4. $5 \cdot 6 : 1 \cdot 10$

5. $3 \cdot 10 : 4 \cdot 9$



Löse jede Aufgabe.

Antworten

- 1) Das darunter liegende Rechteck hat die Abmessungen $2 \cdot 5$. Erstellen Sie ein Rechteck mit demselben Umfang, aber einer anderen Fläche.



1. _____

- 2) Das darunter liegende Rechteck hat die Abmessungen $1 \cdot 4$. Erstellen Sie ein Rechteck mit demselben Umfang, aber einer anderen Fläche.



2. _____

- 3) Das darunter liegende Rechteck hat die Abmessungen $2 \cdot 9$. Erstellen Sie ein Rechteck mit demselben Umfang, aber einer anderen Fläche.



3. _____

- 4) Das darunter liegende Rechteck hat die Abmessungen $1 \cdot 8$. Erstellen Sie ein Rechteck mit demselben Umfang, aber einer anderen Fläche.



4. _____

- 5) Das darunter liegende Rechteck hat die Abmessungen $3 \cdot 10$. Erstellen Sie ein Rechteck mit demselben Umfang, aber einer anderen Fläche.


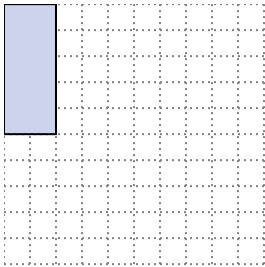


5. _____





Löse jede Aufgabe.

- 1) Das darunter liegende Rechteck hat die Abmessungen $2 \cdot 5$. Erstellen Sie ein Rechteck mit demselben Umfang, aber einer anderen Fläche.




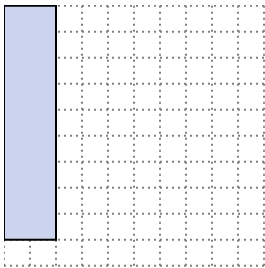
1×6
 3×4

- 2) Das darunter liegende Rechteck hat die Abmessungen $1 \cdot 4$. Erstellen Sie ein Rechteck mit demselben Umfang, aber einer anderen Fläche.




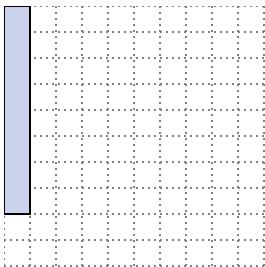
2×3

- 3) Das darunter liegende Rechteck hat die Abmessungen $2 \cdot 9$. Erstellen Sie ein Rechteck mit demselben Umfang, aber einer anderen Fläche.




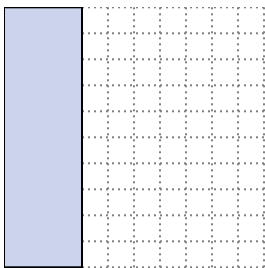
5×6
 1×10

- 4) Das darunter liegende Rechteck hat die Abmessungen $1 \cdot 8$. Erstellen Sie ein Rechteck mit demselben Umfang, aber einer anderen Fläche.



2×7
 4×5

- 5) Das darunter liegende Rechteck hat die Abmessungen $3 \cdot 10$. Erstellen Sie ein Rechteck mit demselben Umfang, aber einer anderen Fläche.



4×9
 6×7

Antworten

1. $1 \cdot 6 : 3 \cdot 4$

2. $2 \cdot 3$

3. $5 \cdot 6 : 1 \cdot 10$

4. $2 \cdot 7 : 4 \cdot 5$

5. $4 \cdot 9 : 6 \cdot 7$



Löse jede Aufgabe.

Antworten

- 1) Das darunter liegende Rechteck hat die Abmessungen $2 \cdot 5$. Erstellen Sie ein Rechteck mit demselben Umfang, aber einer anderen Fläche.



1. _____

- 2) Das darunter liegende Rechteck hat die Abmessungen $3 \cdot 7$. Erstellen Sie ein Rechteck mit demselben Umfang, aber einer anderen Fläche.




2. _____

- 3) Das darunter liegende Rechteck hat die Abmessungen $5 \cdot 6$. Erstellen Sie ein Rechteck mit demselben Umfang, aber einer anderen Fläche.




3. _____

- 4) Das darunter liegende Rechteck hat die Abmessungen $1 \cdot 4$. Erstellen Sie ein Rechteck mit demselben Umfang, aber einer anderen Fläche.



4. _____

- 5) Das darunter liegende Rechteck hat die Abmessungen $4 \cdot 9$. Erstellen Sie ein Rechteck mit demselben Umfang, aber einer anderen Fläche.


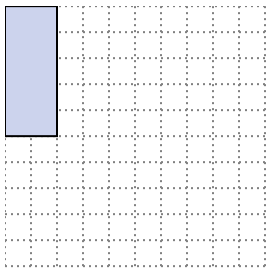


5. _____




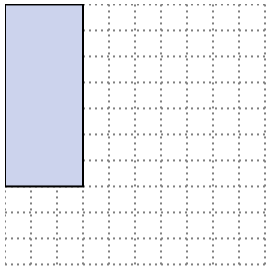
Löse jede Aufgabe.

- 1) Das darunter liegende Rechteck hat die Abmessungen $2 \cdot 5$. Erstellen Sie ein Rechteck mit demselben Umfang, aber einer anderen Fläche.




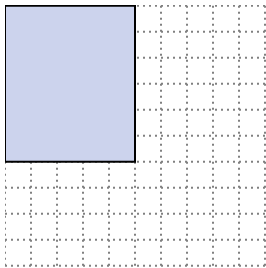
3×4
 1×6

- 2) Das darunter liegende Rechteck hat die Abmessungen $3 \cdot 7$. Erstellen Sie ein Rechteck mit demselben Umfang, aber einer anderen Fläche.





1×9

- 3) Das darunter liegende Rechteck hat die Abmessungen $5 \cdot 6$. Erstellen Sie ein Rechteck mit demselben Umfang, aber einer anderen Fläche.




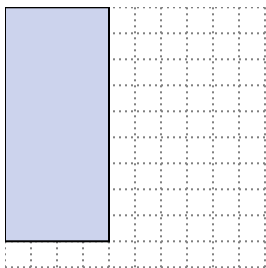
2×9
 1×10

- 4) Das darunter liegende Rechteck hat die Abmessungen $1 \cdot 4$. Erstellen Sie ein Rechteck mit demselben Umfang, aber einer anderen Fläche.



2×3

- 5) Das darunter liegende Rechteck hat die Abmessungen $4 \cdot 9$. Erstellen Sie ein Rechteck mit demselben Umfang, aber einer anderen Fläche.



6×7
 3×10

Antworten

1. $3 \cdot 4 : 1 \cdot 6$

2. $1 \cdot 9$

3. $2 \cdot 9 : 1 \cdot 10$

4. $2 \cdot 3$

5. $6 \cdot 7 : 3 \cdot 10$



Löse jede Aufgabe.

Antworten

- 1) Das darunter liegende Rechteck hat die Abmessungen $2 \cdot 7$. Erstellen Sie ein Rechteck mit demselben Umfang, aber einer anderen Fläche.



1. _____

- 2) Das darunter liegende Rechteck hat die Abmessungen $2 \cdot 3$. Erstellen Sie ein Rechteck mit demselben Umfang, aber einer anderen Fläche.



2. _____

- 3) Das darunter liegende Rechteck hat die Abmessungen $1 \cdot 6$. Erstellen Sie ein Rechteck mit demselben Umfang, aber einer anderen Fläche.



3. _____

- 4) Das darunter liegende Rechteck hat die Abmessungen $3 \cdot 7$. Erstellen Sie ein Rechteck mit demselben Umfang, aber einer anderen Fläche.



4. _____

- 5) Das darunter liegende Rechteck hat die Abmessungen $1 \cdot 10$. Erstellen Sie ein Rechteck mit demselben Umfang, aber einer anderen Fläche.


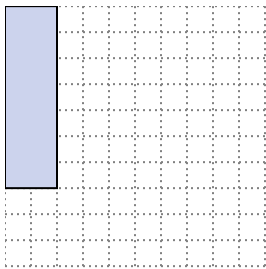


5. _____




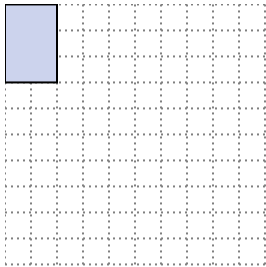
Löse jede Aufgabe.

- 1) Das darunter liegende Rechteck hat die Abmessungen $2 \cdot 7$. Erstellen Sie ein Rechteck mit demselben Umfang, aber einer anderen Fläche.




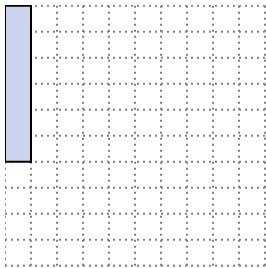
1×8
 4×5

- 2) Das darunter liegende Rechteck hat die Abmessungen $2 \cdot 3$. Erstellen Sie ein Rechteck mit demselben Umfang, aber einer anderen Fläche.




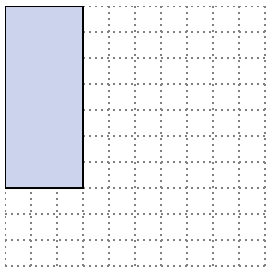
1×4

- 3) Das darunter liegende Rechteck hat die Abmessungen $1 \cdot 6$. Erstellen Sie ein Rechteck mit demselben Umfang, aber einer anderen Fläche.



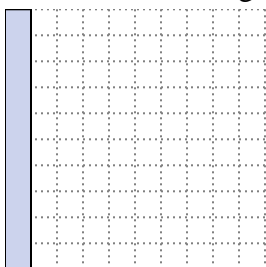
3×4
 2×5

- 4) Das darunter liegende Rechteck hat die Abmessungen $3 \cdot 7$. Erstellen Sie ein Rechteck mit demselben Umfang, aber einer anderen Fläche.



1×9

- 5) Das darunter liegende Rechteck hat die Abmessungen $1 \cdot 10$. Erstellen Sie ein Rechteck mit demselben Umfang, aber einer anderen Fläche.



2×9
 5×6

Antworten

1. $1 \cdot 8 : 4 \cdot 5$

2. $1 \cdot 4$

3. $3 \cdot 4 : 2 \cdot 5$

4. $1 \cdot 9$

5. $2 \cdot 9 : 5 \cdot 6$



Löse jede Aufgabe.

Antworten

- 1) Das darunter liegende Rechteck hat die Abmessungen $5 \cdot 6$. Erstellen Sie ein Rechteck mit demselben Umfang, aber einer anderen Fläche.



1. _____

- 2) Das darunter liegende Rechteck hat die Abmessungen $3 \cdot 7$. Erstellen Sie ein Rechteck mit demselben Umfang, aber einer anderen Fläche.



2. _____

- 3) Das darunter liegende Rechteck hat die Abmessungen $1 \cdot 8$. Erstellen Sie ein Rechteck mit demselben Umfang, aber einer anderen Fläche.



3. _____

- 4) Das darunter liegende Rechteck hat die Abmessungen $2 \cdot 5$. Erstellen Sie ein Rechteck mit demselben Umfang, aber einer anderen Fläche.



4. _____

- 5) Das darunter liegende Rechteck hat die Abmessungen $3 \cdot 10$. Erstellen Sie ein Rechteck mit demselben Umfang, aber einer anderen Fläche.


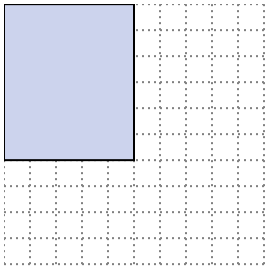


5. _____




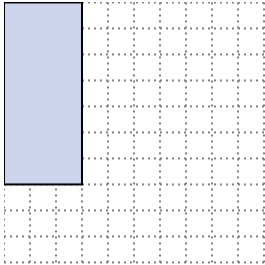
Löse jede Aufgabe.

- 1) Das darunter liegende Rechteck hat die Abmessungen $5 \cdot 6$. Erstellen Sie ein Rechteck mit demselben Umfang, aber einer anderen Fläche.




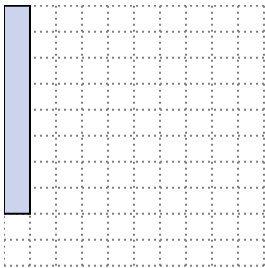
2×9
 1×10

- 2) Das darunter liegende Rechteck hat die Abmessungen $3 \cdot 7$. Erstellen Sie ein Rechteck mit demselben Umfang, aber einer anderen Fläche.




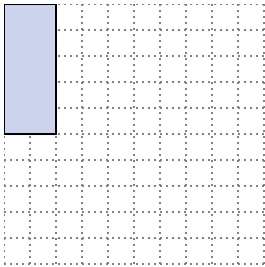
1×9

- 3) Das darunter liegende Rechteck hat die Abmessungen $1 \cdot 8$. Erstellen Sie ein Rechteck mit demselben Umfang, aber einer anderen Fläche.




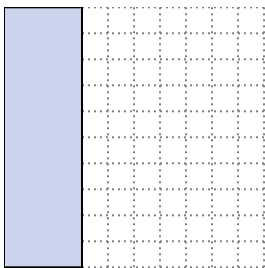
4×5
 2×7

- 4) Das darunter liegende Rechteck hat die Abmessungen $2 \cdot 5$. Erstellen Sie ein Rechteck mit demselben Umfang, aber einer anderen Fläche.



3×4
 1×6

- 5) Das darunter liegende Rechteck hat die Abmessungen $3 \cdot 10$. Erstellen Sie ein Rechteck mit demselben Umfang, aber einer anderen Fläche.



6×7
 4×9

Antworten

1. $2 \cdot 9 : 1 \cdot 10$

2. $1 \cdot 9$

3. $4 \cdot 5 : 2 \cdot 7$

4. $3 \cdot 4 : 1 \cdot 6$

5. $6 \cdot 7 : 4 \cdot 9$



Löse jede Aufgabe.

Antworten

- 1) Das darunter liegende Rechteck hat die Abmessungen $3 \cdot 7$. Erstellen Sie ein Rechteck mit demselben Umfang, aber einer anderen Fläche.



1. _____

- 2) Das darunter liegende Rechteck hat die Abmessungen $1 \cdot 6$. Erstellen Sie ein Rechteck mit demselben Umfang, aber einer anderen Fläche.



2. _____

- 3) Das darunter liegende Rechteck hat die Abmessungen $6 \cdot 7$. Erstellen Sie ein Rechteck mit demselben Umfang, aber einer anderen Fläche.



3. _____

- 4) Das darunter liegende Rechteck hat die Abmessungen $2 \cdot 3$. Erstellen Sie ein Rechteck mit demselben Umfang, aber einer anderen Fläche.



4. _____

- 5) Das darunter liegende Rechteck hat die Abmessungen $1 \cdot 8$. Erstellen Sie ein Rechteck mit demselben Umfang, aber einer anderen Fläche.


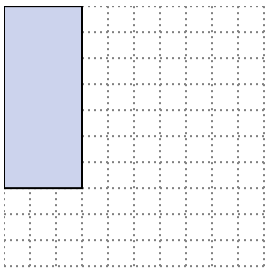


5. _____




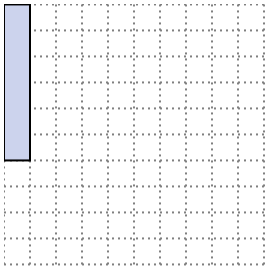
Löse jede Aufgabe.

- 1) Das darunter liegende Rechteck hat die Abmessungen $3 \cdot 7$. Erstellen Sie ein Rechteck mit demselben Umfang, aber einer anderen Fläche.



$1 \cdot 9$


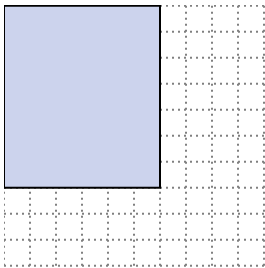
- 2) Das darunter liegende Rechteck hat die Abmessungen $1 \cdot 6$. Erstellen Sie ein Rechteck mit demselben Umfang, aber einer anderen Fläche.



$3 \cdot 4$

$2 \cdot 5$


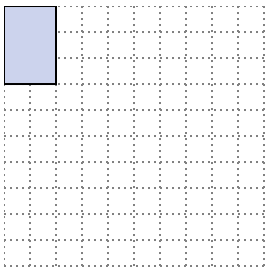
- 3) Das darunter liegende Rechteck hat die Abmessungen $6 \cdot 7$. Erstellen Sie ein Rechteck mit demselben Umfang, aber einer anderen Fläche.



$4 \cdot 9$


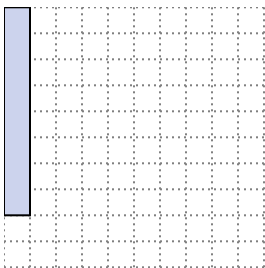
$3 \cdot 10$

- 4) Das darunter liegende Rechteck hat die Abmessungen $2 \cdot 3$. Erstellen Sie ein Rechteck mit demselben Umfang, aber einer anderen Fläche.



$1 \cdot 4$

- 5) Das darunter liegende Rechteck hat die Abmessungen $1 \cdot 8$. Erstellen Sie ein Rechteck mit demselben Umfang, aber einer anderen Fläche.



$4 \cdot 5$

$2 \cdot 7$

Antworten

1. 1•9

2. 3•4 : 2•5

3. 4•9 : 3•10

4. 1•4

5. 4•5 : 2•7