





Verwenden Sie die folgenden Diagramme, um ein Rechteck mit der angezeigten Fläche/Umfang zu erstellen. Jedes SVGREPLACE = 1 Einheit(u). Antworten Sie mit der Länge und Höhe. Antworten variieren.


1) Fläche der 36-  
Quadrateinheiten.




2) Fläche der 40-  
Quadrateinheiten.




3) Fläche der 8-  
Quadrateinheiten.




4) Umfang der 4-Einheiten.




5) Fläche der 12-  
Quadrateinheiten.




6) Fläche der 9-  
Quadrateinheiten.




7) Umfang der 6-Einheiten.




8) Umfang der 30-  
Einheiten.




9) Umfang der 38-  
Einheiten.




10) Fläche der 18-  
Quadrateinheiten.



11) Umfang der 16-  
Einheiten.



12) Umfang der 28-  
Einheiten.

**Antworten**

1. \_\_\_\_\_  $=36u^2$

2. \_\_\_\_\_  $=40u^2$

3. \_\_\_\_\_  $=8u^2$

4. \_\_\_\_\_  $=4u$

5. \_\_\_\_\_  $=12u^2$

6. \_\_\_\_\_  $=9u^2$

7. \_\_\_\_\_  $=6u$

8. \_\_\_\_\_  $=30u$

9. \_\_\_\_\_  $=38u$

10. \_\_\_\_\_  $=18u^2$

11. \_\_\_\_\_  $=16u$

12. \_\_\_\_\_  $=28u$

