





Verwenden Sie die folgenden Diagramme, um ein Rechteck mit der angezeigten Fläche/Umfang zu erstellen. Jedes SVGREPLACE = 1 Einheit(u). Antworten Sie mit der Länge und Höhe. Antworten variieren.


1) Fläche der 30-
Quadrateinheiten.




2) Fläche der 54-
Quadrateinheiten.




3) Umfang der 24-
Einheiten.




4) Fläche der 3-
Quadrateinheiten.




5) Fläche der 21-
Quadrateinheiten.




6) Umfang der 18-
Einheiten.




7) Fläche der 45-
Quadrateinheiten.




8) Umfang der 8-Einheiten.




9) Fläche der 10-
Quadrateinheiten.




10) Umfang der 6-Einheiten.



11) Umfang der 16-
Einheiten.



12) Fläche der 9-
Quadrateinheiten.

**Antworten**

1. _____ $=30u^2$

2. _____ $=54u^2$

3. _____ $=24u$

4. _____ $=3u^2$

5. _____ $=21u^2$

6. _____ $=18u$

7. _____ $=45u^2$

8. _____ $=8u$

9. _____ $=10u^2$

10. _____ $=6u$


11. _____ $=16u$

12. _____ $=9u^2$




Verwenden Sie die folgenden Diagramme, um ein Rechteck mit der angezeigten Fläche/Umfang zu erstellen. Jedes SVGREPLACE = 1 Einheit(u). Antworten Sie mit der Länge und Höhe. Antworten variieren.


1) Fläche der 30-
Quadrateinheiten.




2) Fläche der 54-
Quadrateinheiten.




3) Umfang der 24-
Einheiten.




4) Fläche der 3-
Quadrateinheiten.




5) Fläche der 21-
Quadrateinheiten.




6) Umfang der 18-
Einheiten.




7) Fläche der 45-
Quadrateinheiten.




8) Umfang der 8-Einheiten.




9) Fläche der 10-
Quadrateinheiten.




10) Umfang der 6-Einheiten.



11) Umfang der 16-
Einheiten.



12) Fläche der 9-
Quadrateinheiten.

**Antworten**

1. _____ $=30u^2$

2. _____ $=54u^2$

3. _____ $=24u$

4. _____ $=3u^2$

5. _____ $=21u^2$

6. _____ $=18u$

7. _____ $=45u^2$

8. _____ $=8u$

9. _____ $=10u^2$

10. _____ $=6u$

11. _____ $=16u$

12. _____ $=9u^2$