





Verwenden Sie die folgenden Diagramme, um ein Rechteck mit der angezeigten Fläche/Umfang zu erstellen. Jedes SVGREPLACE = 1 Einheit(u). Antworten Sie mit der Länge und Höhe. Antworten variieren.


1) Fläche der 36-
Quadratinheiten.




2) Umfang der 38-
Einheiten.




3) Fläche der 7-
Quadratinheiten.




4) Fläche der 16-
Quadratinheiten.




5) Umfang der 28-
Einheiten.




6) Umfang der 40-
Einheiten.




7) Umfang der 22-
Einheiten.




8) Fläche der 21-
Quadratinheiten.




9) Fläche der 12-
Quadratinheiten.




10) Fläche der 3-
Quadratinheiten.



11) Fläche der 9-
Quadratinheiten.



12) Umfang der 18-
Einheiten.

**Antworten**

1. _____ $=36u^2$

2. _____ $=38u$

3. _____ $=7u^2$

4. _____ $=16u^2$

5. _____ $=28u$

6. _____ $=40u$

7. _____ $=22u$

8. _____ $=21u^2$

9. _____ $=12u^2$

10. _____ $=3u^2$


11. _____ $=9u^2$

12. _____ $=18u$




Verwenden Sie die folgenden Diagramme, um ein Rechteck mit der angezeigten Fläche/Umfang zu erstellen. Jedes SVGREPLACE = 1 Einheit(u). Antworten Sie mit der Länge und Höhe. Antworten variieren.


- 1) Fläche der 36-
Quadrateinheiten.




- 2) Umfang der 38-
Einheiten.




- 3) Fläche der 7-
Quadrateinheiten.




- 4) Fläche der 16-
Quadrateinheiten.




- 5) Umfang der 28-
Einheiten.




- 6) Umfang der 40-
Einheiten.




- 7) Umfang der 22-
Einheiten.




- 8) Fläche der 21-
Quadrateinheiten.




- 9) Fläche der 12-
Quadrateinheiten.




- 10) Fläche der 3-
Quadrateinheiten.



- 11) Fläche der 9-
Quadrateinheiten.



- 12) Umfang der 18-
Einheiten.

**Antworten**

1. _____ $=36u^2$
2. _____ $=38u$
3. _____ $=7u^2$
4. _____ $=16u^2$
5. _____ $=28u$
6. _____ $=40u$
7. _____ $=22u$
8. _____ $=21u^2$
9. _____ $=12u^2$
10. _____ $=3u^2$
11. _____ $=9u^2$
12. _____ $=18u$