





Verwenden Sie die folgenden Diagramme, um ein Rechteck mit der angezeigten Fläche/Umfang zu erstellen. Jedes SVGREPLACE = 1 Einheit(u). Antworten Sie mit der Länge und Höhe. Antworten variieren.


1) Fläche der 72-
Quadratinheiten.




2) Umfang der 4-Einheiten.




3) Umfang der 18-
Einheiten.




4) Umfang der 16-
Einheiten.




5) Umfang der 22-
Einheiten.




6) Fläche der 2-
Quadratinheiten.




7) Umfang der 12-
Einheiten.




8) Umfang der 32-
Einheiten.




9) Fläche der 54-
Quadratinheiten.




10) Fläche der 7-
Quadratinheiten.



11) Fläche der 6-
Quadratinheiten.



12) Fläche der 49-
Quadratinheiten.

**Antworten**

1. $=72u^2$
2. $=4u$
3. $=18u$
4. $=16u$
5. $=22u$
6. $=2u^2$
7. $=12u$
8. $=32u$
9. $=54u^2$
10. $=7u^2$
11. $=6u^2$
12. $=49u^2$