



Verwenden Sie die Rastermuster, um jede Frage zu beantworten. Jedes SVGREPLACE = 1 Quadrateinheit.

**Antworten**

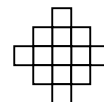
1) \_\_\_\_\_

1

2

3

4



A. Wenn sich das obige Muster fortsetzt, was wird die Fläche des Raster-5 sein?

B. Wenn sich das obige Muster fortsetzt, was wird die Fläche des Raster-8 sein?

2) \_\_\_\_\_

1

2

3

4



A. Wenn sich das obige Muster fortsetzt, was wird die Fläche des Raster-7 sein?

B. Wenn sich das obige Muster fortsetzt, was wird die Fläche des Raster-8 sein?

3) \_\_\_\_\_

1

2

3

4



A. Wenn sich das obige Muster fortsetzt, was wird die Fläche des Raster-5 sein?

B. Wenn sich das obige Muster fortsetzt, was wird die Fläche des Raster-7 sein?

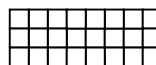
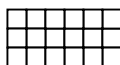
4) \_\_\_\_\_

1

2

3

4



A. Wenn sich das obige Muster fortsetzt, was wird die Fläche des Raster-6 sein?

B. Wenn sich das obige Muster fortsetzt, was wird die Fläche des Raster-8 sein?

5) \_\_\_\_\_

1

2

3

4



A. Wenn sich das obige Muster fortsetzt, was wird die Fläche des Raster-5 sein?

B. Wenn sich das obige Muster fortsetzt, was wird die Fläche des Raster-7 sein?

1. \_\_\_\_\_

2. \_\_\_\_\_

3. \_\_\_\_\_

4. \_\_\_\_\_

5. \_\_\_\_\_



Verwenden Sie die Rastermuster, um jede Frage zu beantworten. Jedes SVGREPLACE = 1 Quadrateinheit.

**Antworten**

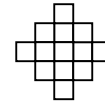
1) \_\_\_\_\_

1

2

3

4



A. Wenn sich das obige Muster fortsetzt, was wird die Fläche des Raster-5 sein?

B. Wenn sich das obige Muster fortsetzt, was wird die Fläche des Raster-8 sein?

2) \_\_\_\_\_

1

2

3

4



A. Wenn sich das obige Muster fortsetzt, was wird die Fläche des Raster-7 sein?

B. Wenn sich das obige Muster fortsetzt, was wird die Fläche des Raster-8 sein?

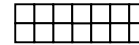
3) \_\_\_\_\_

1

2

3

4



A. Wenn sich das obige Muster fortsetzt, was wird die Fläche des Raster-5 sein?

B. Wenn sich das obige Muster fortsetzt, was wird die Fläche des Raster-7 sein?

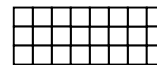
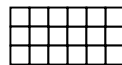
4) \_\_\_\_\_

1

2

3

4



A. Wenn sich das obige Muster fortsetzt, was wird die Fläche des Raster-6 sein?

B. Wenn sich das obige Muster fortsetzt, was wird die Fläche des Raster-8 sein?

5) \_\_\_\_\_

1

2

3

4



A. Wenn sich das obige Muster fortsetzt, was wird die Fläche des Raster-5 sein?

B. Wenn sich das obige Muster fortsetzt, was wird die Fläche des Raster-7 sein?

1. 17    292. 16    183. 18    264. 36    485. 18    26



Verwenden Sie die Rastermuster, um jede Frage zu beantworten. Jedes SVGREPLACE = 1 Quadrateinheit.

**Antworten**

1) \_\_\_\_\_

1

2

3

4



A. Wenn sich das obige Muster fortsetzt, was wird die Fläche des Raster-6 sein?

B. Wenn sich das obige Muster fortsetzt, was wird die Fläche des Raster-8 sein?

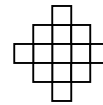
2) \_\_\_\_\_

1

2

3

4



A. Wenn sich das obige Muster fortsetzt, was wird die Fläche des Raster-5 sein?

B. Wenn sich das obige Muster fortsetzt, was wird die Fläche des Raster-8 sein?

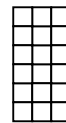
3) \_\_\_\_\_

1

2

3

4



A. Wenn sich das obige Muster fortsetzt, was wird die Fläche des Raster-6 sein?

B. Wenn sich das obige Muster fortsetzt, was wird die Fläche des Raster-8 sein?

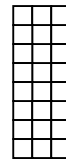
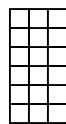
4) \_\_\_\_\_

1

2

3

4



A. Wenn sich das obige Muster fortsetzt, was wird die Fläche des Raster-6 sein?

B. Wenn sich das obige Muster fortsetzt, was wird die Fläche des Raster-8 sein?


5) \_\_\_\_\_

1

2

3

4



A. Wenn sich das obige Muster fortsetzt, was wird die Fläche des Raster-5 sein?

B. Wenn sich das obige Muster fortsetzt, was wird die Fläche des Raster-8 sein?

1. \_\_\_\_\_

2. \_\_\_\_\_

3. \_\_\_\_\_

4. \_\_\_\_\_

5. \_\_\_\_\_



Verwenden Sie die Rastermuster, um jede Frage zu beantworten. Jedes SVGREPLACE = 1 Quadrateinheit.

**Antworten**

1) \_\_\_\_\_

1

2

3

4



A. Wenn sich das obige Muster fortsetzt, was wird die Fläche des Raster-6 sein?

B. Wenn sich das obige Muster fortsetzt, was wird die Fläche des Raster-8 sein?

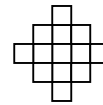
2) \_\_\_\_\_

1

2

3

4



A. Wenn sich das obige Muster fortsetzt, was wird die Fläche des Raster-5 sein?

B. Wenn sich das obige Muster fortsetzt, was wird die Fläche des Raster-8 sein?

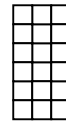
3) \_\_\_\_\_

1

2

3

4



A. Wenn sich das obige Muster fortsetzt, was wird die Fläche des Raster-6 sein?

B. Wenn sich das obige Muster fortsetzt, was wird die Fläche des Raster-8 sein?

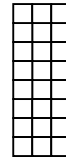
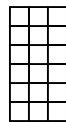
4) \_\_\_\_\_

1

2

3

4



A. Wenn sich das obige Muster fortsetzt, was wird die Fläche des Raster-6 sein?

B. Wenn sich das obige Muster fortsetzt, was wird die Fläche des Raster-8 sein?


5) \_\_\_\_\_

1

2

3

4



A. Wenn sich das obige Muster fortsetzt, was wird die Fläche des Raster-5 sein?

B. Wenn sich das obige Muster fortsetzt, was wird die Fläche des Raster-8 sein?

1. 13    172. 17    293. 24    304. 36    485. 25    40



Verwenden Sie die Rastermuster, um jede Frage zu beantworten. Jedes SVGREPLACE = 1 Quadrateinheit.

**Antworten**

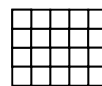
1) \_\_\_\_\_

1

2

3

4



A. Wenn sich das obige Muster fortsetzt, was wird die Fläche des Raster-7 sein?

B. Wenn sich das obige Muster fortsetzt, was wird die Fläche des Raster-8 sein?

2) \_\_\_\_\_

1

2

3

4



A. Wenn sich das obige Muster fortsetzt, was wird die Fläche des Raster-5 sein?

B. Wenn sich das obige Muster fortsetzt, was wird die Fläche des Raster-7 sein?

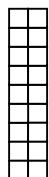

3) \_\_\_\_\_

1

2

3

4



A. Wenn sich das obige Muster fortsetzt, was wird die Fläche des Raster-7 sein?

B. Wenn sich das obige Muster fortsetzt, was wird die Fläche des Raster-8 sein?

4) \_\_\_\_\_

1

2

3

4



A. Wenn sich das obige Muster fortsetzt, was wird die Fläche des Raster-6 sein?

B. Wenn sich das obige Muster fortsetzt, was wird die Fläche des Raster-8 sein?

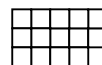
5) \_\_\_\_\_

1

2

3

4



A. Wenn sich das obige Muster fortsetzt, was wird die Fläche des Raster-5 sein?

B. Wenn sich das obige Muster fortsetzt, was wird die Fläche des Raster-7 sein?

1. \_\_\_\_\_
2. \_\_\_\_\_
3. \_\_\_\_\_
4. \_\_\_\_\_
5. \_\_\_\_\_



Verwenden Sie die Rastermuster, um jede Frage zu beantworten. Jedes SVGREPLACE = 1 Quadrateinheit.

**Antworten**

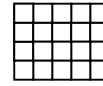
1) \_\_\_\_\_

1

2

3

4



A. Wenn sich das obige Muster fortsetzt, was wird die Fläche des Raster-7 sein?

B. Wenn sich das obige Muster fortsetzt, was wird die Fläche des Raster-8 sein?

2) \_\_\_\_\_

1

2

3

4



A. Wenn sich das obige Muster fortsetzt, was wird die Fläche des Raster-5 sein?

B. Wenn sich das obige Muster fortsetzt, was wird die Fläche des Raster-7 sein?

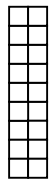
3) \_\_\_\_\_

1

2

3

4



A. Wenn sich das obige Muster fortsetzt, was wird die Fläche des Raster-7 sein?

B. Wenn sich das obige Muster fortsetzt, was wird die Fläche des Raster-8 sein?

4) \_\_\_\_\_

1

2

3

4



A. Wenn sich das obige Muster fortsetzt, was wird die Fläche des Raster-6 sein?

B. Wenn sich das obige Muster fortsetzt, was wird die Fläche des Raster-8 sein?

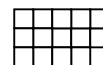
5) \_\_\_\_\_

1

2

3

4



A. Wenn sich das obige Muster fortsetzt, was wird die Fläche des Raster-5 sein?

B. Wenn sich das obige Muster fortsetzt, was wird die Fläche des Raster-7 sein?

1. 35 402. 15 213. 8 64. 16 225. 18 26



Verwenden Sie die Rastermuster, um jede Frage zu beantworten. Jedes SVGREPLACE = 1 Quadrateinheit.

**Antworten**

1) \_\_\_\_\_

1

2

3

4



A. Wenn sich das obige Muster fortsetzt, was wird die Fläche des Raster-6 sein?

B. Wenn sich das obige Muster fortsetzt, was wird die Fläche des Raster-7 sein?

2) \_\_\_\_\_

1

2

3

4



A. Wenn sich das obige Muster fortsetzt, was wird die Fläche des Raster-5 sein?

B. Wenn sich das obige Muster fortsetzt, was wird die Fläche des Raster-6 sein?

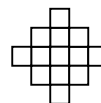
3) \_\_\_\_\_

1

2

3

4



A. Wenn sich das obige Muster fortsetzt, was wird die Fläche des Raster-6 sein?

B. Wenn sich das obige Muster fortsetzt, was wird die Fläche des Raster-8 sein?

4) \_\_\_\_\_

1

2

3

4



A. Wenn sich das obige Muster fortsetzt, was wird die Fläche des Raster-6 sein?

B. Wenn sich das obige Muster fortsetzt, was wird die Fläche des Raster-8 sein?


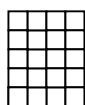
5) \_\_\_\_\_

1

2

3

4



A. Wenn sich das obige Muster fortsetzt, was wird die Fläche des Raster-5 sein?

B. Wenn sich das obige Muster fortsetzt, was wird die Fläche des Raster-6 sein?

1. \_\_\_\_\_

2. \_\_\_\_\_

3. \_\_\_\_\_

4. \_\_\_\_\_

5. \_\_\_\_\_



Verwenden Sie die Rastermuster, um jede Frage zu beantworten. Jedes SVGREPLACE = 1 Quadrateinheit.

**Antworten**

1) \_\_\_\_\_

1

2

3

4



A. Wenn sich das obige Muster fortsetzt, was wird die Fläche des Raster-6 sein?

B. Wenn sich das obige Muster fortsetzt, was wird die Fläche des Raster-7 sein?

2) \_\_\_\_\_

1

2

3

4



A. Wenn sich das obige Muster fortsetzt, was wird die Fläche des Raster-5 sein?

B. Wenn sich das obige Muster fortsetzt, was wird die Fläche des Raster-6 sein?

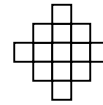
3) \_\_\_\_\_

1

2

3

4



A. Wenn sich das obige Muster fortsetzt, was wird die Fläche des Raster-6 sein?

B. Wenn sich das obige Muster fortsetzt, was wird die Fläche des Raster-8 sein?

4) \_\_\_\_\_

1

2

3

4



A. Wenn sich das obige Muster fortsetzt, was wird die Fläche des Raster-6 sein?

B. Wenn sich das obige Muster fortsetzt, was wird die Fläche des Raster-8 sein?


5) \_\_\_\_\_

1

2

3

4



A. Wenn sich das obige Muster fortsetzt, was wird die Fläche des Raster-5 sein?

B. Wenn sich das obige Muster fortsetzt, was wird die Fläche des Raster-6 sein?

1. 22 262. 15 183. 21 294. 13 175. 28 32





Verwenden Sie die Rastermuster, um jede Frage zu beantworten. Jedes SVGREPLACE = 1 Quadrateinheit.

**Antworten**

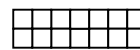
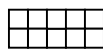
1) \_\_\_\_\_

1

2

3

4



A. Wenn sich das obige Muster fortsetzt, was wird die Fläche des Raster-6 sein?

B. Wenn sich das obige Muster fortsetzt, was wird die Fläche des Raster-7 sein?

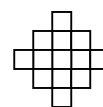
2) \_\_\_\_\_

1

2

3

4



A. Wenn sich das obige Muster fortsetzt, was wird die Fläche des Raster-7 sein?

B. Wenn sich das obige Muster fortsetzt, was wird die Fläche des Raster-8 sein?

3) \_\_\_\_\_

1

2

3

4



A. Wenn sich das obige Muster fortsetzt, was wird die Fläche des Raster-5 sein?

B. Wenn sich das obige Muster fortsetzt, was wird die Fläche des Raster-6 sein?

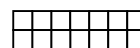
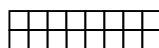
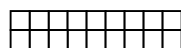
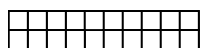
4) \_\_\_\_\_

1

2

3

4



A. Wenn sich das obige Muster fortsetzt, was wird die Fläche des Raster-6 sein?

B. Wenn sich das obige Muster fortsetzt, was wird die Fläche des Raster-7 sein?


5) \_\_\_\_\_

1

2

3

4



A. Wenn sich das obige Muster fortsetzt, was wird die Fläche des Raster-6 sein?

B. Wenn sich das obige Muster fortsetzt, was wird die Fläche des Raster-8 sein?

1. \_\_\_\_\_
2. \_\_\_\_\_
3. \_\_\_\_\_
4. \_\_\_\_\_
5. \_\_\_\_\_





Verwenden Sie die Rastermuster, um jede Frage zu beantworten. Jedes SVGREPLACE = 1 Quadrateinheit.

**Antworten**

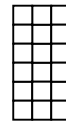
1) \_\_\_\_\_

1

2

3

4



A. Wenn sich das obige Muster fortsetzt, was wird die Fläche des Raster-5 sein?

B. Wenn sich das obige Muster fortsetzt, was wird die Fläche des Raster-7 sein?

2) \_\_\_\_\_

1

2

3

4



A. Wenn sich das obige Muster fortsetzt, was wird die Fläche des Raster-6 sein?

B. Wenn sich das obige Muster fortsetzt, was wird die Fläche des Raster-7 sein?

3) \_\_\_\_\_

1

2

3

4



A. Wenn sich das obige Muster fortsetzt, was wird die Fläche des Raster-6 sein?

B. Wenn sich das obige Muster fortsetzt, was wird die Fläche des Raster-8 sein?

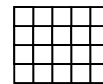
4) \_\_\_\_\_

1

2

3

4



A. Wenn sich das obige Muster fortsetzt, was wird die Fläche des Raster-5 sein?

B. Wenn sich das obige Muster fortsetzt, was wird die Fläche des Raster-8 sein?

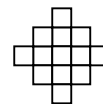
5) \_\_\_\_\_

1

2

3

4



A. Wenn sich das obige Muster fortsetzt, was wird die Fläche des Raster-6 sein?

B. Wenn sich das obige Muster fortsetzt, was wird die Fläche des Raster-7 sein?

1. \_\_\_\_\_
2. \_\_\_\_\_
3. \_\_\_\_\_
4. \_\_\_\_\_
5. \_\_\_\_\_



Verwenden Sie die Rastermuster, um jede Frage zu beantworten. Jedes SVGREPLACE = 1 Quadrateinheit.

**Antworten**

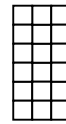
1) \_\_\_\_\_

1

2

3

4



A. Wenn sich das obige Muster fortsetzt, was wird die Fläche des Raster-5 sein?

B. Wenn sich das obige Muster fortsetzt, was wird die Fläche des Raster-7 sein?

2) \_\_\_\_\_

1

2

3

4



A. Wenn sich das obige Muster fortsetzt, was wird die Fläche des Raster-6 sein?

B. Wenn sich das obige Muster fortsetzt, was wird die Fläche des Raster-7 sein?

3) \_\_\_\_\_

1

2

3

4



A. Wenn sich das obige Muster fortsetzt, was wird die Fläche des Raster-6 sein?

B. Wenn sich das obige Muster fortsetzt, was wird die Fläche des Raster-8 sein?

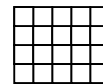
4) \_\_\_\_\_

1

2

3

4



A. Wenn sich das obige Muster fortsetzt, was wird die Fläche des Raster-5 sein?

B. Wenn sich das obige Muster fortsetzt, was wird die Fläche des Raster-8 sein?

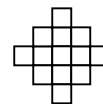
5) \_\_\_\_\_

1

2

3

4



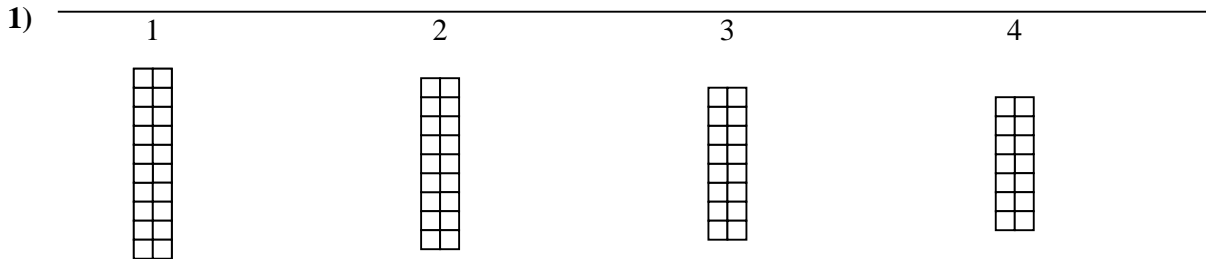
A. Wenn sich das obige Muster fortsetzt, was wird die Fläche des Raster-6 sein?

B. Wenn sich das obige Muster fortsetzt, was wird die Fläche des Raster-7 sein?

1. 21 272. 16 193. 18 244. 25 405. 21 25




Verwenden Sie die Rastermuster, um jede Frage zu beantworten. Jedes SVGREPLACE = 1 Quadrateinheit.

**Antworten**


A. Wenn sich das obige Muster fortsetzt, was wird die Fläche des Raster-5 sein?

B. Wenn sich das obige Muster fortsetzt, was wird die Fläche des Raster-6 sein?



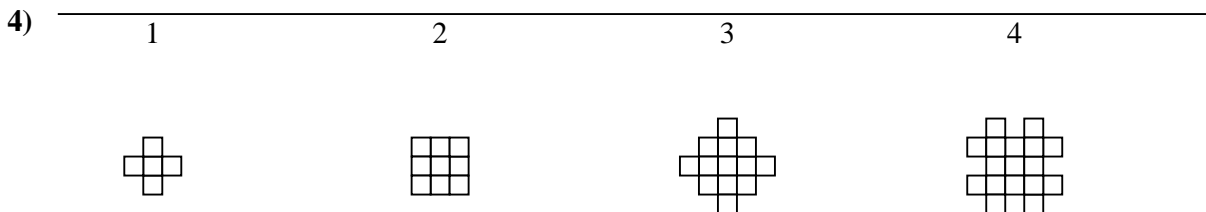
A. Wenn sich das obige Muster fortsetzt, was wird die Fläche des Raster-5 sein?

B. Wenn sich das obige Muster fortsetzt, was wird die Fläche des Raster-8 sein?




A. Wenn sich das obige Muster fortsetzt, was wird die Fläche des Raster-5 sein?

B. Wenn sich das obige Muster fortsetzt, was wird die Fläche des Raster-6 sein?



A. Wenn sich das obige Muster fortsetzt, was wird die Fläche des Raster-6 sein?

B. Wenn sich das obige Muster fortsetzt, was wird die Fläche des Raster-7 sein?



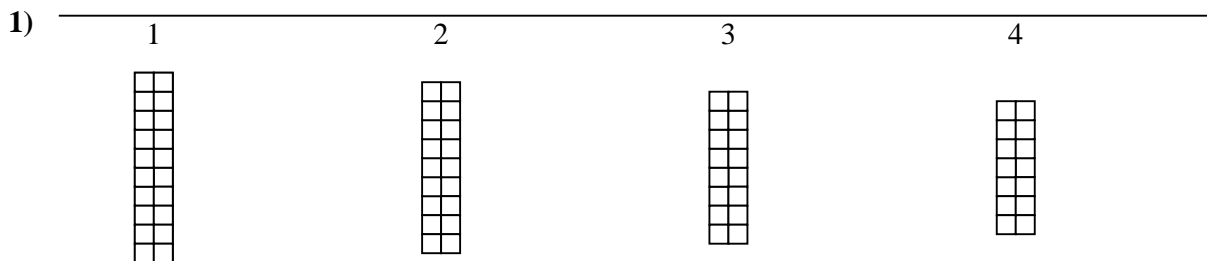
A. Wenn sich das obige Muster fortsetzt, was wird die Fläche des Raster-6 sein?

B. Wenn sich das obige Muster fortsetzt, was wird die Fläche des Raster-8 sein?

1. \_\_\_\_\_
2. \_\_\_\_\_
3. \_\_\_\_\_
4. \_\_\_\_\_
5. \_\_\_\_\_




Verwenden Sie die Rastermuster, um jede Frage zu beantworten. Jedes SVGREPLACE = 1 Quadrateinheit.

**Antworten**


A. Wenn sich das obige Muster fortsetzt, was wird die Fläche des Raster-5 sein?

B. Wenn sich das obige Muster fortsetzt, was wird die Fläche des Raster-6 sein?



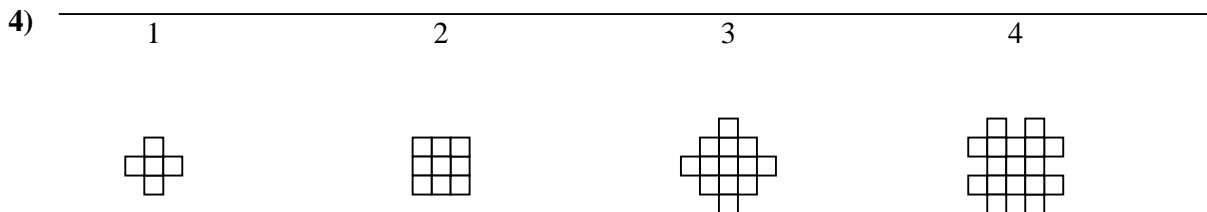
A. Wenn sich das obige Muster fortsetzt, was wird die Fläche des Raster-5 sein?

B. Wenn sich das obige Muster fortsetzt, was wird die Fläche des Raster-8 sein?



A. Wenn sich das obige Muster fortsetzt, was wird die Fläche des Raster-5 sein?

B. Wenn sich das obige Muster fortsetzt, was wird die Fläche des Raster-6 sein?



A. Wenn sich das obige Muster fortsetzt, was wird die Fläche des Raster-6 sein?

B. Wenn sich das obige Muster fortsetzt, was wird die Fläche des Raster-7 sein?



A. Wenn sich das obige Muster fortsetzt, was wird die Fläche des Raster-6 sein?

B. Wenn sich das obige Muster fortsetzt, was wird die Fläche des Raster-8 sein?

1. 12    102. 21    303. 18    224. 25    295. 18    24



Verwenden Sie die Rastermuster, um jede Frage zu beantworten. Jedes SVGREPLACE = 1 Quadrateinheit.

**Antworten**

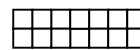
1) \_\_\_\_\_

1

2

3

4



A. Wenn sich das obige Muster fortsetzt, was wird die Fläche des Raster-5 sein?

B. Wenn sich das obige Muster fortsetzt, was wird die Fläche des Raster-8 sein?

2) \_\_\_\_\_

1

2

3

4



A. Wenn sich das obige Muster fortsetzt, was wird die Fläche des Raster-5 sein?

B. Wenn sich das obige Muster fortsetzt, was wird die Fläche des Raster-6 sein?


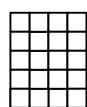
3) \_\_\_\_\_

1

2

3

4



A. Wenn sich das obige Muster fortsetzt, was wird die Fläche des Raster-5 sein?

B. Wenn sich das obige Muster fortsetzt, was wird die Fläche des Raster-8 sein?

4) \_\_\_\_\_

1

2

3

4



A. Wenn sich das obige Muster fortsetzt, was wird die Fläche des Raster-5 sein?

B. Wenn sich das obige Muster fortsetzt, was wird die Fläche des Raster-6 sein?

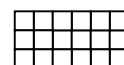
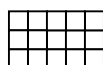
5) \_\_\_\_\_

1

2

3

4



A. Wenn sich das obige Muster fortsetzt, was wird die Fläche des Raster-6 sein?

B. Wenn sich das obige Muster fortsetzt, was wird die Fläche des Raster-7 sein?

1. \_\_\_\_\_

2. \_\_\_\_\_

3. \_\_\_\_\_

4. \_\_\_\_\_

5. \_\_\_\_\_







Verwenden Sie die Rastermuster, um jede Frage zu beantworten. Jedes SVGREPLACE = 1 Quadrateinheit.

**Antworten**


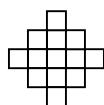
1) \_\_\_\_\_

1

2

3

4



A. Wenn sich das obige Muster fortsetzt, was wird die Fläche des Raster-7 sein?

B. Wenn sich das obige Muster fortsetzt, was wird die Fläche des Raster-8 sein?

2) \_\_\_\_\_

1

2

3

4



A. Wenn sich das obige Muster fortsetzt, was wird die Fläche des Raster-7 sein?

B. Wenn sich das obige Muster fortsetzt, was wird die Fläche des Raster-8 sein?

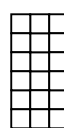

3) \_\_\_\_\_

1

2

3

4



A. Wenn sich das obige Muster fortsetzt, was wird die Fläche des Raster-6 sein?

B. Wenn sich das obige Muster fortsetzt, was wird die Fläche des Raster-7 sein?

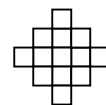
4) \_\_\_\_\_

1

2

3

4



A. Wenn sich das obige Muster fortsetzt, was wird die Fläche des Raster-5 sein?

B. Wenn sich das obige Muster fortsetzt, was wird die Fläche des Raster-7 sein?

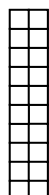
5) \_\_\_\_\_

1

2

3

4



A. Wenn sich das obige Muster fortsetzt, was wird die Fläche des Raster-5 sein?

B. Wenn sich das obige Muster fortsetzt, was wird die Fläche des Raster-7 sein?

1. \_\_\_\_\_
2. \_\_\_\_\_
3. \_\_\_\_\_
4. \_\_\_\_\_
5. \_\_\_\_\_



Verwenden Sie die Rastermuster, um jede Frage zu beantworten. Jedes SVGREPLACE = 1 Quadrateinheit.

**Antworten**

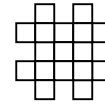
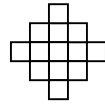
1) \_\_\_\_\_

1

2

3

4



A. Wenn sich das obige Muster fortsetzt, was wird die Fläche des Raster-7 sein?

B. Wenn sich das obige Muster fortsetzt, was wird die Fläche des Raster-8 sein?

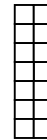
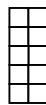
2) \_\_\_\_\_

1

2

3

4



A. Wenn sich das obige Muster fortsetzt, was wird die Fläche des Raster-7 sein?

B. Wenn sich das obige Muster fortsetzt, was wird die Fläche des Raster-8 sein?

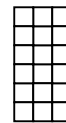
3) \_\_\_\_\_

1

2

3

4



A. Wenn sich das obige Muster fortsetzt, was wird die Fläche des Raster-6 sein?

B. Wenn sich das obige Muster fortsetzt, was wird die Fläche des Raster-7 sein?

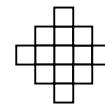
4) \_\_\_\_\_

1

2

3

4



A. Wenn sich das obige Muster fortsetzt, was wird die Fläche des Raster-5 sein?

B. Wenn sich das obige Muster fortsetzt, was wird die Fläche des Raster-7 sein?


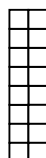
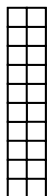
5) \_\_\_\_\_

1

2

3

4



A. Wenn sich das obige Muster fortsetzt, was wird die Fläche des Raster-5 sein?

B. Wenn sich das obige Muster fortsetzt, was wird die Fläche des Raster-7 sein?

1. 29 332. 26 303. 24 274. 17 255. 12 8



Verwenden Sie die Rastermuster, um jede Frage zu beantworten. Jedes SVGREPLACE = 1 Quadrateinheit.

**Antworten**

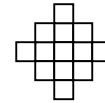
1) \_\_\_\_\_

1

2

3

4



A. Wenn sich das obige Muster fortsetzt, was wird die Fläche des Raster-7 sein?

B. Wenn sich das obige Muster fortsetzt, was wird die Fläche des Raster-8 sein?

2) \_\_\_\_\_

1

2

3

4



A. Wenn sich das obige Muster fortsetzt, was wird die Fläche des Raster-5 sein?

B. Wenn sich das obige Muster fortsetzt, was wird die Fläche des Raster-6 sein?



3) \_\_\_\_\_

1

2

3

4



A. Wenn sich das obige Muster fortsetzt, was wird die Fläche des Raster-5 sein?

B. Wenn sich das obige Muster fortsetzt, was wird die Fläche des Raster-7 sein?

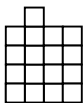
4) \_\_\_\_\_

1

2

3

4



A. Wenn sich das obige Muster fortsetzt, was wird die Fläche des Raster-5 sein?

B. Wenn sich das obige Muster fortsetzt, was wird die Fläche des Raster-6 sein?

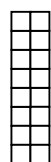
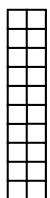
5) \_\_\_\_\_

1

2

3

4



A. Wenn sich das obige Muster fortsetzt, was wird die Fläche des Raster-5 sein?

B. Wenn sich das obige Muster fortsetzt, was wird die Fläche des Raster-6 sein?

1. \_\_\_\_\_

2. \_\_\_\_\_

3. \_\_\_\_\_

4. \_\_\_\_\_

5. \_\_\_\_\_



Verwenden Sie die Rastermuster, um jede Frage zu beantworten. Jedes SVGREPLACE = 1 Quadrateinheit.

**Antworten**

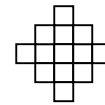
1) \_\_\_\_\_

1

2

3

4



A. Wenn sich das obige Muster fortsetzt, was wird die Fläche des Raster-7 sein?

B. Wenn sich das obige Muster fortsetzt, was wird die Fläche des Raster-8 sein?

2) \_\_\_\_\_

1

2

3

4



A. Wenn sich das obige Muster fortsetzt, was wird die Fläche des Raster-5 sein?

B. Wenn sich das obige Muster fortsetzt, was wird die Fläche des Raster-6 sein?



3) \_\_\_\_\_

1

2

3

4



A. Wenn sich das obige Muster fortsetzt, was wird die Fläche des Raster-5 sein?

B. Wenn sich das obige Muster fortsetzt, was wird die Fläche des Raster-7 sein?

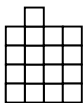
4) \_\_\_\_\_

1

2

3

4



A. Wenn sich das obige Muster fortsetzt, was wird die Fläche des Raster-5 sein?

B. Wenn sich das obige Muster fortsetzt, was wird die Fläche des Raster-6 sein?

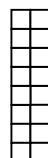
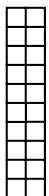
5) \_\_\_\_\_

1

2

3

4



A. Wenn sich das obige Muster fortsetzt, was wird die Fläche des Raster-5 sein?

B. Wenn sich das obige Muster fortsetzt, was wird die Fläche des Raster-6 sein?

1. 25 292. 12 143. 28 364. 9 75. 12 10