



Verwenden Sie die Rastermuster, um jede Frage zu beantworten. Jedes SVGREPLACE = 1 Quadrateinheit.

**Antworten**

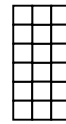
1) \_\_\_\_\_

1

2

3

4



A. Wenn sich das obige Muster fortsetzt, was wird die Fläche des Raster-5 sein?

B. Wenn sich das obige Muster fortsetzt, was wird die Fläche des Raster-7 sein?

2) \_\_\_\_\_

1

2

3

4



A. Wenn sich das obige Muster fortsetzt, was wird die Fläche des Raster-6 sein?

B. Wenn sich das obige Muster fortsetzt, was wird die Fläche des Raster-7 sein?

3) \_\_\_\_\_

1

2

3

4



A. Wenn sich das obige Muster fortsetzt, was wird die Fläche des Raster-6 sein?

B. Wenn sich das obige Muster fortsetzt, was wird die Fläche des Raster-8 sein?

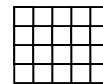
4) \_\_\_\_\_

1

2

3

4



A. Wenn sich das obige Muster fortsetzt, was wird die Fläche des Raster-5 sein?

B. Wenn sich das obige Muster fortsetzt, was wird die Fläche des Raster-8 sein?

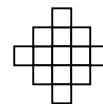
5) \_\_\_\_\_

1

2

3

4



A. Wenn sich das obige Muster fortsetzt, was wird die Fläche des Raster-6 sein?

B. Wenn sich das obige Muster fortsetzt, was wird die Fläche des Raster-7 sein?

1. \_\_\_\_\_

2. \_\_\_\_\_

3. \_\_\_\_\_

4. \_\_\_\_\_

5. \_\_\_\_\_



Verwenden Sie die Rastermuster, um jede Frage zu beantworten. Jedes SVGREPLACE = 1 Quadrateinheit.

**Antworten**



1) \_\_\_\_\_

1

2

3

4



A. Wenn sich das obige Muster fortsetzt, was wird die Fläche des Raster-5 sein?

B. Wenn sich das obige Muster fortsetzt, was wird die Fläche des Raster-7 sein?

2) \_\_\_\_\_

1

2

3

4



A. Wenn sich das obige Muster fortsetzt, was wird die Fläche des Raster-6 sein?

B. Wenn sich das obige Muster fortsetzt, was wird die Fläche des Raster-7 sein?

3) \_\_\_\_\_

1

2

3

4



A. Wenn sich das obige Muster fortsetzt, was wird die Fläche des Raster-6 sein?

B. Wenn sich das obige Muster fortsetzt, was wird die Fläche des Raster-8 sein?

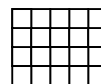
4) \_\_\_\_\_

1

2

3

4



A. Wenn sich das obige Muster fortsetzt, was wird die Fläche des Raster-5 sein?

B. Wenn sich das obige Muster fortsetzt, was wird die Fläche des Raster-8 sein?

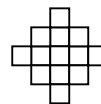
5) \_\_\_\_\_

1

2

3

4



A. Wenn sich das obige Muster fortsetzt, was wird die Fläche des Raster-6 sein?

B. Wenn sich das obige Muster fortsetzt, was wird die Fläche des Raster-7 sein?

1. 21 272. 16 193. 18 244. 25 405. 21 25