



Verwenden Sie die Rastermuster, um jede Frage zu beantworten. Jedes SVGREPLACE = 1 Quadrateinheit.

**Antworten**

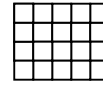
1) \_\_\_\_\_

1

2

3

4



A. Wenn sich das obige Muster fortsetzt, was wird die Fläche des Raster-7 sein?

B. Wenn sich das obige Muster fortsetzt, was wird die Fläche des Raster-8 sein?

2) \_\_\_\_\_

1

2

3

4



A. Wenn sich das obige Muster fortsetzt, was wird die Fläche des Raster-5 sein?

B. Wenn sich das obige Muster fortsetzt, was wird die Fläche des Raster-7 sein?

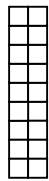
3) \_\_\_\_\_

1

2

3

4



A. Wenn sich das obige Muster fortsetzt, was wird die Fläche des Raster-7 sein?

B. Wenn sich das obige Muster fortsetzt, was wird die Fläche des Raster-8 sein?

4) \_\_\_\_\_

1

2

3

4



A. Wenn sich das obige Muster fortsetzt, was wird die Fläche des Raster-6 sein?

B. Wenn sich das obige Muster fortsetzt, was wird die Fläche des Raster-8 sein?

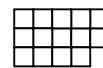
5) \_\_\_\_\_

1

2

3

4



A. Wenn sich das obige Muster fortsetzt, was wird die Fläche des Raster-5 sein?

B. Wenn sich das obige Muster fortsetzt, was wird die Fläche des Raster-7 sein?

1. \_\_\_\_\_
2. \_\_\_\_\_
3. \_\_\_\_\_
4. \_\_\_\_\_
5. \_\_\_\_\_



Verwenden Sie die Rastermuster, um jede Frage zu beantworten. Jedes SVGREPLACE = 1 Quadrateinheit.

**Antworten**

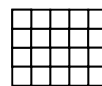
1) \_\_\_\_\_

1

2

3

4



A. Wenn sich das obige Muster fortsetzt, was wird die Fläche des Raster-7 sein?

B. Wenn sich das obige Muster fortsetzt, was wird die Fläche des Raster-8 sein?

2) \_\_\_\_\_

1

2

3

4



A. Wenn sich das obige Muster fortsetzt, was wird die Fläche des Raster-5 sein?

B. Wenn sich das obige Muster fortsetzt, was wird die Fläche des Raster-7 sein?

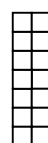

3) \_\_\_\_\_

1

2

3

4



A. Wenn sich das obige Muster fortsetzt, was wird die Fläche des Raster-7 sein?

B. Wenn sich das obige Muster fortsetzt, was wird die Fläche des Raster-8 sein?

4) \_\_\_\_\_

1

2

3

4



A. Wenn sich das obige Muster fortsetzt, was wird die Fläche des Raster-6 sein?

B. Wenn sich das obige Muster fortsetzt, was wird die Fläche des Raster-8 sein?

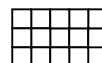
5) \_\_\_\_\_

1

2

3

4



A. Wenn sich das obige Muster fortsetzt, was wird die Fläche des Raster-5 sein?

B. Wenn sich das obige Muster fortsetzt, was wird die Fläche des Raster-7 sein?

1. 35 40

2. 15 21

3. 8 6

4. 16 22

5. 18 26