



Verwenden Sie die Rastermuster, um jede Frage zu beantworten. Jedes SVGREPLACE = 1 Quadrateinheit.

**Antworten**

1) \_\_\_\_\_

1

2

3

4



A. Wenn sich das obige Muster fortsetzt, was wird die Fläche des Raster-6 sein?

B. Wenn sich das obige Muster fortsetzt, was wird die Fläche des Raster-8 sein?

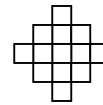
2) \_\_\_\_\_

1

2

3

4



A. Wenn sich das obige Muster fortsetzt, was wird die Fläche des Raster-5 sein?

B. Wenn sich das obige Muster fortsetzt, was wird die Fläche des Raster-8 sein?

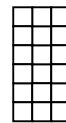
3) \_\_\_\_\_

1

2

3

4



A. Wenn sich das obige Muster fortsetzt, was wird die Fläche des Raster-6 sein?

B. Wenn sich das obige Muster fortsetzt, was wird die Fläche des Raster-8 sein?

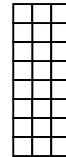
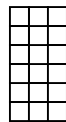
4) \_\_\_\_\_

1

2

3

4



A. Wenn sich das obige Muster fortsetzt, was wird die Fläche des Raster-6 sein?

B. Wenn sich das obige Muster fortsetzt, was wird die Fläche des Raster-8 sein?


5) \_\_\_\_\_

1

2

3

4



A. Wenn sich das obige Muster fortsetzt, was wird die Fläche des Raster-5 sein?

B. Wenn sich das obige Muster fortsetzt, was wird die Fläche des Raster-8 sein?

1. \_\_\_\_\_
2. \_\_\_\_\_
3. \_\_\_\_\_
4. \_\_\_\_\_
5. \_\_\_\_\_



Verwenden Sie die Rastermuster, um jede Frage zu beantworten. Jedes SVGREPLACE = 1 Quadrateinheit.

**Antworten**

1) \_\_\_\_\_

1

2

3

4



A. Wenn sich das obige Muster fortsetzt, was wird die Fläche des Raster-6 sein?

B. Wenn sich das obige Muster fortsetzt, was wird die Fläche des Raster-8 sein?

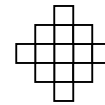
2) \_\_\_\_\_

1

2

3

4



A. Wenn sich das obige Muster fortsetzt, was wird die Fläche des Raster-5 sein?

B. Wenn sich das obige Muster fortsetzt, was wird die Fläche des Raster-8 sein?

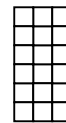
3) \_\_\_\_\_

1

2

3

4



A. Wenn sich das obige Muster fortsetzt, was wird die Fläche des Raster-6 sein?

B. Wenn sich das obige Muster fortsetzt, was wird die Fläche des Raster-8 sein?

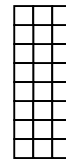
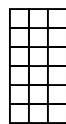
4) \_\_\_\_\_

1

2

3

4



A. Wenn sich das obige Muster fortsetzt, was wird die Fläche des Raster-6 sein?

B. Wenn sich das obige Muster fortsetzt, was wird die Fläche des Raster-8 sein?


5) \_\_\_\_\_

1

2

3

4



A. Wenn sich das obige Muster fortsetzt, was wird die Fläche des Raster-5 sein?

B. Wenn sich das obige Muster fortsetzt, was wird die Fläche des Raster-8 sein?

1. 13    172. 17    293. 24    304. 36    485. 25    40