



Bestimme, ob der gezeigte Winkel 'mehr', 'weniger' oder 'gleich' 90° ist.

Antworten

Bsp)

Bsp. weniger

- 1. _____
- 2. _____
- 3. _____
- 4. _____
- 5. _____
- 6. _____
- 7. _____
- 8. _____
- 9. _____
- 10. _____
- 11. _____
- 12. _____
- 13. _____
- 14. _____
- 15. _____
- 16. _____
- 17. _____
- 18. _____
- 19. _____
- 20. _____

1)



2)



3)



4)



5)



6)



7)



8)



9)



10)



11)



12)



13)



14)



15)



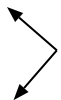
16)



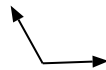
17)



18)



19)



20)





Bestimme, ob der gezeigte Winkel 'mehr', 'weniger' oder 'gleich' 90° ist.

Antworten

Bsp)

Bsp. weniger

1. mehr

2. mehr

3. weniger

4. gleich

5. mehr

6. gleich

7. gleich

8. gleich

9. mehr

10. weniger

11. gleich

12. mehr

13. mehr

14. weniger

15. weniger

16. gleich

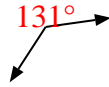
17. weniger

18. gleich

19. mehr

20. gleich

1)



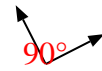
2)



3)



4)



5)



6)



7)



8)



9)



10)



11)



12)



13)



14)



15)



16)



17)



18)



19)



20)

